

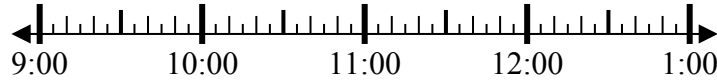


Решите каждую задачу.

1) Начало: 9:20

истек: 1 ч и 25 мин

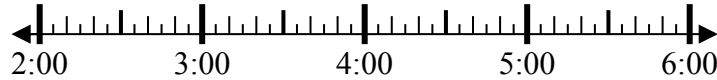
Конец: \_\_\_\_\_



2) Начало: 2:00

истек: 2 ч и 55 мин

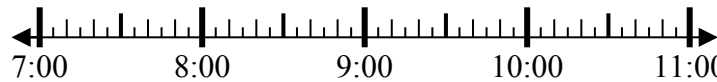
Конец: \_\_\_\_\_



3) Начало: 7:40

истек: 2 ч и 15 мин

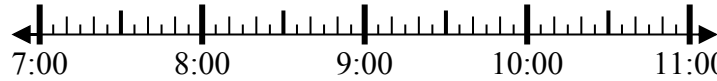
Конец: \_\_\_\_\_



4) Начало: 7:15

истек: 1 ч и 10 мин

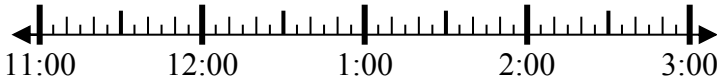
Конец: \_\_\_\_\_



5) Начало: 11:15

истек: 2 ч и 25 мин

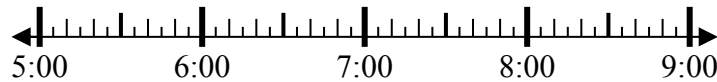
Конец: \_\_\_\_\_



6) Начало: 5:30

истек: 1 ч и 25 мин

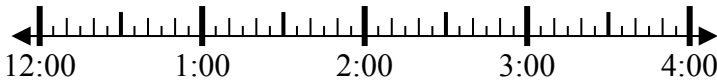
Конец: \_\_\_\_\_



7) Начало: 12:00

истек: 2 ч и 40 мин

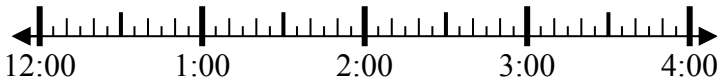
Конец: \_\_\_\_\_



8) Начало: 12:15

истек: 1 ч и 20 мин

Конец: \_\_\_\_\_



Ответы

1. \_\_\_\_\_

2. \_\_\_\_\_

3. \_\_\_\_\_

4. \_\_\_\_\_

5. \_\_\_\_\_

6. \_\_\_\_\_

7. \_\_\_\_\_

8. \_\_\_\_\_

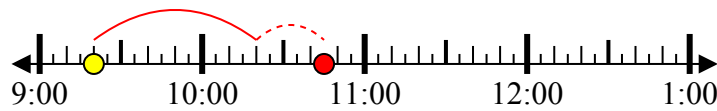


Решите каждую задачу.

1) Начало: 9:20

истек: 1 ч и 25 мин

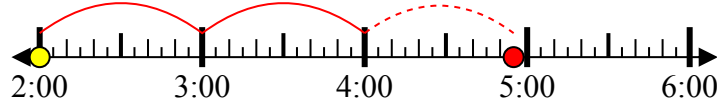
Конец: 10:45



2) Начало: 2:00

истек: 2 ч и 55 мин

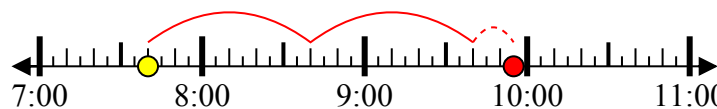
Конец: 4:55



3) Начало: 7:40

истек: 2 ч и 15 мин

Конец: 9:55



4) Начало: 7:15

истек: 1 ч и 10 мин

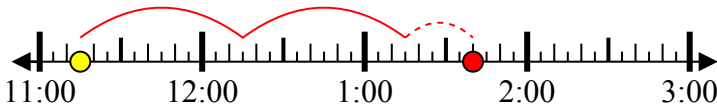
Конец: 8:25



5) Начало: 11:15

истек: 2 ч и 25 мин

Конец: 1:40



6) Начало: 5:30

истек: 1 ч и 25 мин

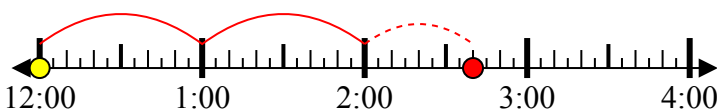
Конец: 6:55



7) Начало: 12:00

истек: 2 ч и 40 мин

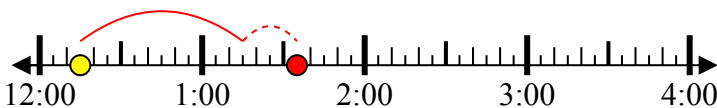
Конец: 2:40



8) Начало: 12:15

истек: 1 ч и 20 мин

Конец: 1:35



**Отвeты**

1. 10:45

2. 4:55

3. 9:55

4. 8:25

5. 1:40

6. 6:55

7. 2:40

8. 1:35