



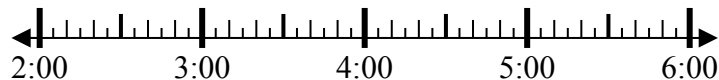
Решите каждую задачу.

Ответы

1) Начало: 2:00

истек: 1 ч и 45 мин

Конец: _____

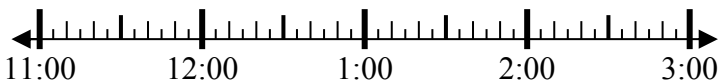


1. _____

2) Начало: 11:35

истек: 2 ч и 45 мин

Конец: _____

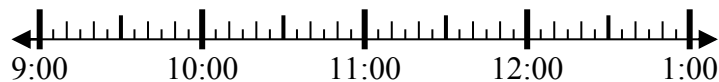


2. _____

3) Начало: 9:00

истек: 1 ч и 10 мин

Конец: _____

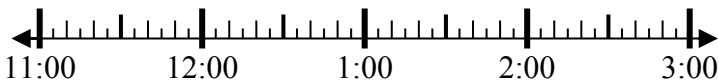


3. _____

4) Начало: 11:45

истек: 1 ч и 20 мин

Конец: _____



4. _____

5) Начало: 12:20

истек: 1 ч и 15 мин

Конец: _____

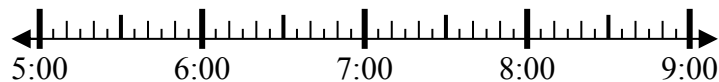


5. _____

6) Начало: 5:25

истек: 1 ч и 10 мин

Конец: _____

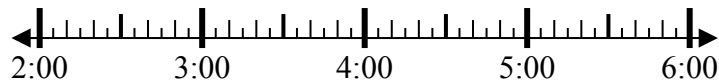


6. _____

7) Начало: 2:35

истек: 1 ч и 45 мин

Конец: _____

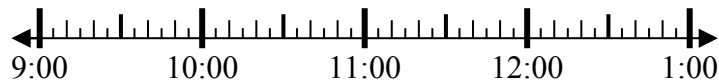


7. _____

8) Начало: 9:35

истек: 2 ч и 45 мин

Конец: _____



8. _____

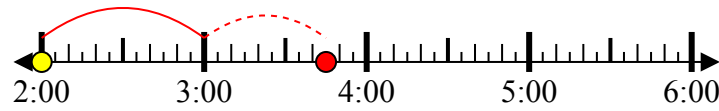


Решите каждую задачу.

1) Начало: 2:00

истек: 1 ч и 45 мин

Конец: 3:45



2) Начало: 11:35

истек: 2 ч и 45 мин

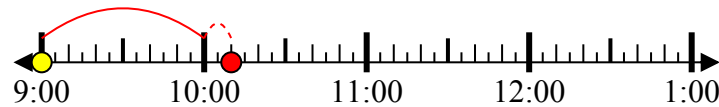
Конец: 2:20



3) Начало: 9:00

истек: 1 ч и 10 мин

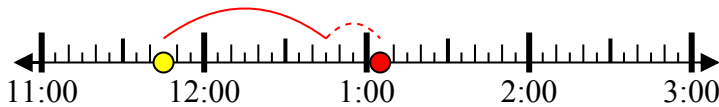
Конец: 10:10



4) Начало: 11:45

истек: 1 ч и 20 мин

Конец: 1:05



5) Начало: 12:20

истек: 1 ч и 15 мин

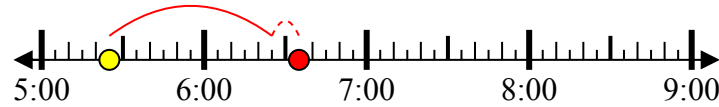
Конец: 1:35



6) Начало: 5:25

истек: 1 ч и 10 мин

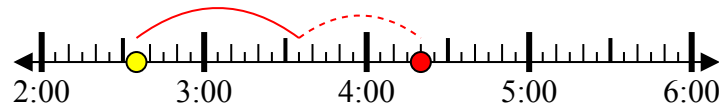
Конец: 6:35



7) Начало: 2:35

истек: 1 ч и 45 мин

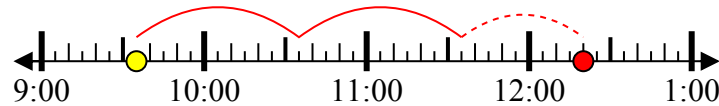
Конец: 4:20



8) Начало: 9:35

истек: 2 ч и 45 мин

Конец: 12:20



Ответы

1. 3:45

2. 2:20

3. 10:10

4. 1:05

5. 1:35

6. 6:35

7. 4:20

8. 12:20