



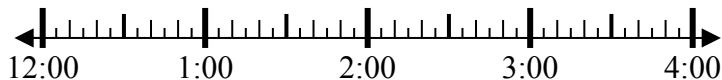
Решите каждую задачу.

Ответы

1) Начало: 12:10

истек: 1 ч и 25 мин

Конец: \_\_\_\_\_



1. \_\_\_\_\_

2) Начало: 6:40

истек: 2 ч и 10 мин

Конец: \_\_\_\_\_

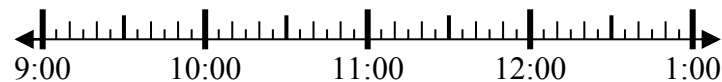


2. \_\_\_\_\_

3) Начало: 9:05

истек: 2 ч и 50 мин

Конец: \_\_\_\_\_

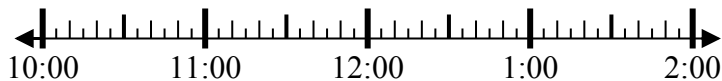


3. \_\_\_\_\_

4) Начало: 10:45

истек: 2 ч и 40 мин

Конец: \_\_\_\_\_



4. \_\_\_\_\_

5) Начало: 5:35

истек: 1 ч и 30 мин

Конец: \_\_\_\_\_



5. \_\_\_\_\_

6) Начало: 8:15

истек: 2 ч и 25 мин

Конец: \_\_\_\_\_

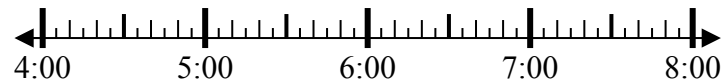


6. \_\_\_\_\_

7) Начало: 4:10

истек: 2 ч и 55 мин

Конец: \_\_\_\_\_



7. \_\_\_\_\_

8) Начало: 4:00

истек: 2 ч и 20 мин

Конец: \_\_\_\_\_



8. \_\_\_\_\_



Решите каждую задачу.

1) Начало: 12:10

истек: 1 ч и 25 мин

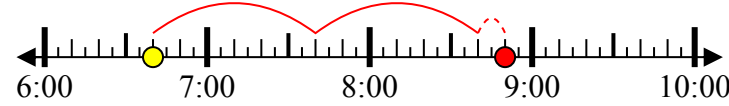
Конец: 1:35



2) Начало: 6:40

истек: 2 ч и 10 мин

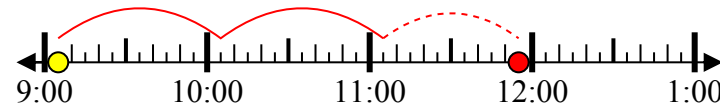
Конец: 8:50



3) Начало: 9:05

истек: 2 ч и 50 мин

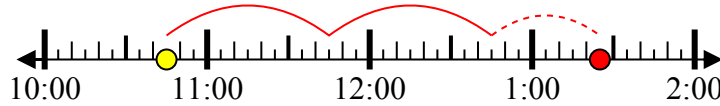
Конец: 11:55



4) Начало: 10:45

истек: 2 ч и 40 мин

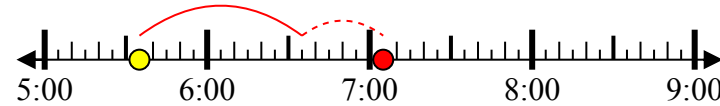
Конец: 1:25



5) Начало: 5:35

истек: 1 ч и 30 мин

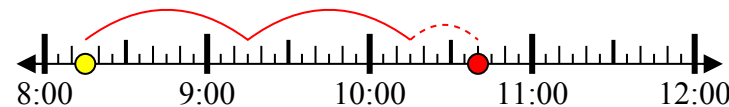
Конец: 7:05



6) Начало: 8:15

истек: 2 ч и 25 мин

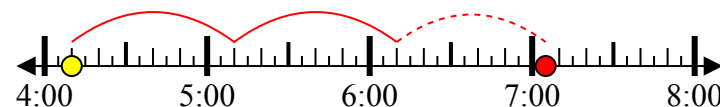
Конец: 10:40



7) Начало: 4:10

истек: 2 ч и 55 мин

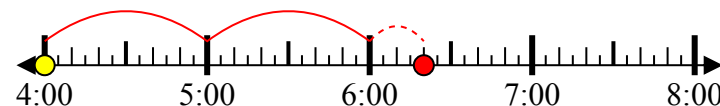
Конец: 7:05



8) Начало: 4:00

истек: 2 ч и 20 мин

Конец: 6:20



**Отвeты**

1. 1:35

2. 8:50

3. 11:55

4. 1:25

5. 7:05

6. 10:40

7. 7:05

8. 6:20