



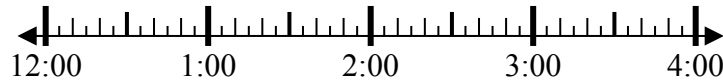
Решите каждую задачу.

Ответы

1) Начало: 12:15

истек: 1 ч и 35 мин

Конец: _____

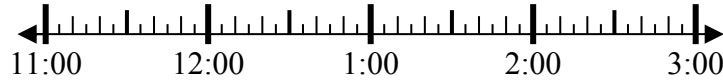


1. _____

2) Начало: 11:30

истек: 1 ч и 25 мин

Конец: _____



2. _____

3) Начало: 5:10

истек: 1 ч и 35 мин

Конец: _____

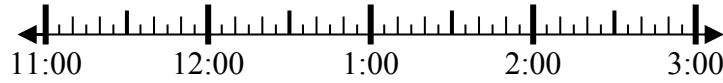


3. _____

4) Начало: 11:00

истек: 1 ч и 10 мин

Конец: _____



4. _____

5) Начало: 12:30

истек: 1 ч и 10 мин

Конец: _____



5. _____

6) Начало: 12:40

истек: 1 ч и 25 мин

Конец: _____

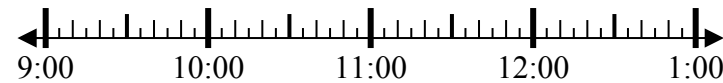


6. _____

7) Начало: 9:40

истек: 1 ч и 50 мин

Конец: _____

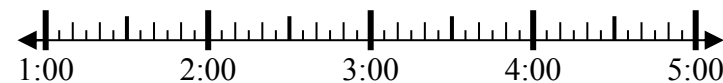


7. _____

8) Начало: 1:35

истек: 2 ч и 45 мин

Конец: _____



8. _____

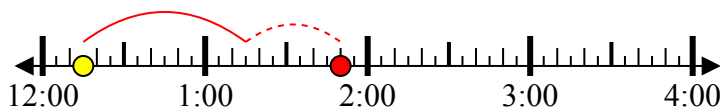


Решите каждую задачу.

1) Начало: 12:15

истек: 1 ч и 35 мин

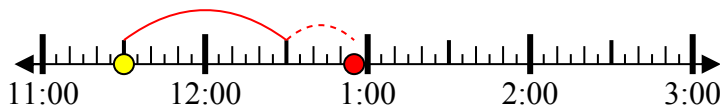
Конец: 1:50



2) Начало: 11:30

истек: 1 ч и 25 мин

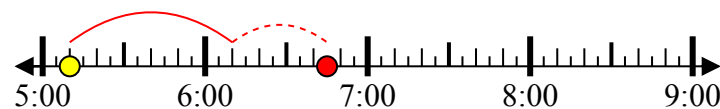
Конец: 12:55



3) Начало: 5:10

истек: 1 ч и 35 мин

Конец: 6:45



4) Начало: 11:00

истек: 1 ч и 10 мин

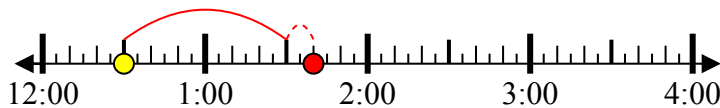
Конец: 12:10



5) Начало: 12:30

истек: 1 ч и 10 мин

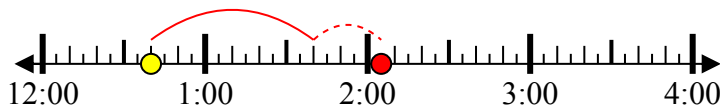
Конец: 1:40



6) Начало: 12:40

истек: 1 ч и 25 мин

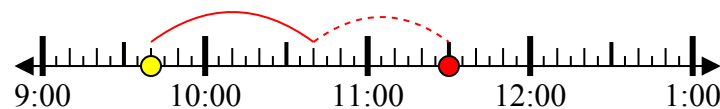
Конец: 2:05



7) Начало: 9:40

истек: 1 ч и 50 мин

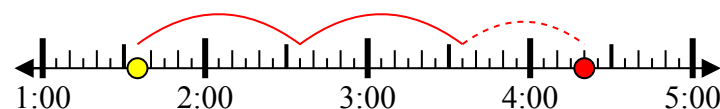
Конец: 11:30



8) Начало: 1:35

истек: 2 ч и 45 мин

Конец: 4:20



Ответы

1. 1:50

2. 12:55

3. 6:45

4. 12:10

5. 1:40

6. 2:05

7. 11:30

8. 4:20