



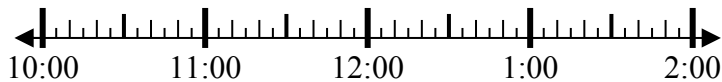
Решите каждую задачу.

Ответы

1) Начало: 10:50

истек: 2 ч и 30 мин

Конец: \_\_\_\_\_



1. \_\_\_\_\_

2) Начало: 5:10

истек: 1 ч и 25 мин

Конец: \_\_\_\_\_

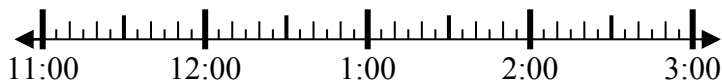


2. \_\_\_\_\_

3) Начало: 11:40

истек: 1 ч и 35 мин

Конец: \_\_\_\_\_

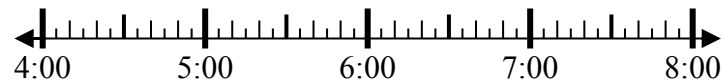


3. \_\_\_\_\_

4) Начало: 4:20

истек: 2 ч и 15 мин

Конец: \_\_\_\_\_



4. \_\_\_\_\_

5) Начало: 5:15

истек: 2 ч и 25 мин

Конец: \_\_\_\_\_

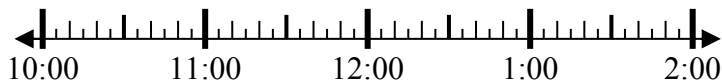


5. \_\_\_\_\_

6) Начало: 10:20

истек: 2 ч и 35 мин

Конец: \_\_\_\_\_



6. \_\_\_\_\_

7) Начало: 12:45

истек: 2 ч и 50 мин

Конец: \_\_\_\_\_

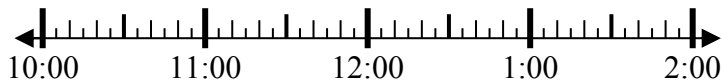


7. \_\_\_\_\_

8) Начало: 10:40

истек: 1 ч и 30 мин

Конец: \_\_\_\_\_



8. \_\_\_\_\_

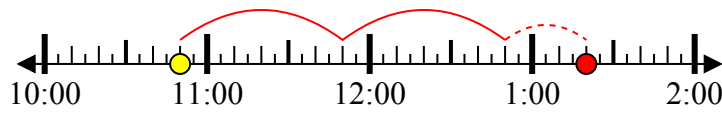


Решите каждую задачу.

1) Начало: 10:50

истек: 2 ч и 30 мин

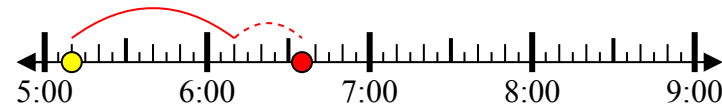
Конец: 1:20



2) Начало: 5:10

истек: 1 ч и 25 мин

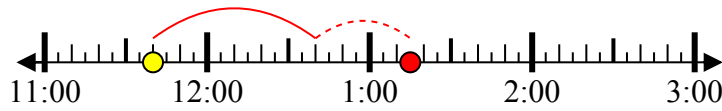
Конец: 6:35



3) Начало: 11:40

истек: 1 ч и 35 мин

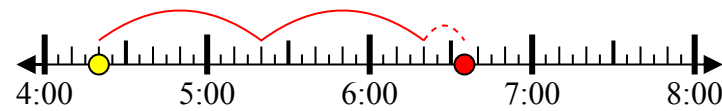
Конец: 1:15



4) Начало: 4:20

истек: 2 ч и 15 мин

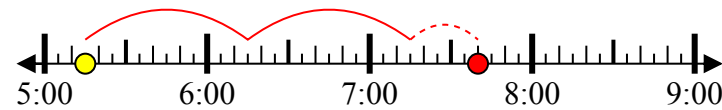
Конец: 6:35



5) Начало: 5:15

истек: 2 ч и 25 мин

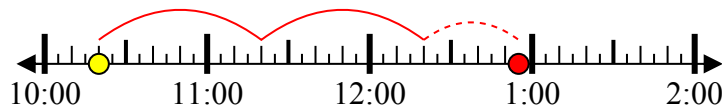
Конец: 7:40



6) Начало: 10:20

истек: 2 ч и 35 мин

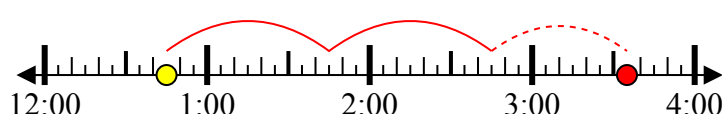
Конец: 12:55



7) Начало: 12:45

истек: 2 ч и 50 мин

Конец: 3:35



8) Начало: 10:40

истек: 1 ч и 30 мин

Конец: 12:10



**Ответы**

1. 1:20

2. 6:35

3. 1:15

4. 6:35

5. 7:40

6. 12:55

7. 3:35

8. 12:10