

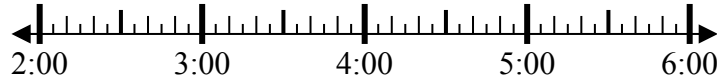


Решите каждую задачу.

1) Начало: 2:40

истек: 2 ч и 35 мин

Конец: _____

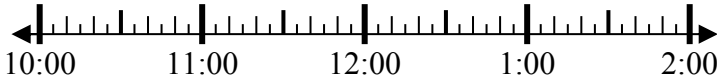


1. _____

2) Начало: 10:30

истек: 1 ч и 10 мин

Конец: _____

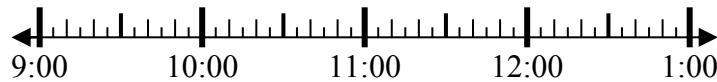


2. _____

3) Начало: 9:40

истек: 1 ч и 50 мин

Конец: _____

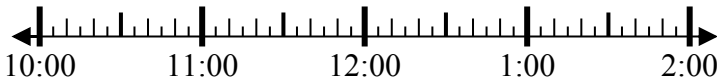


3. _____

4) Начало: 10:20

истек: 1 ч и 10 мин

Конец: _____

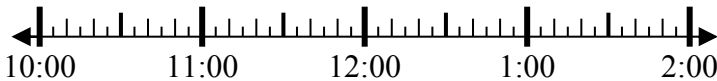


4. _____

5) Начало: 10:05

истек: 1 ч и 30 мин

Конец: _____

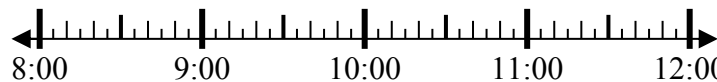


5. _____

6) Начало: 8:40

истек: 1 ч и 20 мин

Конец: _____

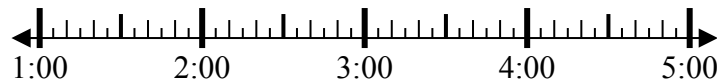


6. _____

7) Начало: 1:40

истек: 1 ч и 35 мин

Конец: _____



7. _____

8) Начало: 3:05

истек: 1 ч и 30 мин

Конец: _____



8. _____

Ответы

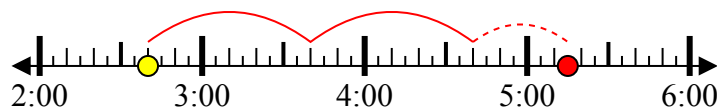


Решите каждую задачу.

1) Начало: 2:40

истек: 2 ч и 35 мин

Конец: 5:15



2) Начало: 10:30

истек: 1 ч и 10 мин

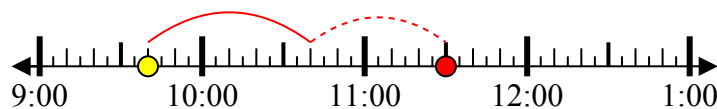
Конец: 11:40



3) Начало: 9:40

истек: 1 ч и 50 мин

Конец: 11:30



4) Начало: 10:20

истек: 1 ч и 10 мин

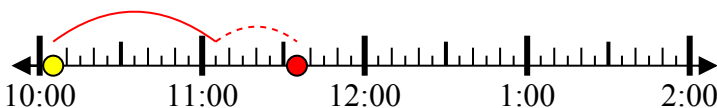
Конец: 11:30



5) Начало: 10:05

истек: 1 ч и 30 мин

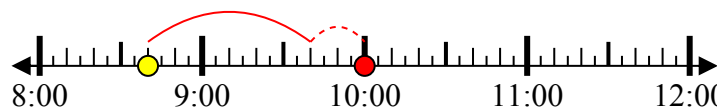
Конец: 11:35



6) Начало: 8:40

истек: 1 ч и 20 мин

Конец: 10:00



7) Начало: 1:40

истек: 1 ч и 35 мин

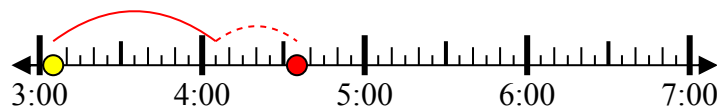
Конец: 3:15



8) Начало: 3:05

истек: 1 ч и 30 мин

Конец: 4:35



Отвeты

1. 5:15

2. 11:40

3. 11:30

4. 11:30

5. 11:35

6. 10:00

7. 3:15

8. 4:35