



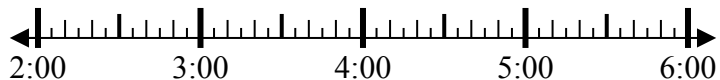
Решите каждую задачу.

Ответы

1) Начало: \_\_\_\_\_

истек: 1 ч и 40 мин

Конец: 3:55

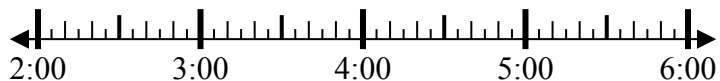


1. \_\_\_\_\_

2) Начало: \_\_\_\_\_

истек: 2 ч и 45 мин

Конец: 4:55

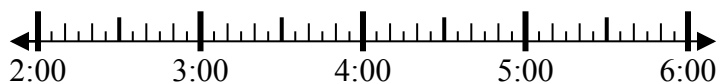


2. \_\_\_\_\_

3) Начало: \_\_\_\_\_

истек: 2 ч и 10 мин

Конец: 4:55

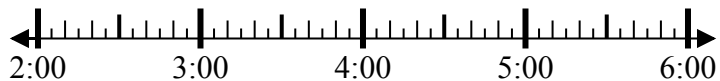


3. \_\_\_\_\_

4) Начало: \_\_\_\_\_

истек: 1 ч и 20 мин

Конец: 3:40



4. \_\_\_\_\_

5) Начало: \_\_\_\_\_

истек: 2 ч и 25 мин

Конец: 1:30

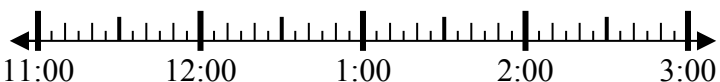


5. \_\_\_\_\_

6) Начало: \_\_\_\_\_

истек: 2 ч и 20 мин

Конец: 1:25



6. \_\_\_\_\_

7) Начало: \_\_\_\_\_

истек: 2 ч и 20 мин

Конец: 6:05



7. \_\_\_\_\_

8) Начало: \_\_\_\_\_

истек: 1 ч и 30 мин

Конец: 7:50

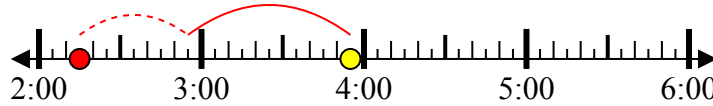


8. \_\_\_\_\_

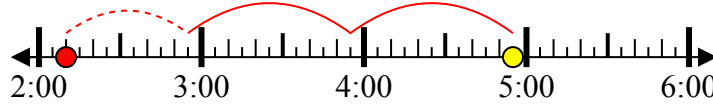


Решите каждую задачу.

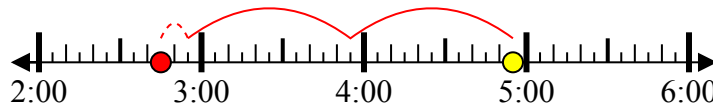
1) Начало: 2:15  
 истек: 1 ч и 40 мин  
 Конец: 3:55



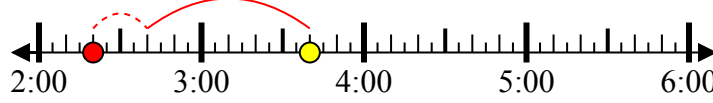
2) Начало: 2:10  
 истек: 2 ч и 45 мин  
 Конец: 4:55



3) Начало: 2:45  
 истек: 2 ч и 10 мин  
 Конец: 4:55



4) Начало: 2:20  
 истек: 1 ч и 20 мин  
 Конец: 3:40



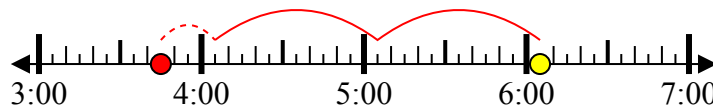
5) Начало: 11:05  
 истек: 2 ч и 25 мин  
 Конец: 1:30



6) Начало: 11:05  
 истек: 2 ч и 20 мин  
 Конец: 1:25



7) Начало: 3:45  
 истек: 2 ч и 20 мин  
 Конец: 6:05



8) Начало: 6:20  
 истек: 1 ч и 30 мин  
 Конец: 7:50



**Ответы**

1. 2:15

2. 2:10

3. 2:45

4. 2:20

5. 11:05

6. 11:05

7. 3:45

8. 6:20