



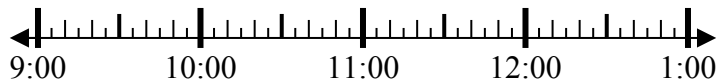
Решите каждую задачу.

Ответы

1) Начало: \_\_\_\_\_

истек: 1 ч и 25 мин

Конец: 10:45

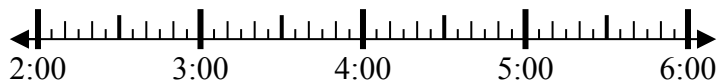


1. \_\_\_\_\_

2) Начало: \_\_\_\_\_

истек: 2 ч и 55 мин

Конец: 4:55



2. \_\_\_\_\_

3) Начало: \_\_\_\_\_

истек: 2 ч и 15 мин

Конец: 9:55



3. \_\_\_\_\_

4) Начало: \_\_\_\_\_

истек: 1 ч и 10 мин

Конец: 8:25



4. \_\_\_\_\_

5) Начало: \_\_\_\_\_

истек: 2 ч и 25 мин

Конец: 1:40



5. \_\_\_\_\_

6) Начало: \_\_\_\_\_

истек: 1 ч и 25 мин

Конец: 6:55



6. \_\_\_\_\_

7) Начало: \_\_\_\_\_

истек: 2 ч и 40 мин

Конец: 2:40



7. \_\_\_\_\_

8) Начало: \_\_\_\_\_

истек: 1 ч и 20 мин

Конец: 1:35

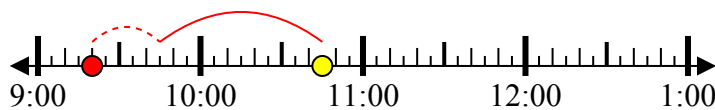


8. \_\_\_\_\_

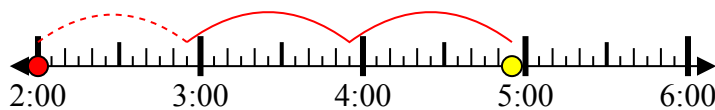


Решите каждую задачу.

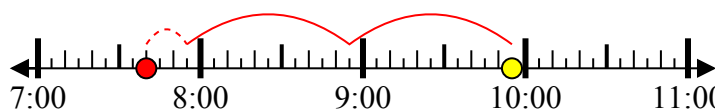
1) Начало: 9:20  
 истек: 1 ч и 25 мин  
 Конец: 10:45



2) Начало: 2:00  
 истек: 2 ч и 55 мин  
 Конец: 4:55



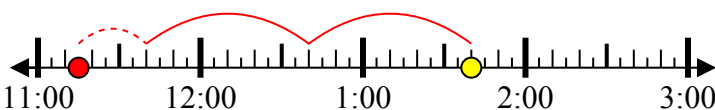
3) Начало: 7:40  
 истек: 2 ч и 15 мин  
 Конец: 9:55



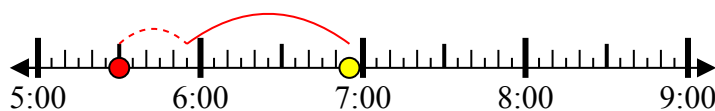
4) Начало: 7:15  
 истек: 1 ч и 10 мин  
 Конец: 8:25



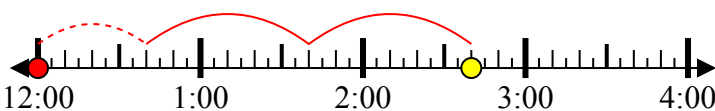
5) Начало: 11:15  
 истек: 2 ч и 25 мин  
 Конец: 1:40



6) Начало: 5:30  
 истек: 1 ч и 25 мин  
 Конец: 6:55



7) Начало: 12:00  
 истек: 2 ч и 40 мин  
 Конец: 2:40



8) Начало: 12:15  
 истек: 1 ч и 20 мин  
 Конец: 1:35



**Ответы**

1. 9:20

2. 2:00

3. 7:40

4. 7:15

5. 11:15

6. 5:30

7. 12:00

8. 12:15