



Решите каждую задачу.

Ответы

1) Начало: \_\_\_\_\_

истек: 1 ч и 10 мин

Конец: 7:55

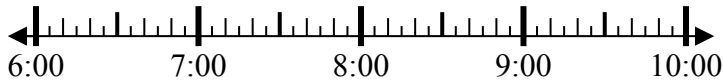


1. \_\_\_\_\_

2) Начало: \_\_\_\_\_

истек: 2 ч и 40 мин

Конец: 9:05

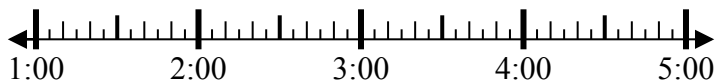


2. \_\_\_\_\_

3) Начало: \_\_\_\_\_

истек: 1 ч и 50 мин

Конец: 3:00



3. \_\_\_\_\_

4) Начало: \_\_\_\_\_

истек: 1 ч и 45 мин

Конец: 1:00

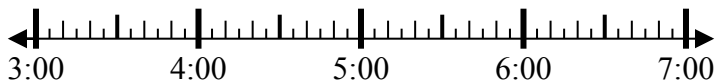


4. \_\_\_\_\_

5) Начало: \_\_\_\_\_

истек: 2 ч и 10 мин

Конец: 5:35



5. \_\_\_\_\_

6) Начало: \_\_\_\_\_

истек: 2 ч и 35 мин

Конец: 5:55

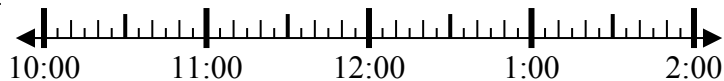


6. \_\_\_\_\_

7) Начало: \_\_\_\_\_

истек: 1 ч и 50 мин

Конец: 12:25



7. \_\_\_\_\_

8) Начало: \_\_\_\_\_

истек: 1 ч и 30 мин

Конец: 11:30



8. \_\_\_\_\_

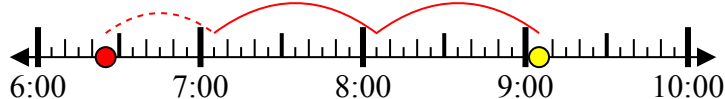


Решите каждую задачу.

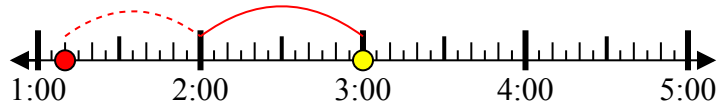
1) Начало: 6:45  
 истек: 1 ч и 10 мин  
 Конец: 7:55



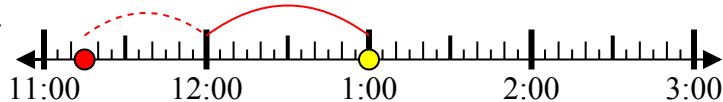
2) Начало: 6:25  
 истек: 2 ч и 40 мин  
 Конец: 9:05



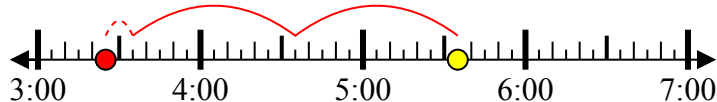
3) Начало: 1:10  
 истек: 1 ч и 50 мин  
 Конец: 3:00



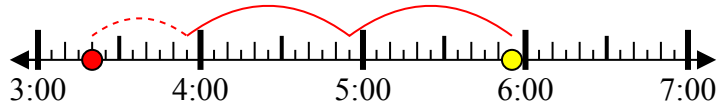
4) Начало: 11:15  
 истек: 1 ч и 45 мин  
 Конец: 1:00



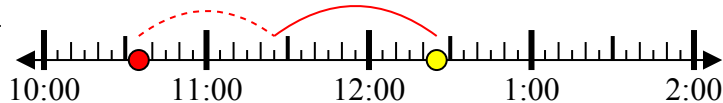
5) Начало: 3:25  
 истек: 2 ч и 10 мин  
 Конец: 5:35



6) Начало: 3:20  
 истек: 2 ч и 35 мин  
 Конец: 5:55



7) Начало: 10:35  
 истек: 1 ч и 50 мин  
 Конец: 12:25



8) Начало: 10:00  
 истек: 1 ч и 30 мин  
 Конец: 11:30



**Ответы**

1. 6:45

2. 6:25

3. 1:10

4. 11:15

5. 3:25

6. 3:20

7. 10:35

8. 10:00