



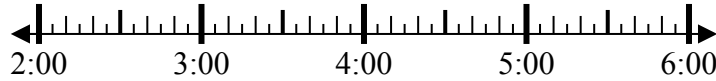
Решите каждую задачу.

Ответы

1) Начало: _____

истек: 1 ч и 45 мин

Конец: 3:45

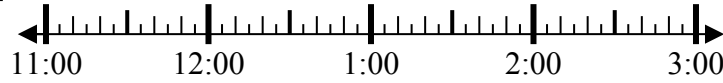


1. _____

2) Начало: _____

истек: 2 ч и 45 мин

Конец: 2:20

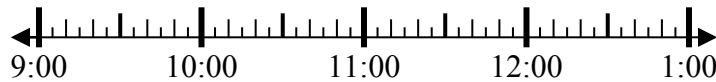


2. _____

3) Начало: _____

истек: 1 ч и 10 мин

Конец: 10:10



3. _____

4) Начало: _____

истек: 1 ч и 20 мин

Конец: 1:05



4. _____

5) Начало: _____

истек: 1 ч и 15 мин

Конец: 1:35

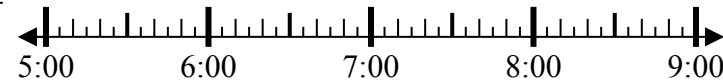


5. _____

6) Начало: _____

истек: 1 ч и 10 мин

Конец: 6:35

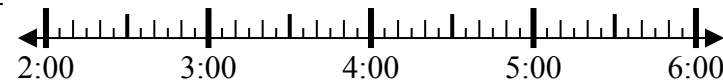


6. _____

7) Начало: _____

истек: 1 ч и 45 мин

Конец: 4:20

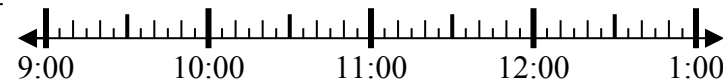


7. _____

8) Начало: _____

истек: 2 ч и 45 мин

Конец: 12:20



8. _____



Решите каждую задачу.

1) Начало: 2:00
 истек: 1 ч и 45 мин
 Конец: 3:45



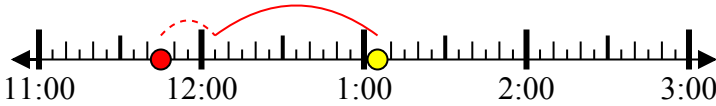
2) Начало: 11:35
 истек: 2 ч и 45 мин
 Конец: 2:20



3) Начало: 9:00
 истек: 1 ч и 10 мин
 Конец: 10:10



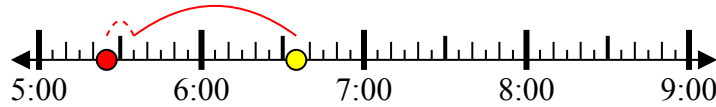
4) Начало: 11:45
 истек: 1 ч и 20 мин
 Конец: 1:05



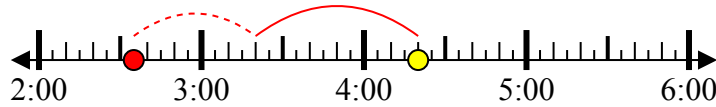
5) Начало: 12:20
 истек: 1 ч и 15 мин
 Конец: 1:35



6) Начало: 5:25
 истек: 1 ч и 10 мин
 Конец: 6:35



7) Начало: 2:35
 истек: 1 ч и 45 мин
 Конец: 4:20



8) Начало: 9:35
 истек: 2 ч и 45 мин
 Конец: 12:20



Ответы

1. 2:00

2. 11:35

3. 9:00

4. 11:45

5. 12:20

6. 5:25

7. 2:35

8. 9:35