



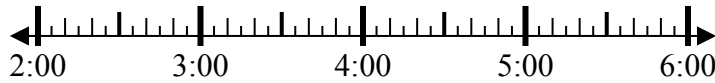
Решите каждую задачу.

ОТВЕТЫ

1) Начало: _____

истек: 2 ч и 50 мин

Конец: 5:40

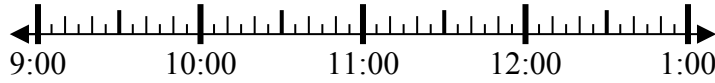


1. _____

2) Начало: _____

истек: 1 ч и 10 мин

Конец: 10:20

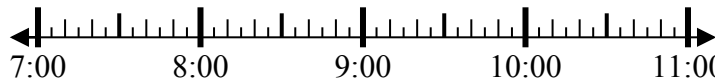


2. _____

3) Начало: _____

истек: 1 ч и 15 мин

Конец: 8:20

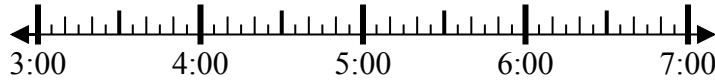


3. _____

4) Начало: _____

истек: 1 ч и 15 мин

Конец: 4:15

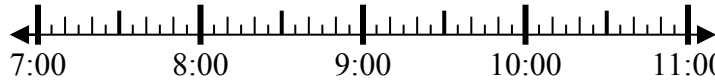


4. _____

5) Начало: _____

истек: 1 ч и 40 мин

Конец: 8:55

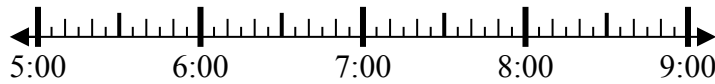


5. _____

6) Начало: _____

истек: 2 ч и 15 мин

Конец: 7:15

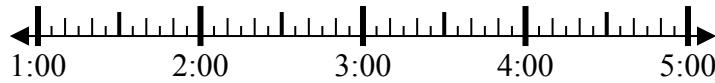


6. _____

7) Начало: _____

истек: 2 ч и 45 мин

Конец: 3:45

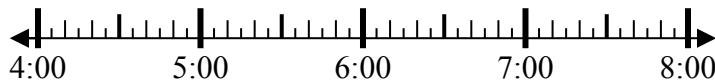


7. _____

8) Начало: _____

истек: 1 ч и 20 мин

Конец: 5:55

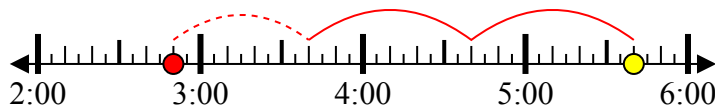


8. _____



Решите каждую задачу.

1) Начало: 2:50
 истек: 2 ч и 50 мин
 Конец: 5:40



2) Начало: 9:10
 истек: 1 ч и 10 мин
 Конец: 10:20



3) Начало: 7:05
 истек: 1 ч и 15 мин
 Конец: 8:20



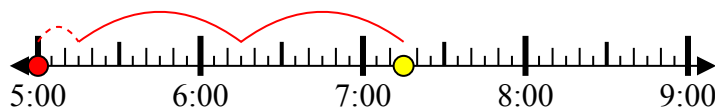
4) Начало: 3:00
 истек: 1 ч и 15 мин
 Конец: 4:15



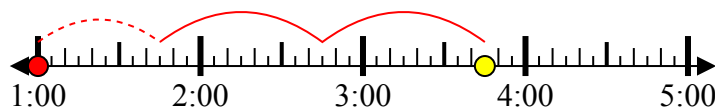
5) Начало: 7:15
 истек: 1 ч и 40 мин
 Конец: 8:55



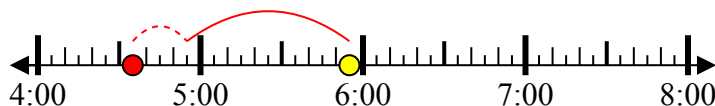
6) Начало: 5:00
 истек: 2 ч и 15 мин
 Конец: 7:15



7) Начало: 1:00
 истек: 2 ч и 45 мин
 Конец: 3:45



8) Начало: 4:35
 истек: 1 ч и 20 мин
 Конец: 5:55



Ответы

1. 2:50

2. 9:10

3. 7:05

4. 3:00

5. 7:15

6. 5:00

7. 1:00

8. 4:35