



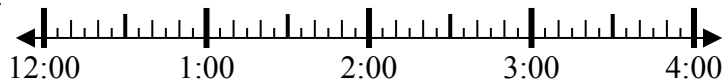
Решите каждую задачу.

ОТВЕТЫ

1) Начало: \_\_\_\_\_

истек: 1 ч и 25 мин

Конец: 1:35

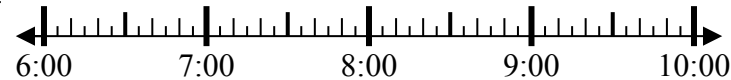


1. \_\_\_\_\_

2) Начало: \_\_\_\_\_

истек: 2 ч и 10 мин

Конец: 8:50

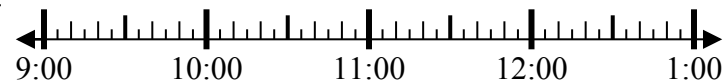


2. \_\_\_\_\_

3) Начало: \_\_\_\_\_

истек: 2 ч и 50 мин

Конец: 11:55

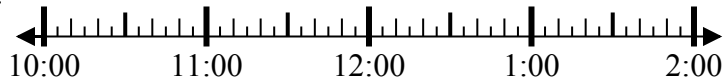


3. \_\_\_\_\_

4) Начало: \_\_\_\_\_

истек: 2 ч и 40 мин

Конец: 1:25



4. \_\_\_\_\_

5) Начало: \_\_\_\_\_

истек: 1 ч и 30 мин

Конец: 7:05

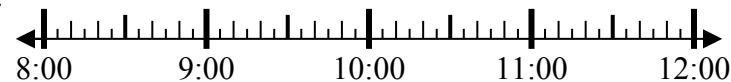


5. \_\_\_\_\_

6) Начало: \_\_\_\_\_

истек: 2 ч и 25 мин

Конец: 10:40

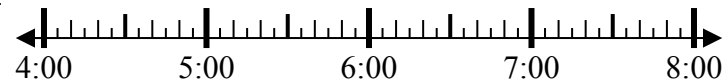


6. \_\_\_\_\_

7) Начало: \_\_\_\_\_

истек: 2 ч и 55 мин

Конец: 7:05

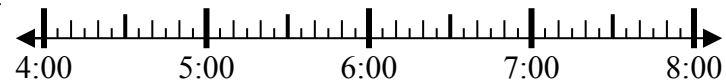


7. \_\_\_\_\_

8) Начало: \_\_\_\_\_

истек: 2 ч и 20 мин

Конец: 6:20

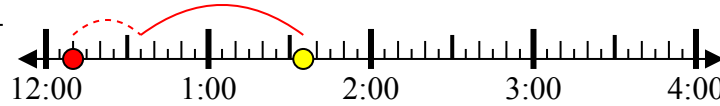


8. \_\_\_\_\_

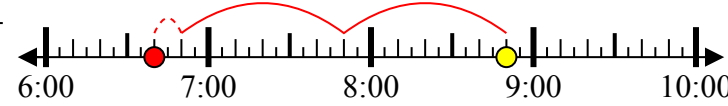


Решите каждую задачу.

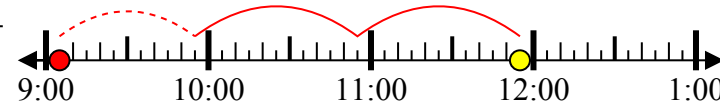
1) Начало: 12:10  
 истек: 1 ч и 25 мин  
 Конец: 1:35



2) Начало: 6:40  
 истек: 2 ч и 10 мин  
 Конец: 8:50



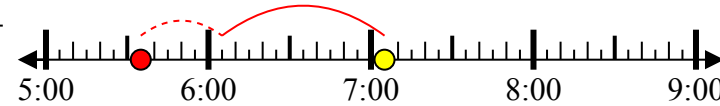
3) Начало: 9:05  
 истек: 2 ч и 50 мин  
 Конец: 11:55



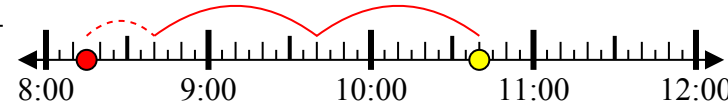
4) Начало: 10:45  
 истек: 2 ч и 40 мин  
 Конец: 1:25



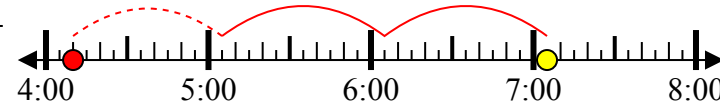
5) Начало: 5:35  
 истек: 1 ч и 30 мин  
 Конец: 7:05



6) Начало: 8:15  
 истек: 2 ч и 25 мин  
 Конец: 10:40



7) Начало: 4:10  
 истек: 2 ч и 55 мин  
 Конец: 7:05



8) Начало: 4:00  
 истек: 2 ч и 20 мин  
 Конец: 6:20



**Ответы**

1. 12:10
2. 6:40
3. 9:05
4. 10:45
5. 5:35
6. 8:15
7. 4:10
8. 4:00