



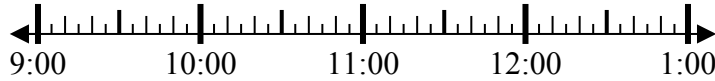
Решите каждую задачу.

Ответы

1) Начало: \_\_\_\_\_

истек: 2 ч и 30 мин

Конец: 12:05

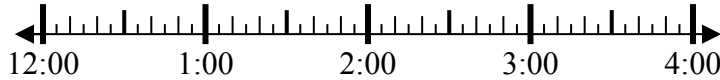


1. \_\_\_\_\_

2) Начало: \_\_\_\_\_

истек: 1 ч и 45 мин

Конец: 2:35



2. \_\_\_\_\_

3) Начало: \_\_\_\_\_

истек: 1 ч и 25 мин

Конец: 11:40



3. \_\_\_\_\_

4) Начало: \_\_\_\_\_

истек: 1 ч и 45 мин

Конец: 8:10

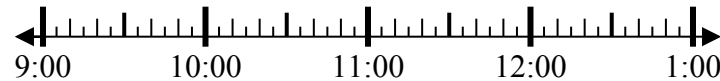


4. \_\_\_\_\_

5) Начало: \_\_\_\_\_

истек: 1 ч и 15 мин

Конец: 10:25

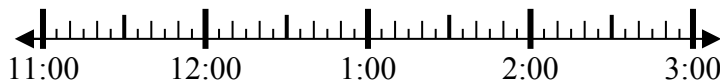


5. \_\_\_\_\_

6) Начало: \_\_\_\_\_

истек: 2 ч и 15 мин

Конец: 2:00



6. \_\_\_\_\_

7) Начало: \_\_\_\_\_

истек: 1 ч и 40 мин

Конец: 2:00

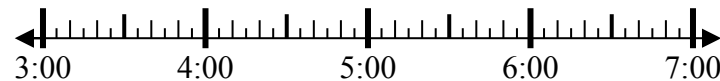


7. \_\_\_\_\_

8) Начало: \_\_\_\_\_

истек: 1 ч и 40 мин

Конец: 5:15



8. \_\_\_\_\_



Решите каждую задачу.

1) Начало: 9:35  
 истек: 2 ч и 30 мин  
 Конец: 12:05



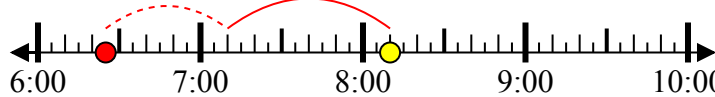
2) Начало: 12:50  
 истек: 1 ч и 45 мин  
 Конец: 2:35



3) Начало: 10:15  
 истек: 1 ч и 25 мин  
 Конец: 11:40



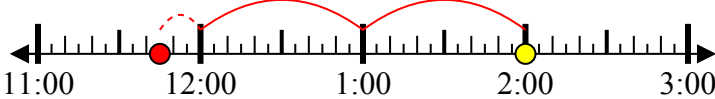
4) Начало: 6:25  
 истек: 1 ч и 45 мин  
 Конец: 8:10



5) Начало: 9:10  
 истек: 1 ч и 15 мин  
 Конец: 10:25



6) Начало: 11:45  
 истек: 2 ч и 15 мин  
 Конец: 2:00



7) Начало: 12:20  
 истек: 1 ч и 40 мин  
 Конец: 2:00



8) Начало: 3:35  
 истек: 1 ч и 40 мин  
 Конец: 5:15



**Ответы**

1. 9:35
2. 12:50
3. 10:15
4. 6:25
5. 9:10
6. 11:45
7. 12:20
8. 3:35