



Решите каждую задачу.

Ответы

1) Начало: _____

истек: 2 ч и 20 мин

Конец: 9:25



1. _____

2) Начало: _____

истек: 2 ч и 20 мин

Конец: 7:45

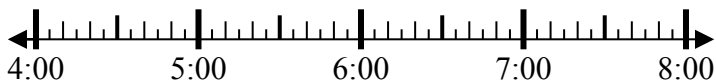


2. _____

3) Начало: _____

истек: 1 ч и 35 мин

Конец: 5:50



3. _____

4) Начало: _____

истек: 2 ч и 40 мин

Конец: 2:45



4. _____

5) Начало: _____

истек: 1 ч и 45 мин

Конец: 11:50

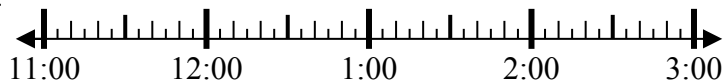


5. _____

6) Начало: _____

истек: 2 ч и 15 мин

Конец: 2:00

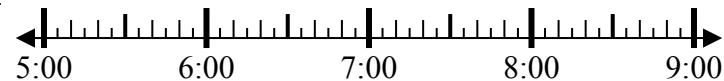


6. _____

7) Начало: _____

истек: 1 ч и 40 мин

Конец: 7:05



7. _____

8) Начало: _____

истек: 1 ч и 15 мин

Конец: 2:40

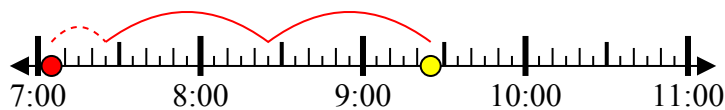


8. _____

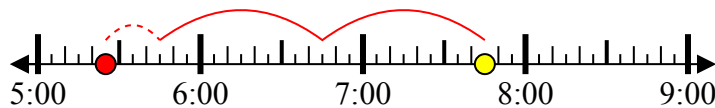


Решите каждую задачу.

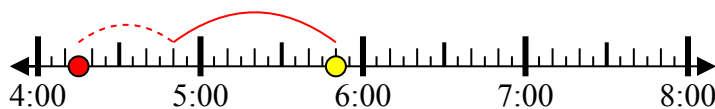
1) Начало: 7:05
 истек: 2 ч и 20 мин
 Конец: 9:25



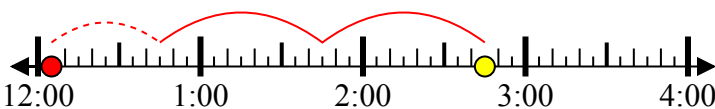
2) Начало: 5:25
 истек: 2 ч и 20 мин
 Конец: 7:45



3) Начало: 4:15
 истек: 1 ч и 35 мин
 Конец: 5:50



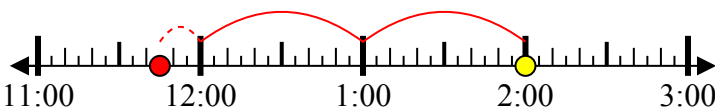
4) Начало: 12:05
 истек: 2 ч и 40 мин
 Конец: 2:45



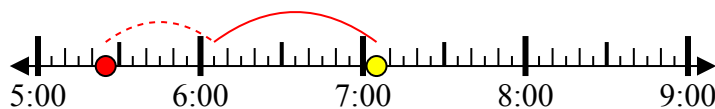
5) Начало: 10:05
 истек: 1 ч и 45 мин
 Конец: 11:50



6) Начало: 11:45
 истек: 2 ч и 15 мин
 Конец: 2:00



7) Начало: 5:25
 истек: 1 ч и 40 мин
 Конец: 7:05



8) Начало: 1:25
 истек: 1 ч и 15 мин
 Конец: 2:40



Отвeты

1. 7:05

2. 5:25

3. 4:15

4. 12:05

5. 10:05

6. 11:45

7. 5:25

8. 1:25