



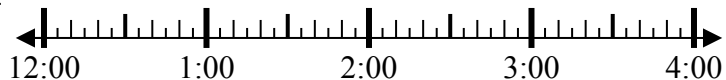
Решите каждую задачу.

Ответы

1) Начало: _____

истек: 1 ч и 35 мин

Конец: 1:50

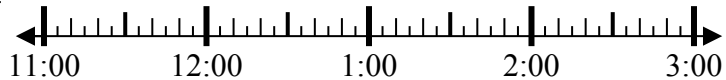


1. _____

2) Начало: _____

истек: 1 ч и 25 мин

Конец: 12:55



2. _____

3) Начало: _____

истек: 1 ч и 35 мин

Конец: 6:45

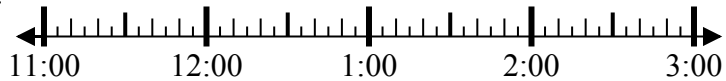


3. _____

4) Начало: _____

истек: 1 ч и 10 мин

Конец: 12:10



4. _____

5) Начало: _____

истек: 1 ч и 10 мин

Конец: 1:40



5. _____

6) Начало: _____

истек: 1 ч и 25 мин

Конец: 2:05

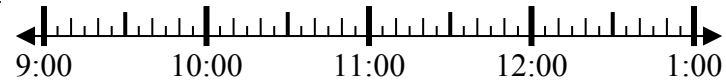


6. _____

7) Начало: _____

истек: 1 ч и 50 мин

Конец: 11:30

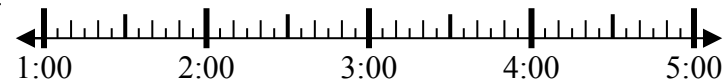


7. _____

8) Начало: _____

истек: 2 ч и 45 мин

Конец: 4:20



8. _____



Решите каждую задачу.

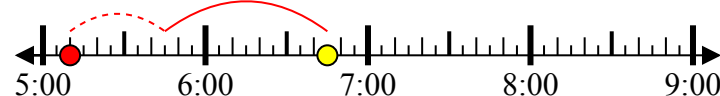
1) Начало: 12:15
 истек: 1 ч и 35 мин
 Конец: 1:50



2) Начало: 11:30
 истек: 1 ч и 25 мин
 Конец: 12:55



3) Начало: 5:10
 истек: 1 ч и 35 мин
 Конец: 6:45



4) Начало: 11:00
 истек: 1 ч и 10 мин
 Конец: 12:10



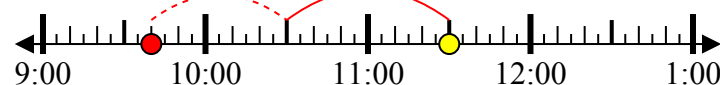
5) Начало: 12:30
 истек: 1 ч и 10 мин
 Конец: 1:40



6) Начало: 12:40
 истек: 1 ч и 25 мин
 Конец: 2:05



7) Начало: 9:40
 истек: 1 ч и 50 мин
 Конец: 11:30



8) Начало: 1:35
 истек: 2 ч и 45 мин
 Конец: 4:20



Ответы

1. 12:15

2. 11:30

3. 5:10

4. 11:00

5. 12:30

6. 12:40

7. 9:40

8. 1:35