



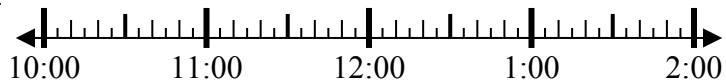
Решите каждую задачу.

ОТВЕТЫ

1) Начало: _____

истек: 2 ч и 30 мин

Конец: 1:20

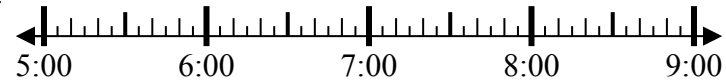


1. _____

2) Начало: _____

истек: 1 ч и 25 мин

Конец: 6:35

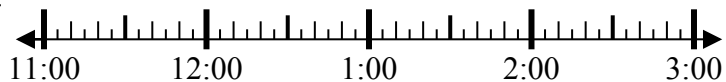


2. _____

3) Начало: _____

истек: 1 ч и 35 мин

Конец: 1:15

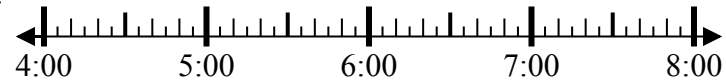


3. _____

4) Начало: _____

истек: 2 ч и 15 мин

Конец: 6:35

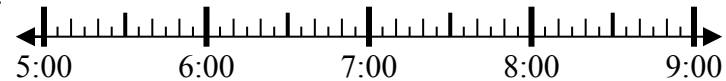


4. _____

5) Начало: _____

истек: 2 ч и 25 мин

Конец: 7:40

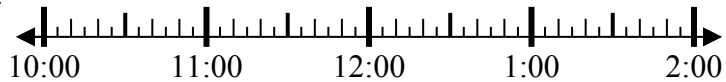


5. _____

6) Начало: _____

истек: 2 ч и 35 мин

Конец: 12:55

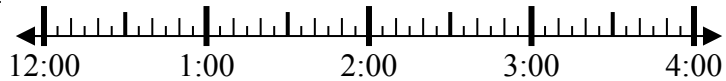


6. _____

7) Начало: _____

истек: 2 ч и 50 мин

Конец: 3:35

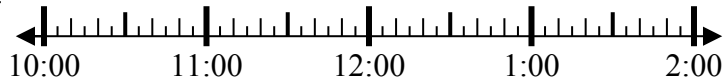


7. _____

8) Начало: _____

истек: 1 ч и 30 мин

Конец: 12:10

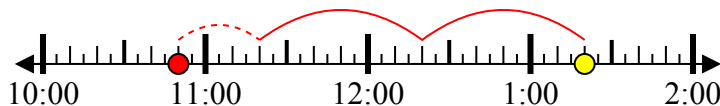


8. _____

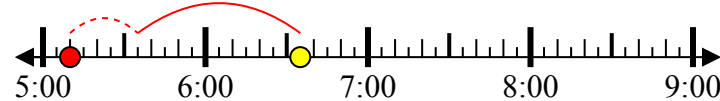


Решите каждую задачу.

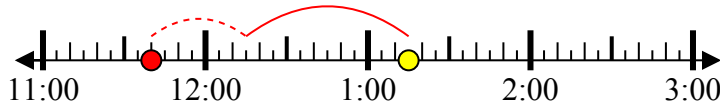
- 1) Начало: 10:50
 истек: 2 ч и 30 мин
 Конец: 1:20



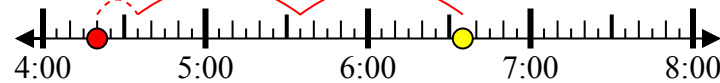
- 2) Начало: 5:10
 истек: 1 ч и 25 мин
 Конец: 6:35



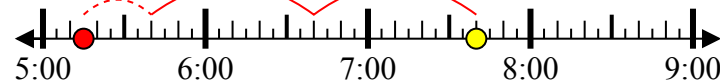
- 3) Начало: 11:40
 истек: 1 ч и 35 мин
 Конец: 1:15



- 4) Начало: 4:20
 истек: 2 ч и 15 мин
 Конец: 6:35



- 5) Начало: 5:15
 истек: 2 ч и 25 мин
 Конец: 7:40



- 6) Начало: 10:20
 истек: 2 ч и 35 мин
 Конец: 12:55



- 7) Начало: 12:45
 истек: 2 ч и 50 мин
 Конец: 3:35



- 8) Начало: 10:40
 истек: 1 ч и 30 мин
 Конец: 12:10



Ответы

1. 10:50
 2. 5:10
 3. 11:40
 4. 4:20
 5. 5:15
 6. 10:20
 7. 12:45
 8. 10:40