



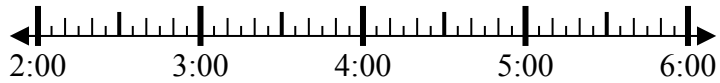
Решите каждую задачу.

Ответы

1) Начало: _____

истек: 2 ч и 35 мин

Конец: 5:05

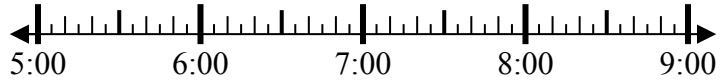


1. _____

2) Начало: _____

истек: 2 ч и 20 мин

Конец: 7:35



2. _____

3) Начало: _____

истек: 1 ч и 45 мин

Конец: 7:30



3. _____

4) Начало: _____

истек: 2 ч и 10 мин

Конец: 10:10



4. _____

5) Начало: _____

истек: 2 ч и 50 мин

Конец: 4:05

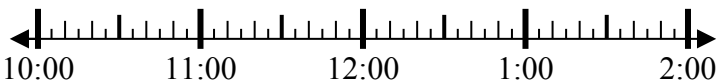


5. _____

6) Начало: _____

истек: 1 ч и 20 мин

Конец: 11:50



6. _____

7) Начало: _____

истек: 1 ч и 25 мин

Конец: 8:55

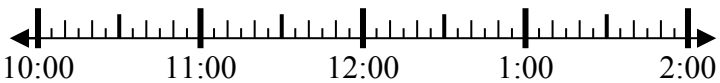


7. _____

8) Начало: _____

истек: 2 ч и 20 мин

Конец: 12:40

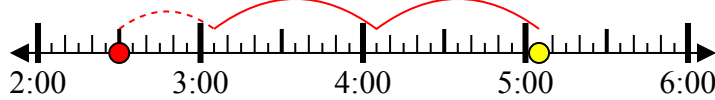


8. _____



Решите каждую задачу.

1) Начало: 2:30
 истек: 2 ч и 35 мин
 Конец: 5:05



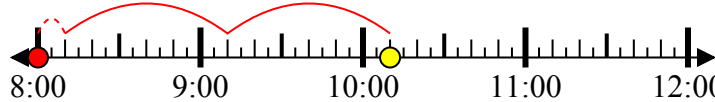
2) Начало: 5:15
 истек: 2 ч и 20 мин
 Конец: 7:35



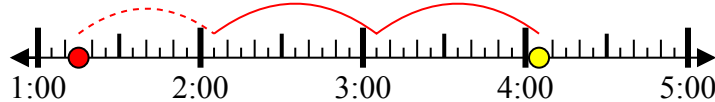
3) Начало: 5:45
 истек: 1 ч и 45 мин
 Конец: 7:30



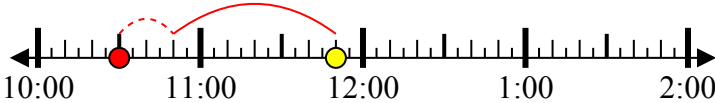
4) Начало: 8:00
 истек: 2 ч и 10 мин
 Конец: 10:10



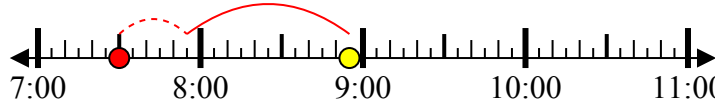
5) Начало: 1:15
 истек: 2 ч и 50 мин
 Конец: 4:05



6) Начало: 10:30
 истек: 1 ч и 20 мин
 Конец: 11:50



7) Начало: 7:30
 истек: 1 ч и 25 мин
 Конец: 8:55



8) Начало: 10:20
 истек: 2 ч и 20 мин
 Конец: 12:40



Ответы

1. 2:30
2. 5:15
3. 5:45
4. 8:00
5. 1:15
6. 10:30
7. 7:30
8. 10:20