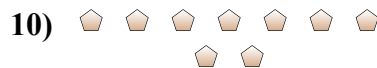
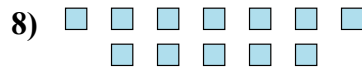
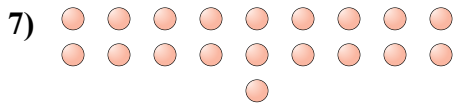
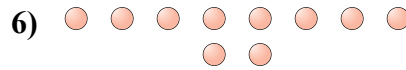

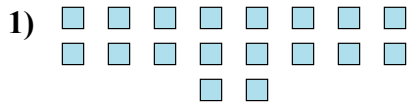




Определите, является ли число фигур четным или нечетным.

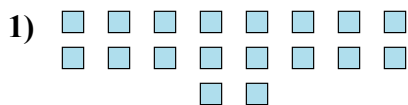


Ответы


1. _____
2. _____
3. _____
4. _____
5. _____
6. _____
7. _____
8. _____
9. _____
10. _____



Определите, является ли число фигур четным или нечетным.



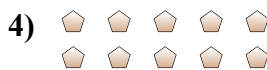
18



20



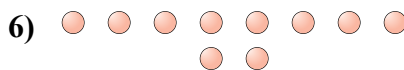
14



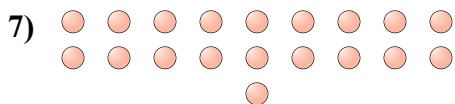
10



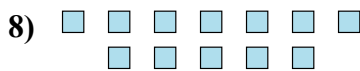
12



10



19



12



7



9

ОТВЕТЫ

1. Четное

2. Четное

3. Четное

4. Четное

5. Четное

6. Четное

7. Нечетное

8. Четное

9. Нечетное

10. Нечетное