
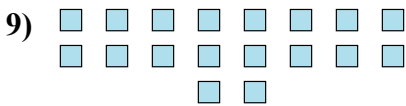




Определите, является ли число фигур четным или нечетным.



Ответы

1. _____
2. _____
3. _____
4. _____
5. _____
6. _____
7. _____
8. _____
9. _____
10. _____



Определите, является ли число фигур четным или нечетным.



5



12



6



8



5



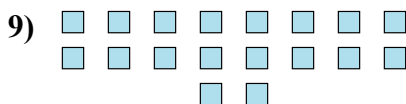
5




5



9



18



17

ОТВЕТЫ

1. Нечетное

2. Четное

3. Четное

4. Четное

5. Нечетное

6. Нечетное

7. Нечетное

8. Нечетное

9. Четное

10. Нечетное