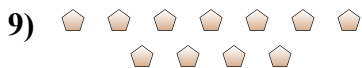
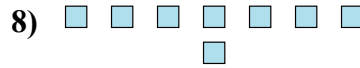
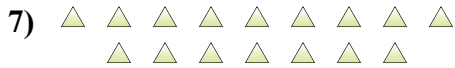
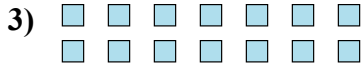
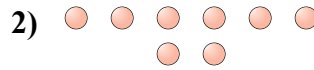
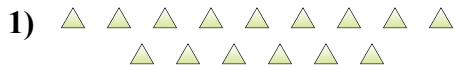




Определите, является ли число фигур четным или нечетным.

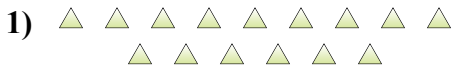


Ответы

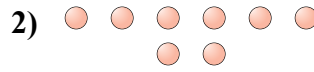
- 1. _____
- 2. _____
- 3. _____
- 4. _____
- 5. _____
- 6. _____
- 7. _____
- 8. _____
- 9. _____
- 10. _____



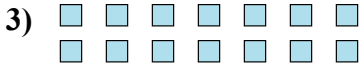
Определите, является ли число фигур четным или нечетным.



15



8



14



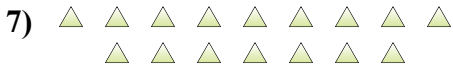
10



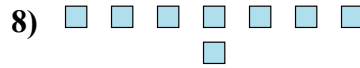
12



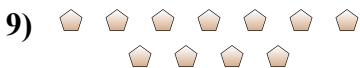
8



16



8



11



7

ОТВЕТЫ

1. Нечетное

2. Четное

3. Четное

4. Четное

5. Четное

6. Четное

7. Четное

8. Четное

9. Нечетное

10. Нечетное