




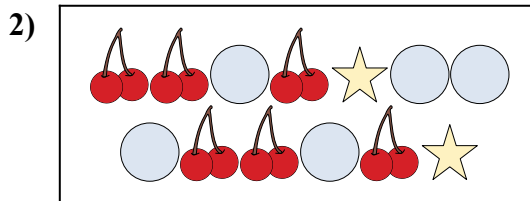
Сравните количество фигур.



Имеется больше или ?

A.

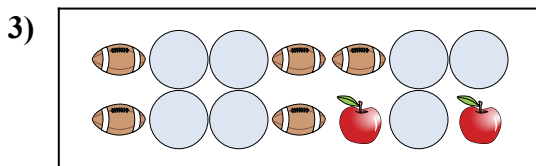
B.



Имеется больше или ?

A.

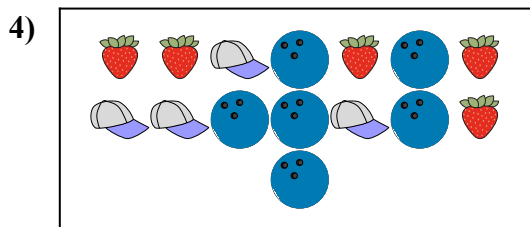
B.



Имеется больше или ?

A.

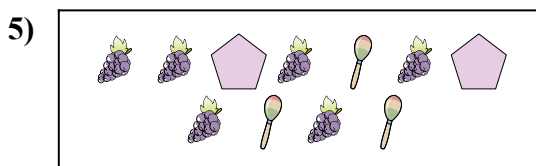
B.



Имеется больше или ?

A.


B.



Имеется меньше или ?

A.

B.



Имеется меньше или ?

A.

B.

ОТВЕТЫ

1. _____

2. _____

3. _____


4. _____

5. _____

6. _____



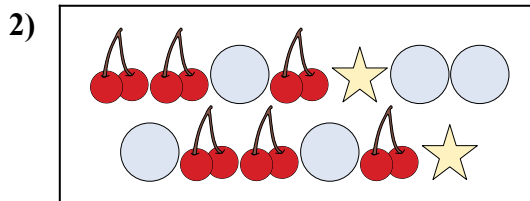
Сравните количество фигур.



Имеется больше или ?

A.

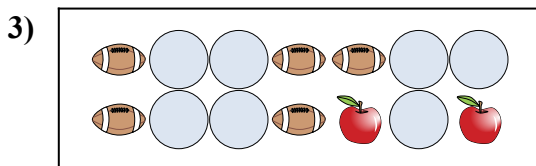
B.



Имеется больше или ?

A.

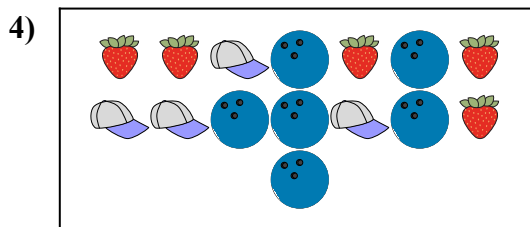
B.



Имеется больше или ?

A.

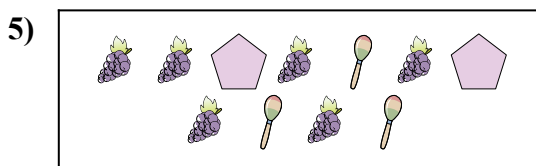
B.



Имеется больше или ?

A.


B.



Имеется меньше или ?

A.

B.



Имеется меньше или ?

A.

B.

ОТВЕТЫ

1. **В**

2. **А**

3. **А**

4. **В**

5. **В**

6. **В**