





Сравните количество фигур.




Имеется меньше или ?

- A.
- B.



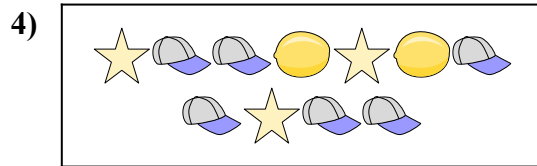
Имеется больше или ?

- A.
- B.




Имеется больше или ?

- A.
- B.




Имеется больше или ?

- A.
- B.



Имеется меньше или ?

- A.
- B.



Имеется меньше или ?


- A.
- B.

ОТВЕТЫ

- 1. _____
- 2. _____
- 3. _____
- 4. _____
- 5. _____
- 6. _____




Сравните количество фигур.




Имеется меньше или ?

- A.
- B.



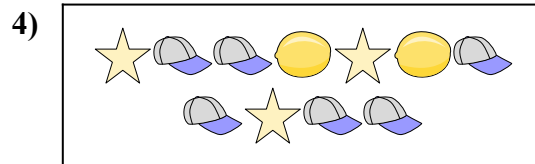
Имеется больше или ?

- A.
- B.




Имеется больше или ?

- A.
- B.




Имеется больше или ?

- A.
- B.



Имеется меньше или ?

- A.
- B.



Имеется меньше или ?

- A.
- B.

ОТВЕТЫ

- 1. **A**
- 2. **A**
- 3. **A**
- 4. **B**
- 5. **B**
- 6. **A**