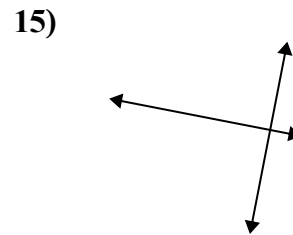
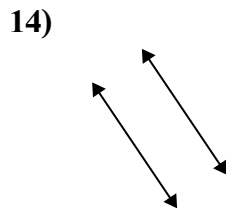
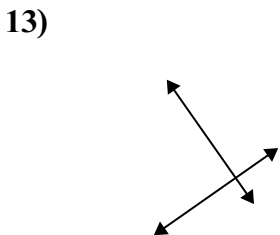
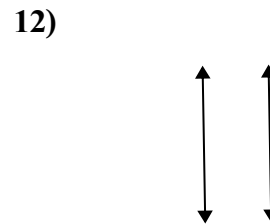
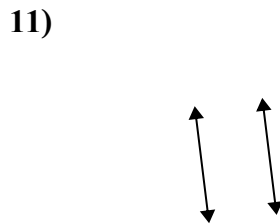
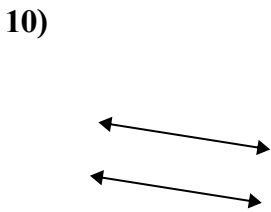
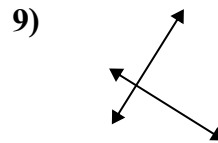
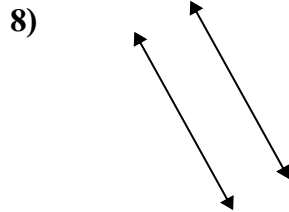
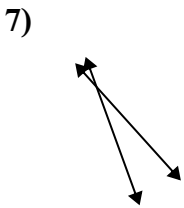
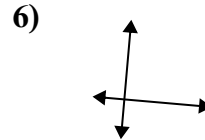
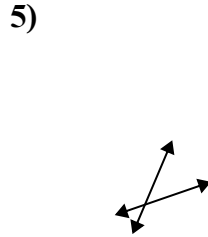
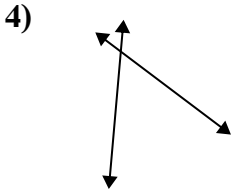
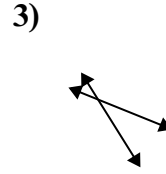
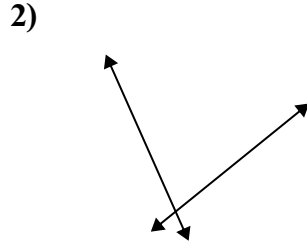
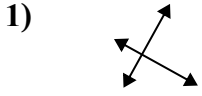




Используйте 'параллельные', 'перпендикулярные' и 'пересекающиеся' при описании линий.

Ответы



1. \_\_\_\_\_
2. \_\_\_\_\_
3. \_\_\_\_\_
4. \_\_\_\_\_
5. \_\_\_\_\_
6. \_\_\_\_\_
7. \_\_\_\_\_
8. \_\_\_\_\_
9. \_\_\_\_\_
10. \_\_\_\_\_
11. \_\_\_\_\_
12. \_\_\_\_\_
13. \_\_\_\_\_
14. \_\_\_\_\_
15. \_\_\_\_\_



Используйте 'параллельные', 'перпендикулярные' и 'пересекающиеся' при описании линий.

**ОТВЕТЫ**

1)

2)

3)

4)

5)

6)

7)

8)

9)

10)

11)

12)

13)

14)

15)

1. перпен и перес
2. пересекающиеся
3. пересекающиеся
4. пересекающиеся
5. пересекающиеся
6. перпен и перес
7. пересекающиеся
8. параллельные
9. перпен и перес
10. параллельные
11. параллельные
12. параллельные
13. перпен и перес
14. параллельные
15. перпен и перес