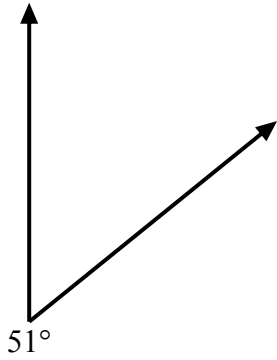


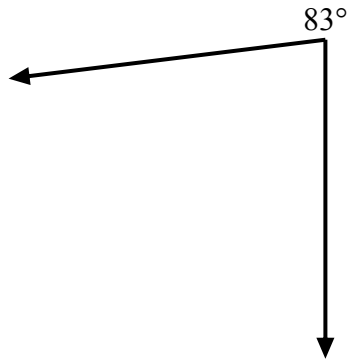


Используйте транспортир для создания треугольника из данной фигуры.
Отсутствующие углы будут являться ответами. Ответы будут отличаться.

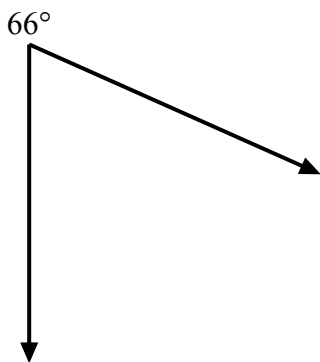
1)



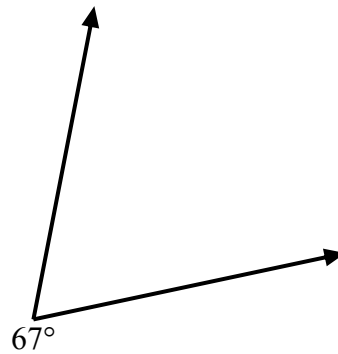
2)



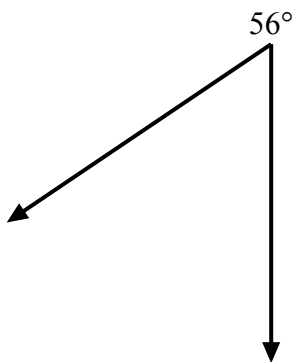
3)



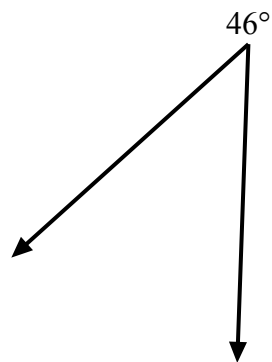
4)



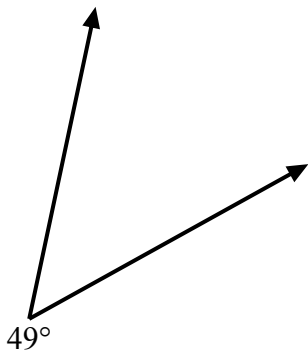
5)



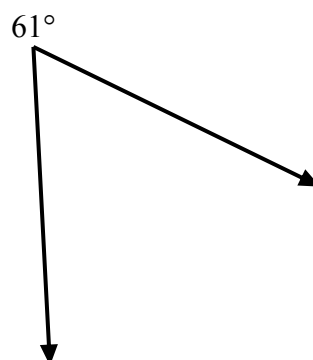
6)



7)



8)



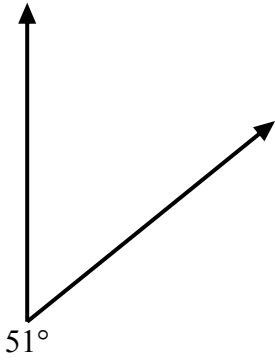
ОТВЕТЫ

- 1. _____
- 2. _____
- 3. _____
- 4. _____
- 5. _____
- 6. _____
- 7. _____
- 8. _____

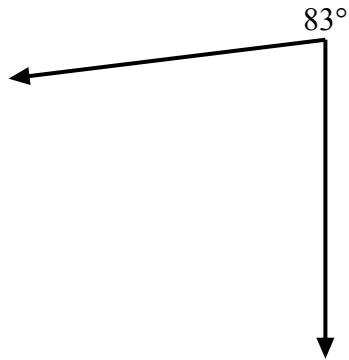


Используйте транспортир для создания треугольника из данной фигуры.
Отсутствующие углы будут являться ответами. Ответы будут отличаться.

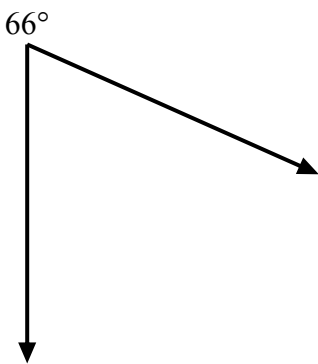
1)



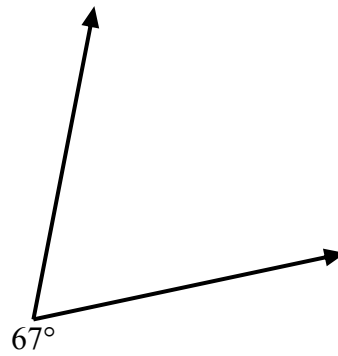
2)



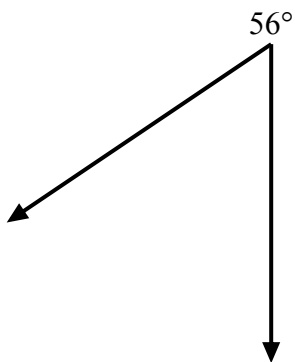
3)



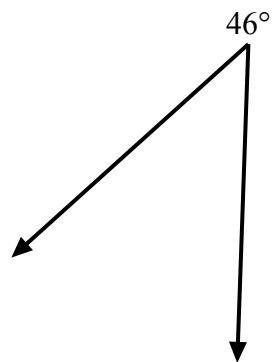
4)



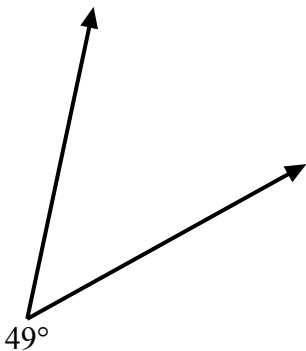
5)



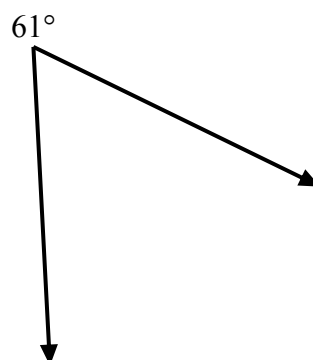
6)



7)



8)

ОТВЕТЫ

1. =129
2. =97
3. =114
4. =113
5. =124
6. =134
7. =131
8. =119