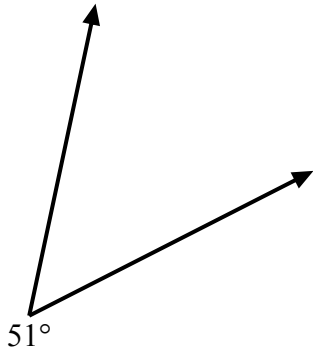


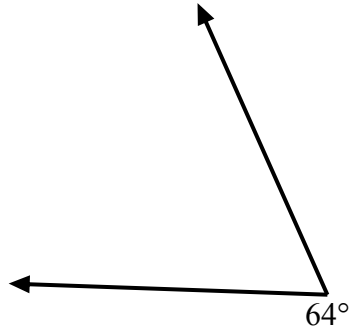


Используйте транспортир для создания треугольника из данной фигуры.  
Отсутствующие углы будут являться ответами. Ответы будут отличаться.

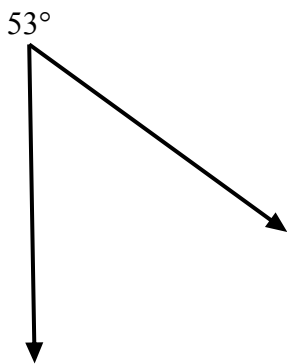
1)



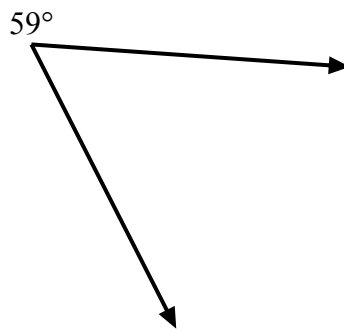
2)



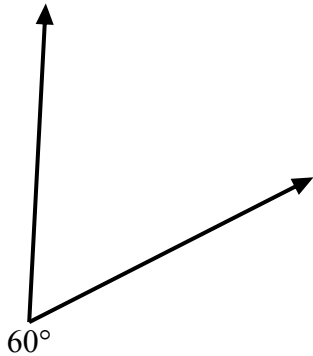
3)



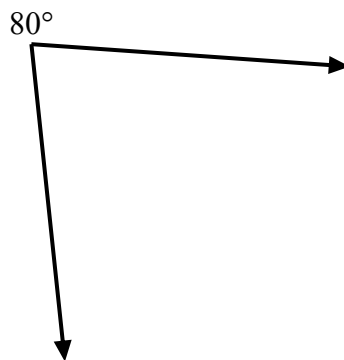
4)



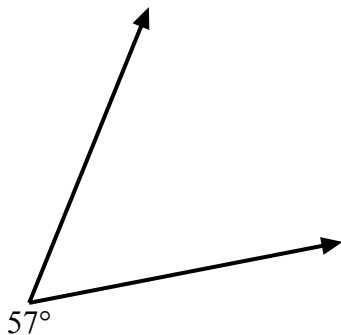
5)



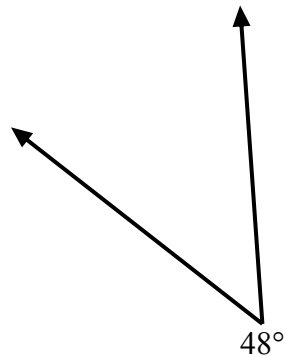
6)



7)



8)



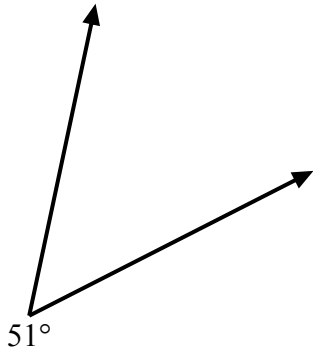
ОТВЕТЫ

1. \_\_\_\_\_
2. \_\_\_\_\_
3. \_\_\_\_\_
4. \_\_\_\_\_
5. \_\_\_\_\_
6. \_\_\_\_\_
7. \_\_\_\_\_
8. \_\_\_\_\_

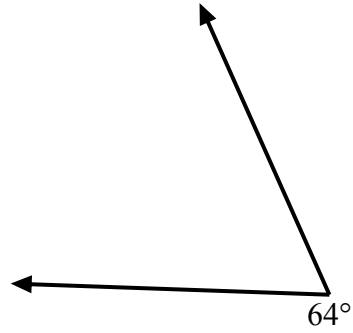


Используйте транспортир для создания треугольника из данной фигуры.  
Отсутствующие углы будут являться ответами. Ответы будут отличаться.

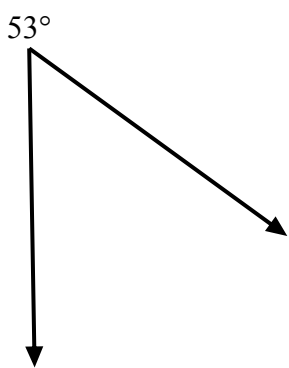
1)



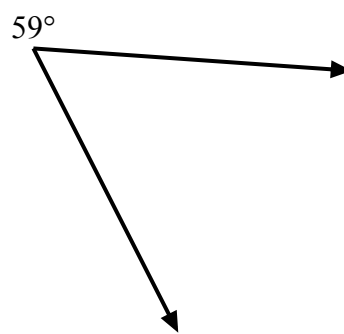
2)



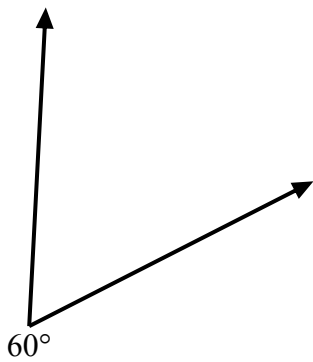
3)



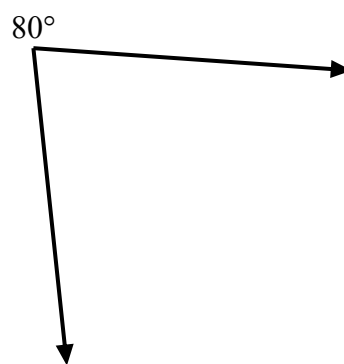
4)



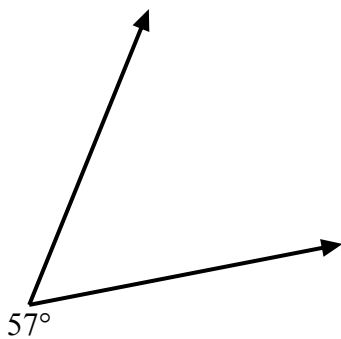
5)



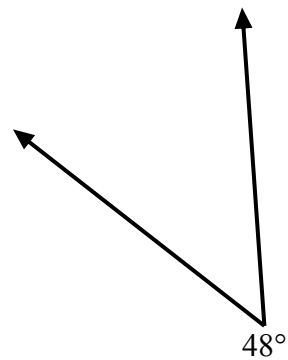
6)



7)



8)

ОТВЕТЫ

1.       =129
2.       =116
3.       =127
4.       =121
5.       =120
6.       =100
7.       =123
8.       =132