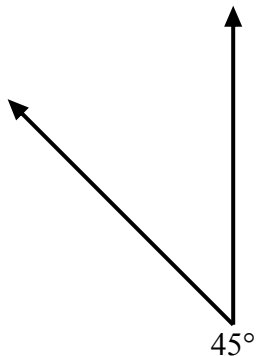


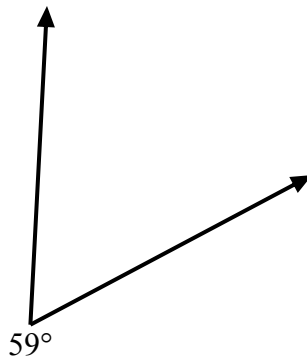


Используйте транспортир для создания треугольника из данной фигуры.  
Отсутствующие углы будут являться ответами. Ответы будут отличаться.

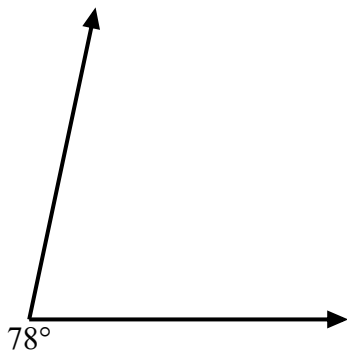
1)



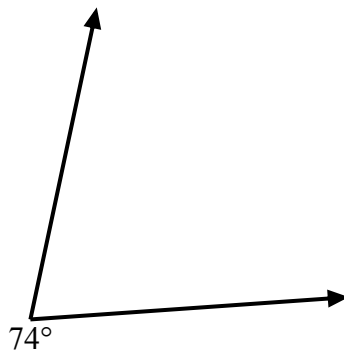
2)



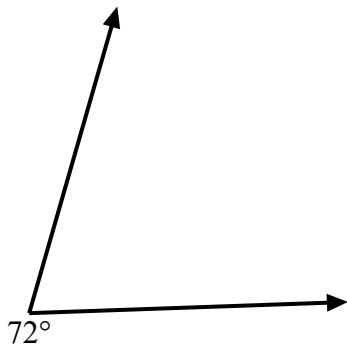
3)



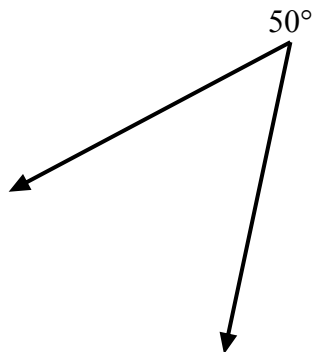
4)



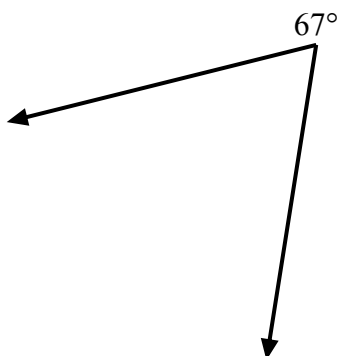
5)



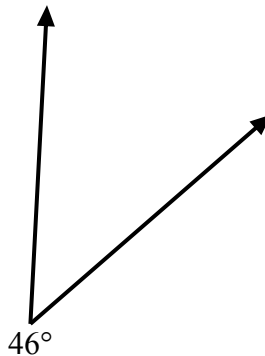
6)



7)



8)



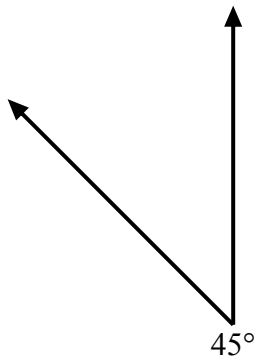
ОТВЕТЫ

- 1. \_\_\_\_\_
- 2. \_\_\_\_\_
- 3. \_\_\_\_\_
- 4. \_\_\_\_\_
- 5. \_\_\_\_\_
- 6. \_\_\_\_\_
- 7. \_\_\_\_\_
- 8. \_\_\_\_\_

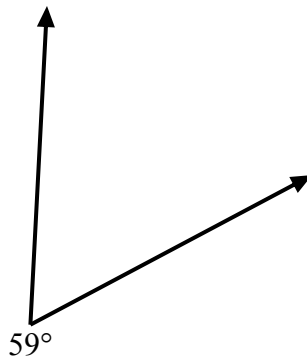


Используйте транспортир для создания треугольника из данной фигуры.  
Отсутствующие углы будут являться ответами. Ответы будут отличаться.

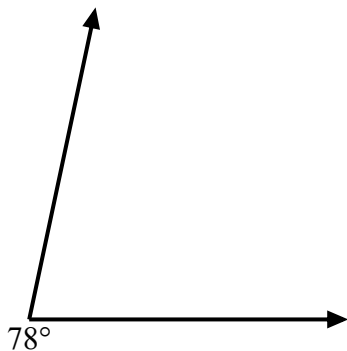
1)



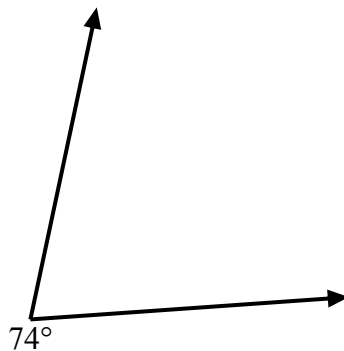
2)



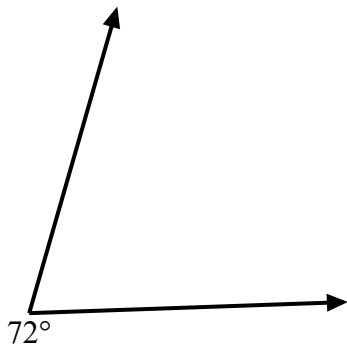
3)



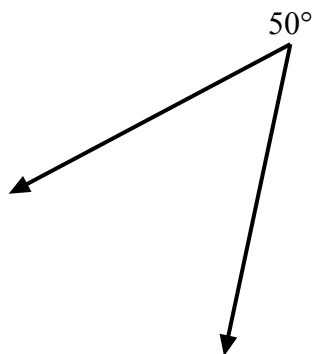
4)



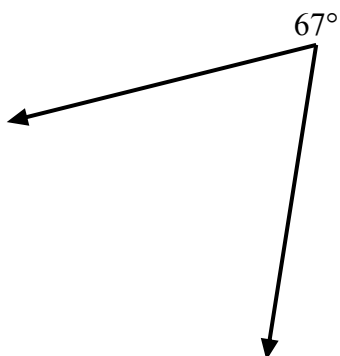
5)



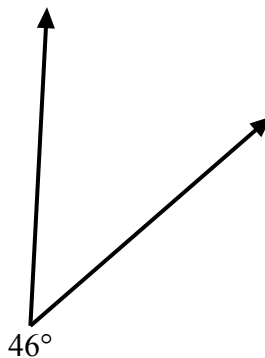
6)



7)



8)

ОТВЕТЫ1.       =135      2.       =121      3.       =102      4.       =106      5.       =108      6.       =130      7.       =113      8.       =134