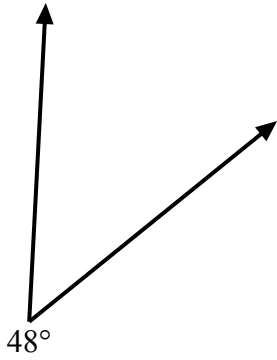


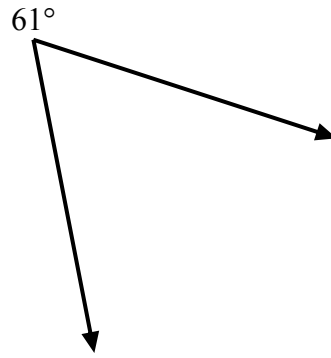


Используйте транспортир для создания треугольника из данной фигуры.
Отсутствующие углы будут являться ответами. Ответы будут отличаться.

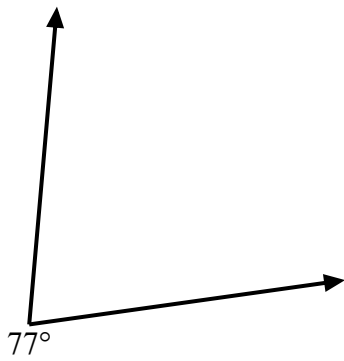
1)



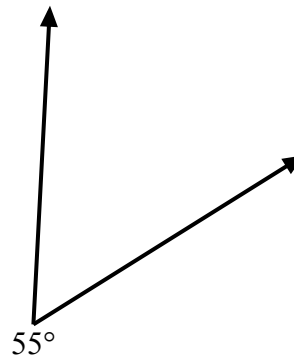
2)



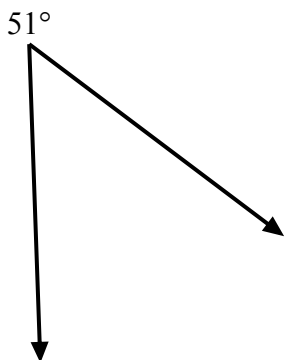
3)



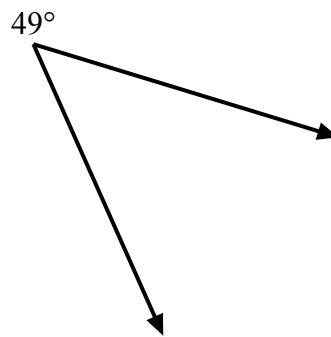
4)



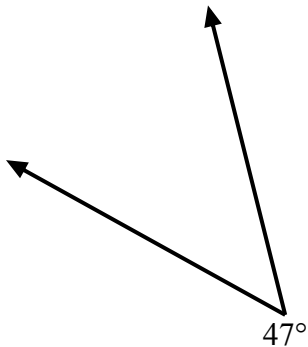
5)



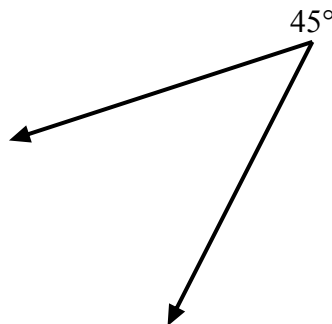
6)



7)



8)



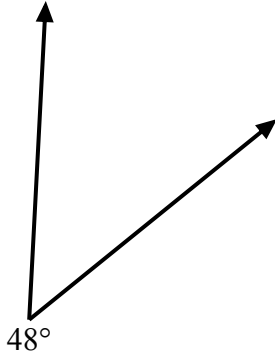
ОТВЕТЫ

1. _____
2. _____
3. _____
4. _____
5. _____
6. _____
7. _____
8. _____

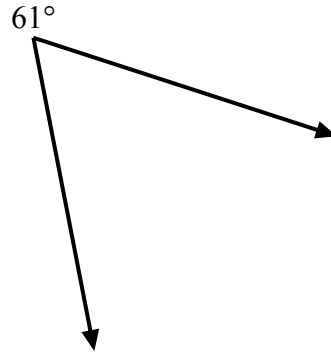


Используйте транспортир для создания треугольника из данной фигуры.
Отсутствующие углы будут являться ответами. Ответы будут отличаться.

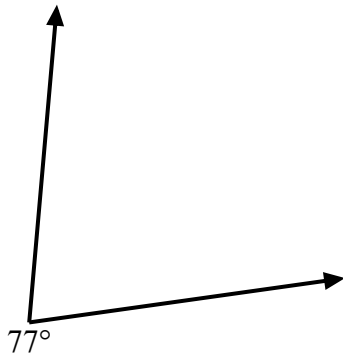
1)



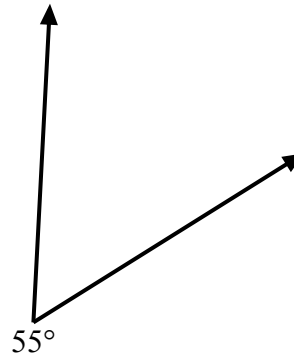
2)



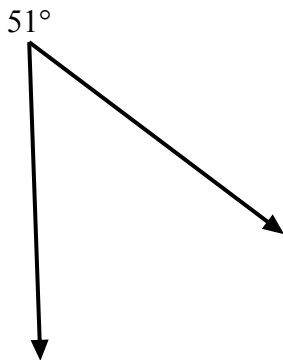
3)



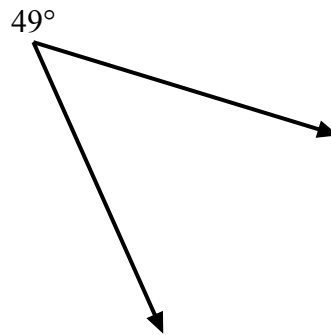
4)



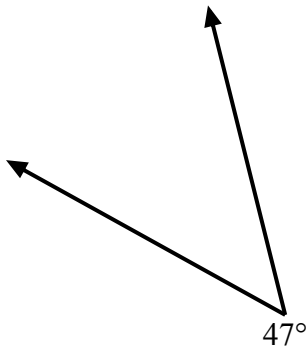
5)



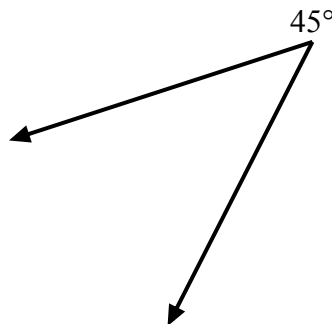
6)



7)



8)

ОТВЕТЫ

1. =132
2. =119
3. =103
4. =125
5. =129
6. =131
7. =133
8. =135