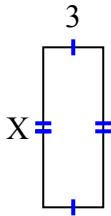




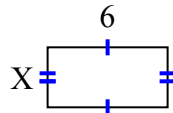
Найдите значение X для каждой цифры. Каждая цифра в сантиметрах (см). Не в масштабе.

ОТВЕТЫ

1) площадь = 24 cm^2



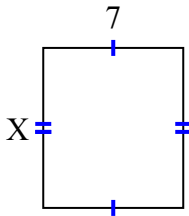
2) площадь = 18 cm^2



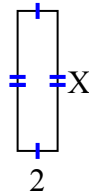
3) площадь = 4 cm^2



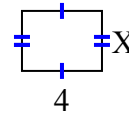
4) площадь = 56 cm^2



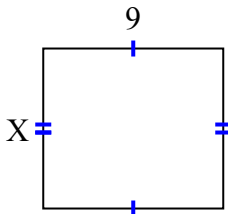
5) площадь = 14 cm^2



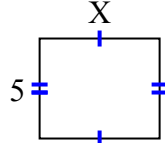
6) площадь = 12 cm^2



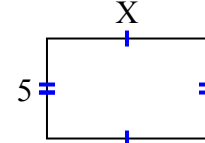
7) площадь = 72 cm^2



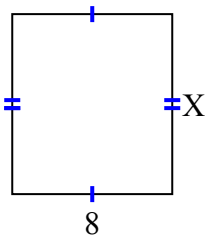
8) площадь = 30 cm^2



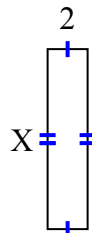
9) площадь = 40 cm^2



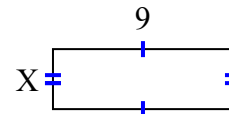
10) площадь = 72 cm^2



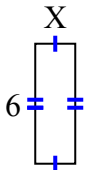
11) площадь = 18 cm^2



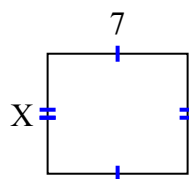
12) площадь = 27 cm^2



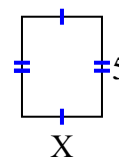
13) площадь = 12 cm^2



14) площадь = 42 cm^2



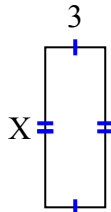
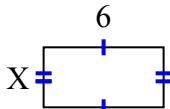
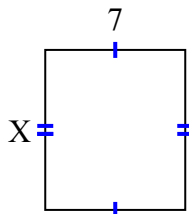
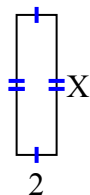
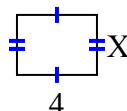
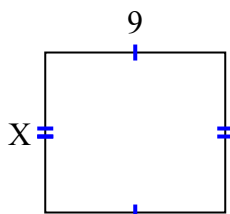
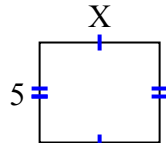
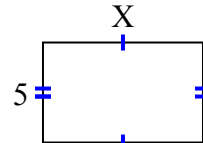
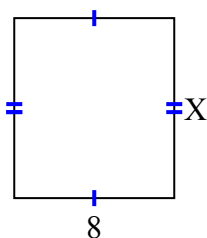
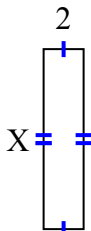
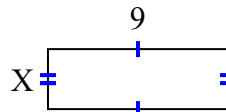
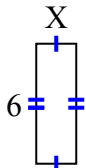
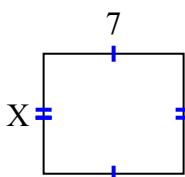
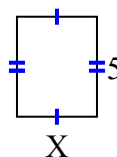
15) площадь = 20 cm^2



1. _____
2. _____
3. _____
4. _____
5. _____
6. _____
7. _____
8. _____
9. _____
10. _____
11. _____
12. _____
13. _____
14. _____
15. _____



Найдите значение X для каждой цифры. Каждая цифра в сантиметрах (см). Не в масштабе.

1) площадь = 24 cm^2 2) площадь = 18 cm^2 3) площадь = 4 cm^2 4) площадь = 56 cm^2 5) площадь = 14 cm^2 6) площадь = 12 cm^2 7) площадь = 72 cm^2 8) площадь = 30 cm^2 9) площадь = 40 cm^2 10) площадь = 72 cm^2 11) площадь = 18 cm^2 12) площадь = 27 cm^2 13) площадь = 12 cm^2 14) площадь = 42 cm^2 15) площадь = 20 cm^2 **ОТВЕТЫ**1. 82. 33. 24. 85. 76. 37. 88. 69. 810. 911. 912. 313. 214. 615. 4