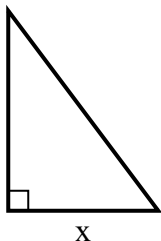


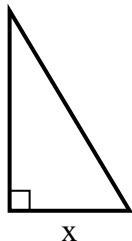


Найдите значение X.

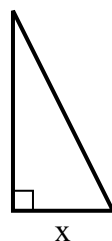
1) площадь = 24 u^2



2) площадь = 7.5 u^2



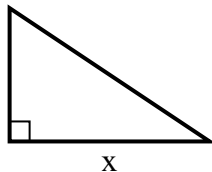
3) площадь = 9 u^2



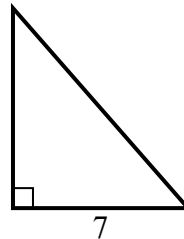
4) площадь = 5 u^2



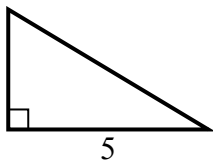
5) площадь = 27 u^2



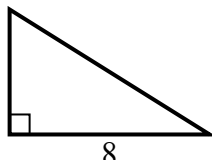
6) площадь = 28 u^2



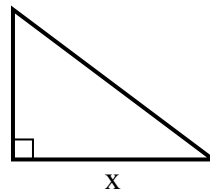
7) площадь = 7.5 u^2



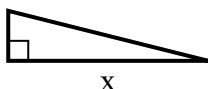
8) площадь = 20 u^2



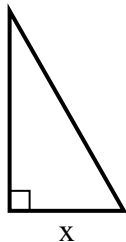
9) площадь = 6 u^2



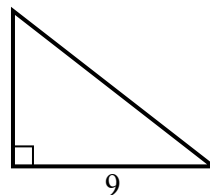
10) площадь = 8 u^2



11) площадь = 14 u^2



12) площадь = 31.5 u^2



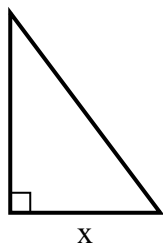
Отвeты

1. _____
2. _____
3. _____
4. _____
5. _____
6. _____
7. _____
8. _____
9. _____
10. _____
11. _____
12. _____

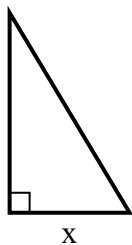


Найдите значение X.

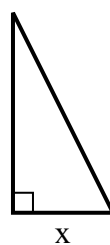
1) площадь = 24 u^2



2) площадь = 7.5 u^2



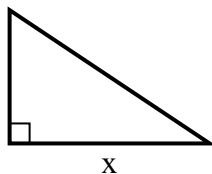
3) площадь = 9 u^2



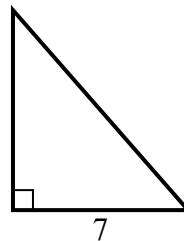
4) площадь = 5 u^2



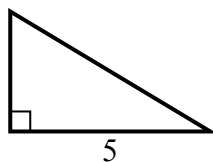
5) площадь = 27 u^2



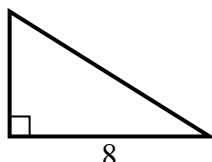
6) площадь = 28 u^2



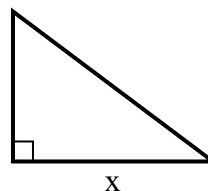
7) площадь = 7.5 u^2



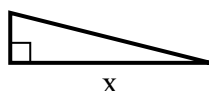
8) площадь = 20 u^2



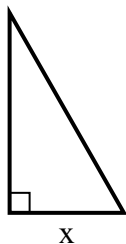
9) площадь = 6 u^2



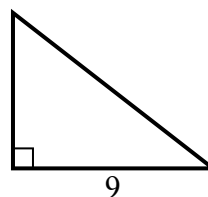
10) площадь = 8 u^2



11) площадь = 14 u^2



12) площадь = 31.5 u^2

**Ответы**1. 62. 33. 34. 55. 96. 87. 38. 59. 410. 811. 412. 7