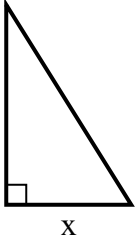


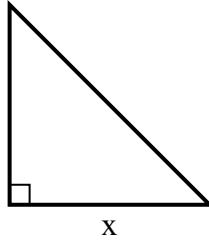


Найдите значение X.

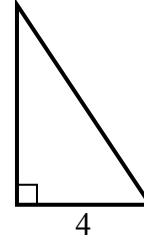
1) площадь = 20 u^2



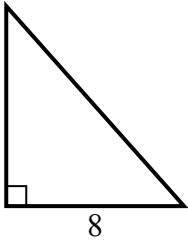
2) площадь = 32 u^2



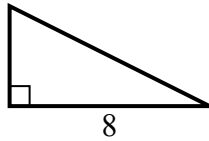
3) площадь = 12 u^2



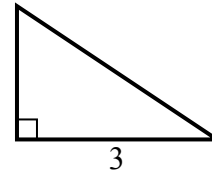
4) площадь = 36 u^2



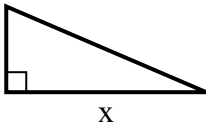
5) площадь = 16 u^2



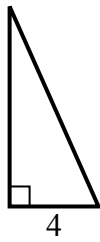
6) площадь = 3 u^2



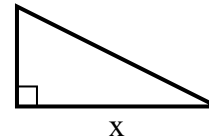
7) площадь = 10.5 u^2



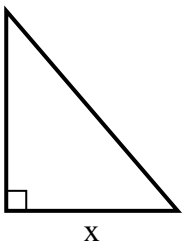
8) площадь = 18 u^2



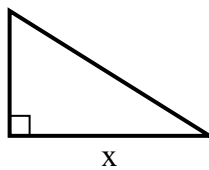
9) площадь = 4 u^2



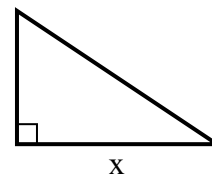
10) площадь = 21 u^2



11) площадь = 20 u^2



12) площадь = 12 u^2



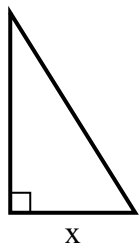
ОТВЕТЫ

1. _____
2. _____
3. _____
4. _____
5. _____
6. _____
7. _____
8. _____
9. _____
10. _____
11. _____
12. _____

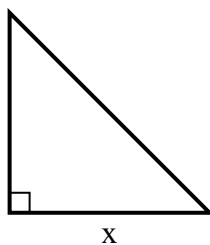


Найдите значение X.

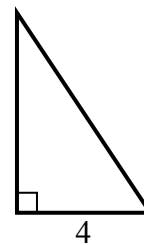
1) площадь = 20 u^2



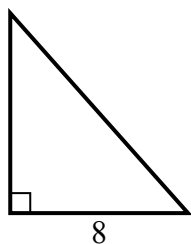
2) площадь = 32 u^2



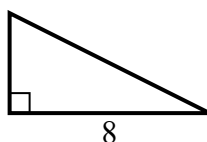
3) площадь = 12 u^2



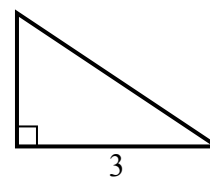
4) площадь = 36 u^2



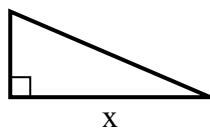
5) площадь = 16 u^2



6) площадь = 3 u^2



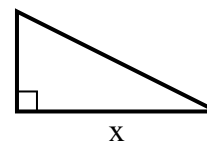
7) площадь = 10.5 u^2



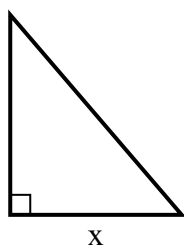
8) площадь = 18 u^2



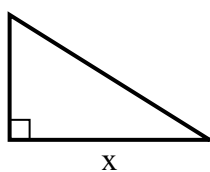
9) площадь = 4 u^2



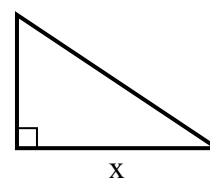
10) площадь = 21 u^2



11) площадь = 20 u^2



12) площадь = 12 u^2

**Ответы**1. 52. 83. 64. 95. 46. 27. 78. 99. 410. 611. 812. 6