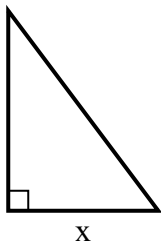


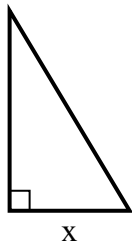


Найдите значение X.

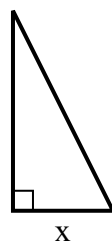
1) площадь = 24 u^2



2) площадь = 7.5 u^2



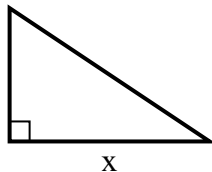
3) площадь = 9 u^2



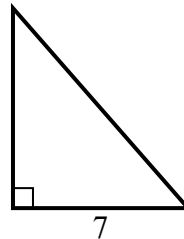
4) площадь = 5 u^2



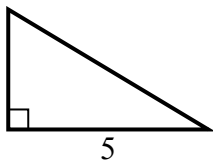
5) площадь = 27 u^2



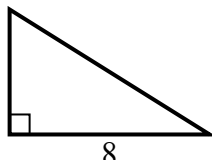
6) площадь = 28 u^2



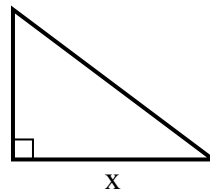
7) площадь = 7.5 u^2



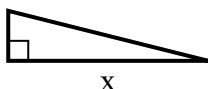
8) площадь = 20 u^2



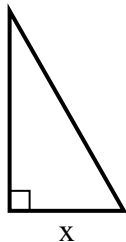
9) площадь = 6 u^2



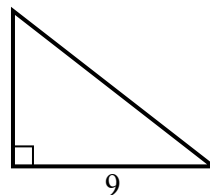
10) площадь = 8 u^2



11) площадь = 14 u^2



12) площадь = 31.5 u^2



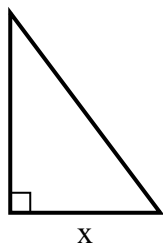
Ответы

1. _____
2. _____
3. _____
4. _____
5. _____
6. _____
7. _____
8. _____
9. _____
10. _____
11. _____
12. _____

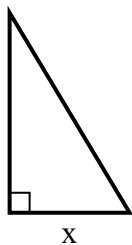


Найдите значение X.

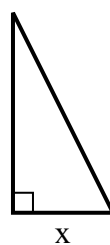
1) площадь = 24 u^2



2) площадь = 7.5 u^2



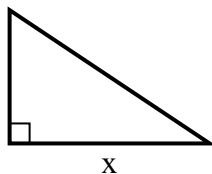
3) площадь = 9 u^2



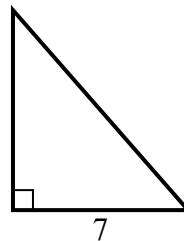
4) площадь = 5 u^2



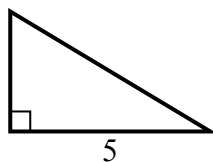
5) площадь = 27 u^2



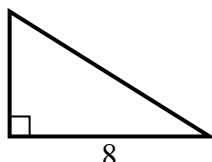
6) площадь = 28 u^2



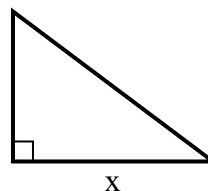
7) площадь = 7.5 u^2



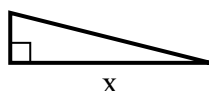
8) площадь = 20 u^2



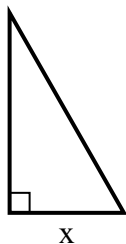
9) площадь = 6 u^2



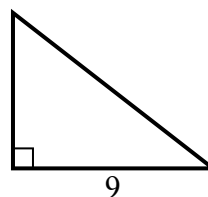
10) площадь = 8 u^2



11) площадь = 14 u^2



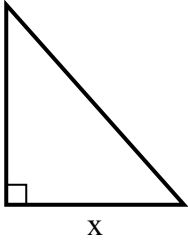
12) площадь = 31.5 u^2

**Ответы**1. 62. 33. 34. 55. 96. 87. 38. 59. 410. 811. 412. 7

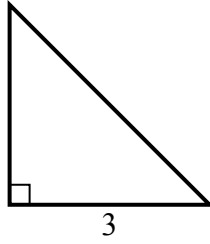


Найдите значение X.

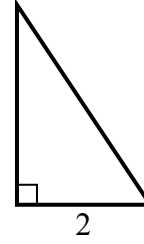
1) площадь = 36 u^2



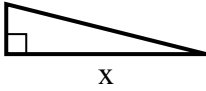
2) площадь = 4.5 u^2



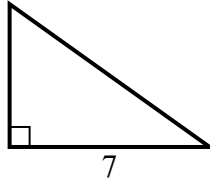
3) площадь = 3 u^2



4) площадь = 8 u^2



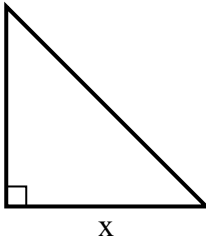
5) площадь = 17.5 u^2



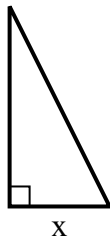
6) площадь = 12 u^2



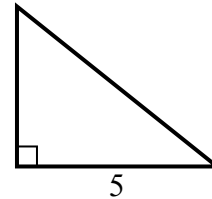
7) площадь = 32 u^2



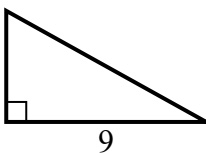
8) площадь = 4 u^2



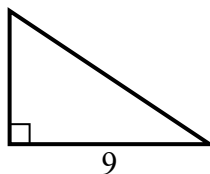
9) площадь = 10 u^2



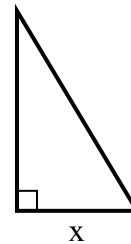
10) площадь = 22.5 u^2



11) площадь = 27 u^2



12) площадь = 7.5 u^2



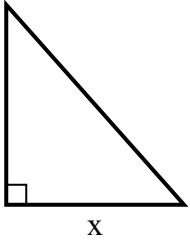
Ответы

1. _____
2. _____
3. _____
4. _____
5. _____
6. _____
7. _____
8. _____
9. _____
10. _____
11. _____
12. _____

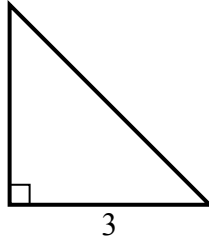


Найдите значение X.

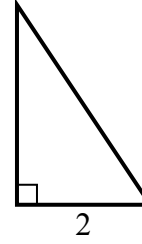
1) площадь = 36 u^2



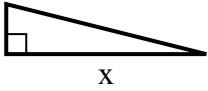
2) площадь = 4.5 u^2



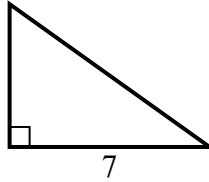
3) площадь = 3 u^2



4) площадь = 8 u^2



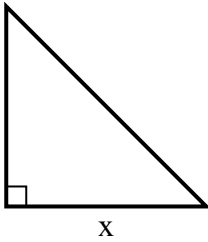
5) площадь = 17.5 u^2



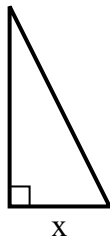
6) площадь = 12 u^2



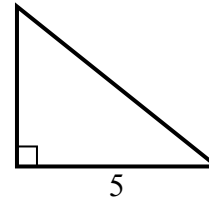
7) площадь = 32 u^2



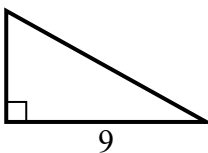
8) площадь = 4 u^2



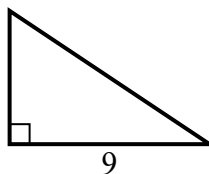
9) площадь = 10 u^2



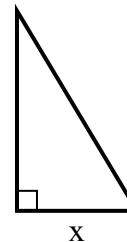
10) площадь = 22.5 u^2



11) площадь = 27 u^2



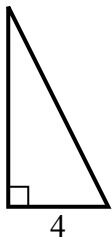
12) площадь = 7.5 u^2

**Ответы**1. 82. 33. 34. 85. 56. 87. 88. 29. 410. 511. 612. 3

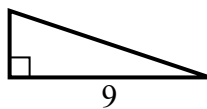


Найдите значение X.

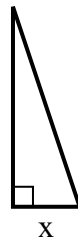
1) площадь = 16 u^2



2) площадь = 13.5 u^2



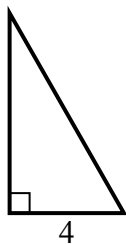
3) площадь = 6 u^2



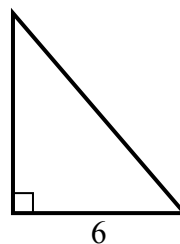
4) площадь = 8 u^2



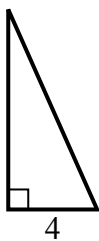
5) площадь = 14 u^2



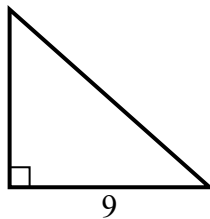
6) площадь = 21 u^2



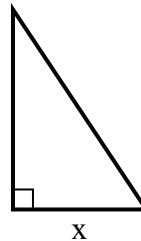
7) площадь = 18 u^2



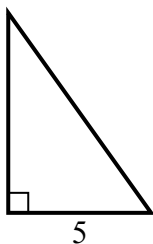
8) площадь = 36 u^2



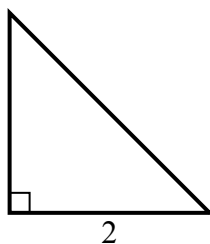
9) площадь = 27 u^2



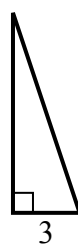
10) площадь = 17.5 u^2



11) площадь = 2 u^2



12) площадь = 13.5 u^2



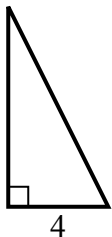
Ответы

1. _____
2. _____
3. _____
4. _____
5. _____
6. _____
7. _____
8. _____
9. _____
10. _____
11. _____
12. _____

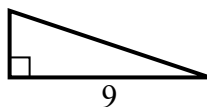


Найдите значение X.

1) площадь = 16 u^2



2) площадь = 13.5 u^2



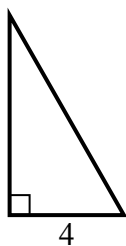
3) площадь = 6 u^2



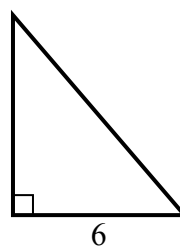
4) площадь = 8 u^2



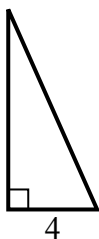
5) площадь = 14 u^2



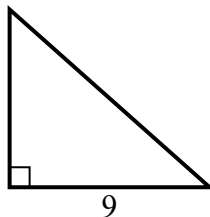
6) площадь = 21 u^2



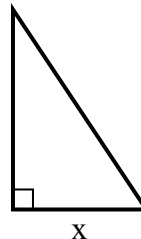
7) площадь = 18 u^2



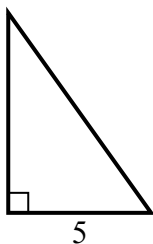
8) площадь = 36 u^2



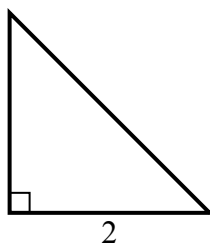
9) площадь = 27 u^2



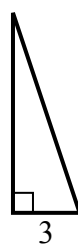
10) площадь = 17.5 u^2



11) площадь = 2 u^2



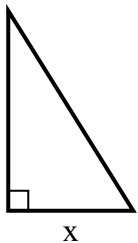
12) площадь = 13.5 u^2

**Ответы**1. 82. 33. 24. 25. 76. 77. 98. 89. 610. 711. 212. 9

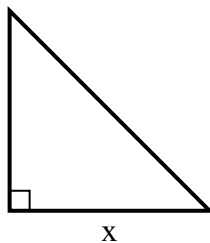


Найдите значение X.

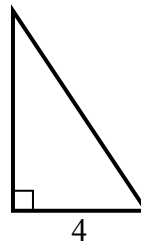
1) площадь = 20 u^2



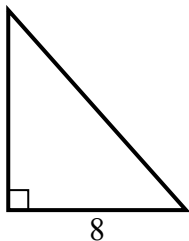
2) площадь = 32 u^2



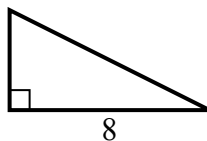
3) площадь = 12 u^2



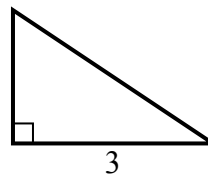
4) площадь = 36 u^2



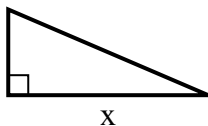
5) площадь = 16 u^2



6) площадь = 3 u^2



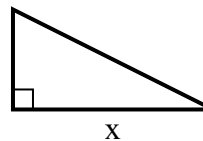
7) площадь = 10.5 u^2



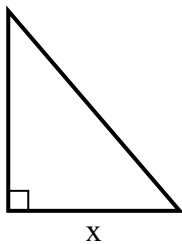
8) площадь = 18 u^2



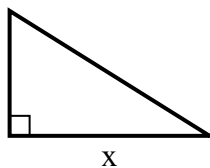
9) площадь = 4 u^2



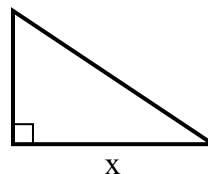
10) площадь = 21 u^2



11) площадь = 20 u^2



12) площадь = 12 u^2



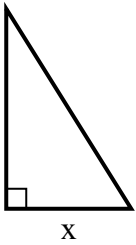
Ответы

1. _____
2. _____
3. _____
4. _____
5. _____
6. _____
7. _____
8. _____
9. _____
10. _____
11. _____
12. _____

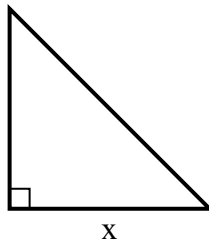


Найдите значение X.

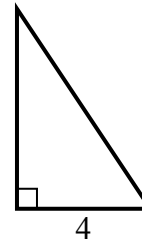
1) площадь = 20 u^2



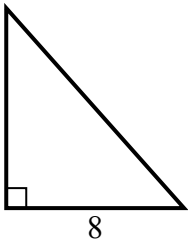
2) площадь = 32 u^2



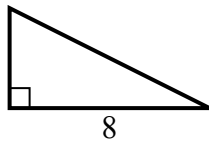
3) площадь = 12 u^2



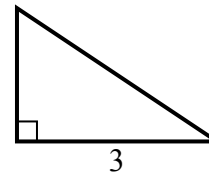
4) площадь = 36 u^2



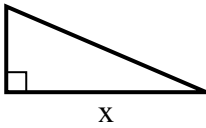
5) площадь = 16 u^2



6) площадь = 3 u^2



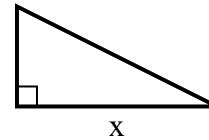
7) площадь = 10.5 u^2



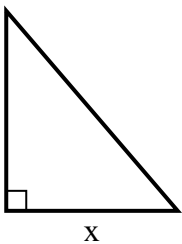
8) площадь = 18 u^2



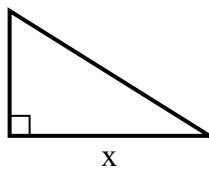
9) площадь = 4 u^2



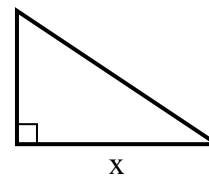
10) площадь = 21 u^2



11) площадь = 20 u^2



12) площадь = 12 u^2

**Ответы**1. 52. 83. 64. 95. 46. 27. 78. 99. 410. 611. 812. 6

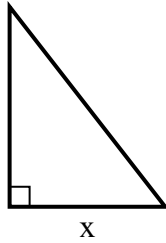


Найдите значение X.

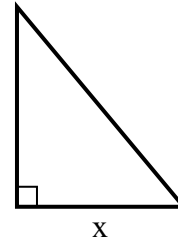
1) площадь = 9 u^2



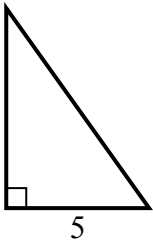
2) площадь = 31.5 u^2



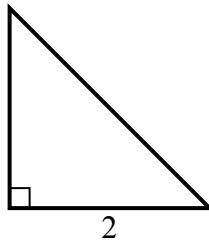
3) площадь = 15 u^2



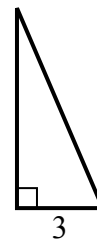
4) площадь = 17.5 u^2



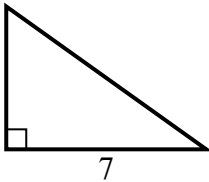
5) площадь = 2 u^2



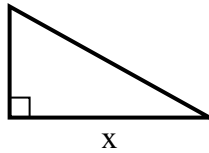
6) площадь = 10.5 u^2



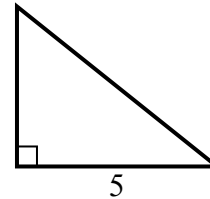
7) площадь = 17.5 u^2



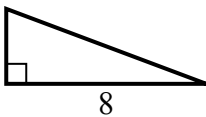
8) площадь = 22.5 u^2



9) площадь = 10 u^2



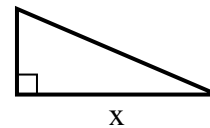
10) площадь = 12 u^2



11) площадь = 7 u^2



12) площадь = 10.5 u^2



Ответы

1. _____
2. _____
3. _____
4. _____
5. _____
6. _____
7. _____
8. _____
9. _____
10. _____
11. _____
12. _____

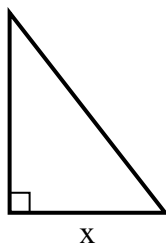


Найдите значение X.

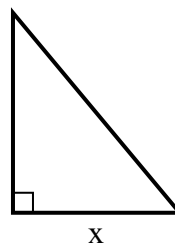
1) площадь = 9 u^2



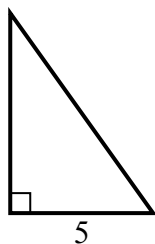
2) площадь = 31.5 u^2



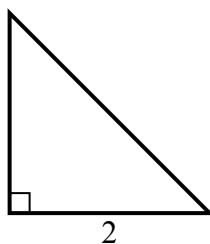
3) площадь = 15 u^2



4) площадь = 17.5 u^2



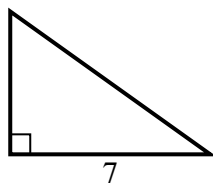
5) площадь = 2 u^2



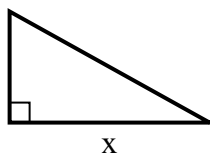
6) площадь = 10.5 u^2



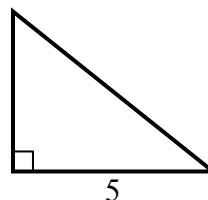
7) площадь = 17.5 u^2



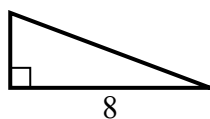
8) площадь = 22.5 u^2



9) площадь = 10 u^2



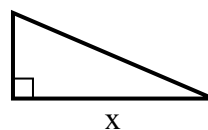
10) площадь = 12 u^2



11) площадь = 7 u^2



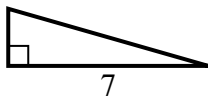
12) площадь = 10.5 u^2

**Ответы**1. 92. 73. 54. 75. 26. 77. 58. 99. 410. 311. 212. 7

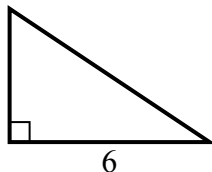


Найдите значение X.

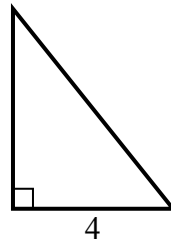
1) площадь = 7 u^2



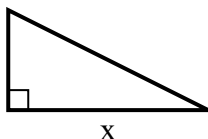
2) площадь = 12 u^2



3) площадь = 10 u^2



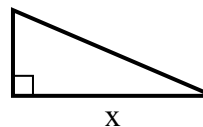
4) площадь = 16 u^2



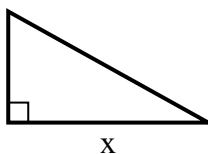
5) площадь = 18 u^2



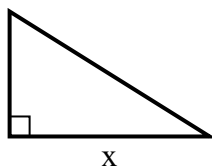
6) площадь = 10.5 u^2



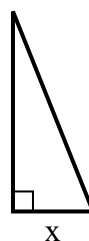
7) площадь = 22.5 u^2



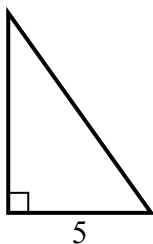
8) площадь = 20 u^2



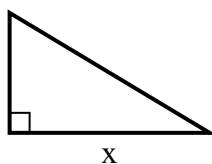
9) площадь = 5 u^2



10) площадь = 17.5 u^2



11) площадь = 7.5 u^2



12) площадь = 12 u^2



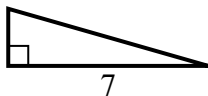
Ответы

1. _____
2. _____
3. _____
4. _____
5. _____
6. _____
7. _____
8. _____
9. _____
10. _____
11. _____
12. _____

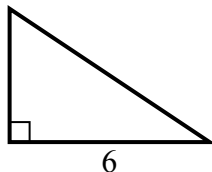


Найдите значение X.

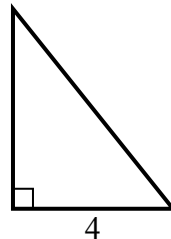
1) площадь = 7 u^2



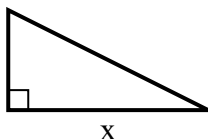
2) площадь = 12 u^2



3) площадь = 10 u^2



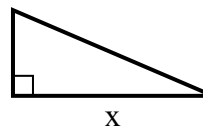
4) площадь = 16 u^2



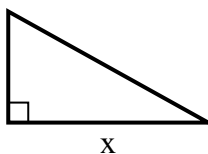
5) площадь = 18 u^2



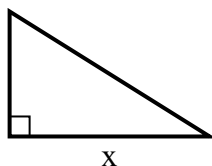
6) площадь = 10.5 u^2



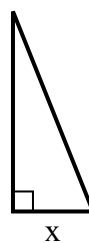
7) площадь = 22.5 u^2



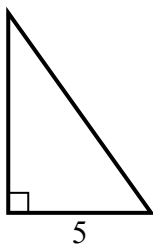
8) площадь = 20 u^2



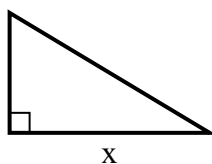
9) площадь = 5 u^2



10) площадь = 17.5 u^2



11) площадь = 7.5 u^2



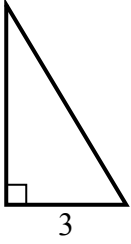
12) площадь = 12 u^2

**Ответы**1. 22. 43. 54. 85. 46. 77. 98. 89. 210. 711. 512. 3

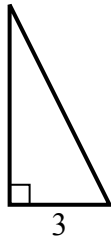


Найдите значение X.

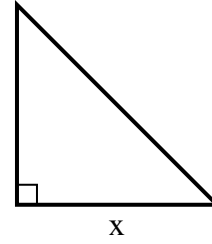
1) площадь = 7.5 u^2



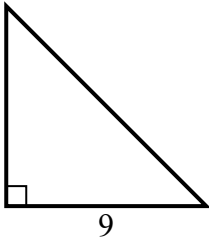
2) площадь = 9 u^2



3) площадь = 32 u^2



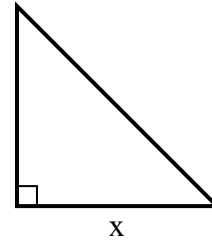
4) площадь = 40.5 u^2



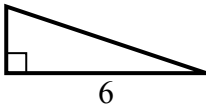
5) площадь = 9 u^2



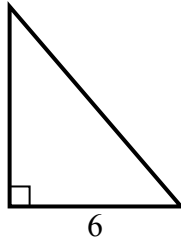
6) площадь = 24.5 u^2



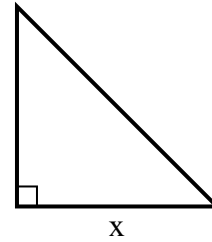
7) площадь = 6 u^2



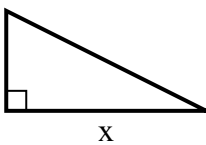
8) площадь = 21 u^2



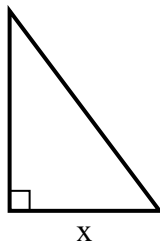
9) площадь = 18 u^2



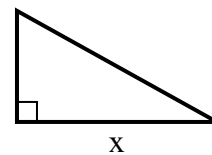
10) площадь = 16 u^2



11) площадь = 6 u^2



12) площадь = 22.5 u^2



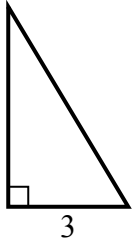
Ответы

1. _____
2. _____
3. _____
4. _____
5. _____
6. _____
7. _____
8. _____
9. _____
10. _____
11. _____
12. _____

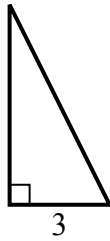


Найдите значение X.

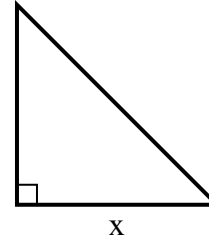
1) площадь = 7.5 u^2



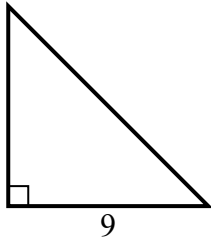
2) площадь = 9 u^2



3) площадь = 32 u^2



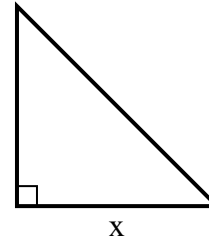
4) площадь = 40.5 u^2



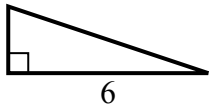
5) площадь = 9 u^2



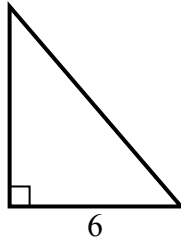
6) площадь = 24.5 u^2



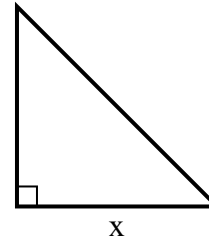
7) площадь = 6 u^2



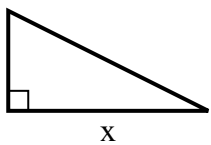
8) площадь = 21 u^2



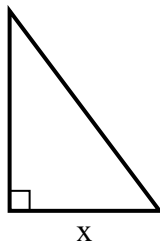
9) площадь = 18 u^2



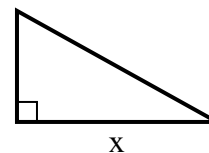
10) площадь = 16 u^2



11) площадь = 6 u^2



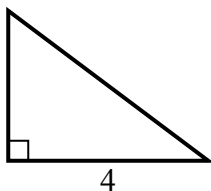
12) площадь = 22.5 u^2

Ответы1. 52. 63. 84. 95. 96. 77. 28. 79. 610. 811. 312. 9

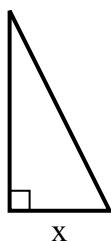


Найдите значение X.

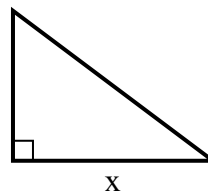
1) площадь = 6 u^2



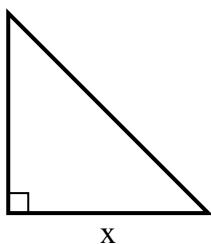
2) площадь = 4 u^2



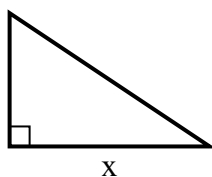
3) площадь = 24 u^2



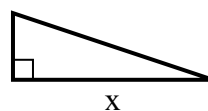
4) площадь = 8 u^2



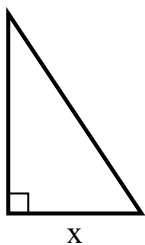
5) площадь = 12 u^2



6) площадь = 6 u^2



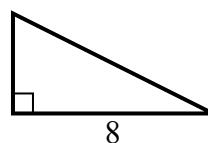
7) площадь = 12 u^2



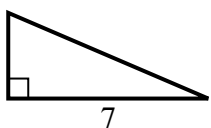
8) площадь = 13.5 u^2



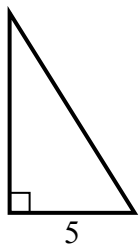
9) площадь = 16 u^2



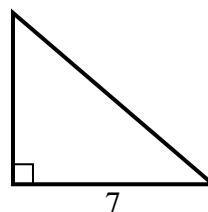
10) площадь = 10.5 u^2



11) площадь = 20 u^2



12) площадь = 21 u^2



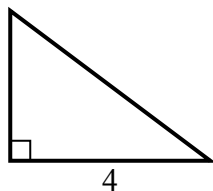
Ответы

1. _____
2. _____
3. _____
4. _____
5. _____
6. _____
7. _____
8. _____
9. _____
10. _____
11. _____
12. _____

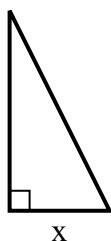


Найдите значение X.

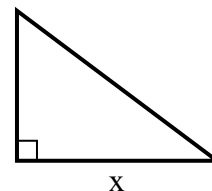
1) площадь = $6 u^2$



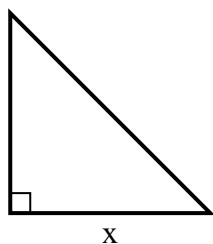
2) площадь = $4 u^2$



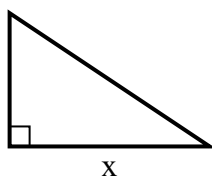
3) площадь = $24 u^2$



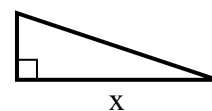
4) площадь = $8 u^2$



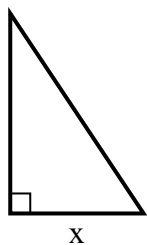
5) площадь = $12 u^2$



6) площадь = $6 u^2$



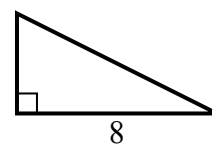
7) площадь = $12 u^2$



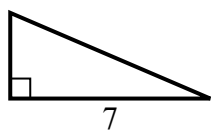
8) площадь = $13.5 u^2$



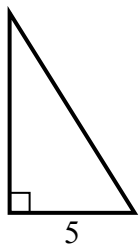
9) площадь = $16 u^2$



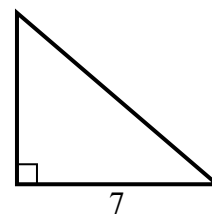
10) площадь = $10.5 u^2$



11) площадь = $20 u^2$



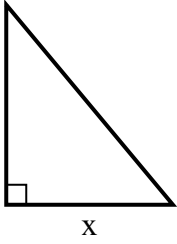
12) площадь = $21 u^2$

**Ответы**1. 32. 23. 84. 45. 66. 67. 48. 39. 410. 311. 812. 6

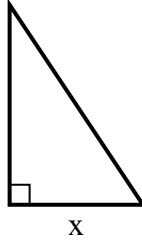


Найдите значение X.

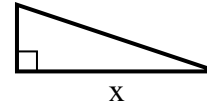
1) площадь = 15 u^2



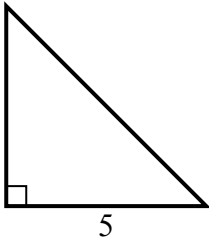
2) площадь = 3 u^2



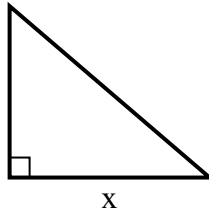
3) площадь = 6 u^2



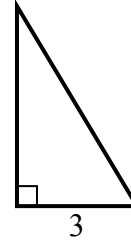
4) площадь = 12.5 u^2



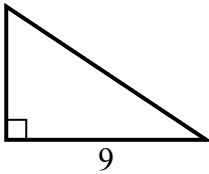
5) площадь = 21 u^2



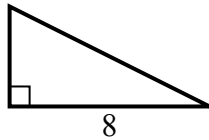
6) площадь = 7.5 u^2



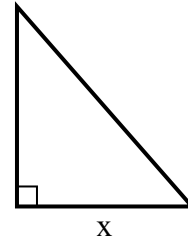
7) площадь = 27 u^2



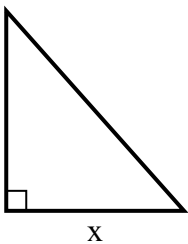
8) площадь = 16 u^2



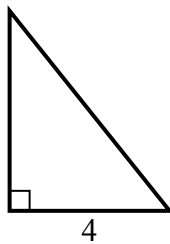
9) площадь = 28 u^2



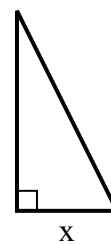
10) площадь = 36 u^2



11) площадь = 10 u^2



12) площадь = 4 u^2



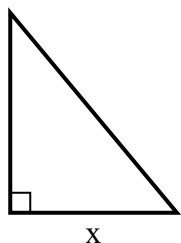
Ответы

1. _____
2. _____
3. _____
4. _____
5. _____
6. _____
7. _____
8. _____
9. _____
10. _____
11. _____
12. _____

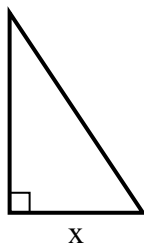


Найдите значение X.

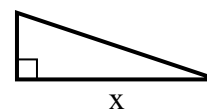
1) площадь = 15 u^2



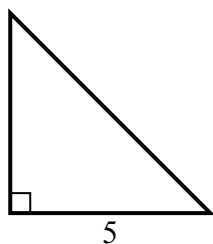
2) площадь = 3 u^2



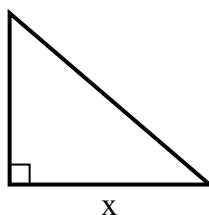
3) площадь = 6 u^2



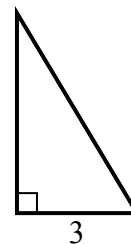
4) площадь = 12.5 u^2



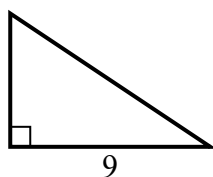
5) площадь = 21 u^2



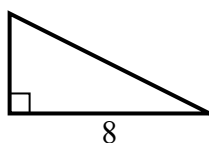
6) площадь = 7.5 u^2



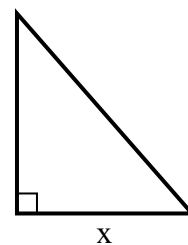
7) площадь = 27 u^2



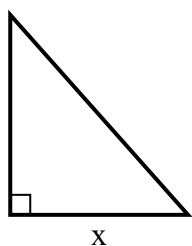
8) площадь = 16 u^2



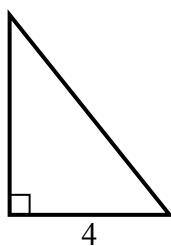
9) площадь = 28 u^2



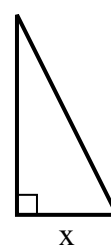
10) площадь = 36 u^2



11) площадь = 10 u^2



12) площадь = 4 u^2



ОТВЕТЫ

1. 5

2. 2

3. 6

4. 5

5. 7

6. 5

7. 6

8. 4

9. 7

10. 8

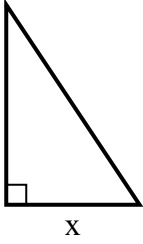
11. 5

12. 2

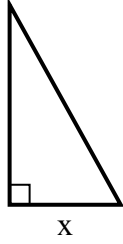


Найдите значение X.

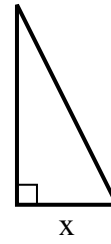
1) площадь = 27 u^2



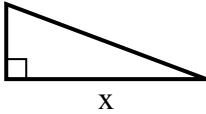
2) площадь = 22.5 u^2



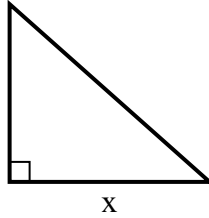
3) площадь = 9 u^2



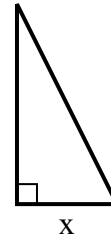
4) площадь = 12 u^2



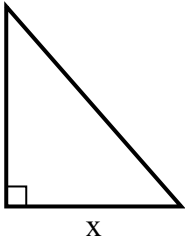
5) площадь = 36 u^2



6) площадь = 4 u^2



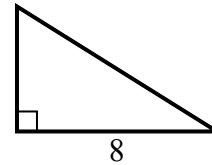
7) площадь = 28 u^2



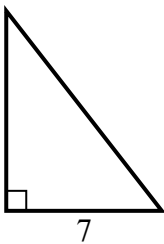
8) площадь = 6 u^2



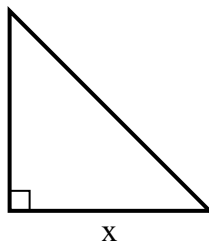
9) площадь = 20 u^2



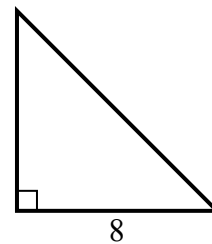
10) площадь = 31.5 u^2



11) площадь = 2 u^2



12) площадь = 32 u^2



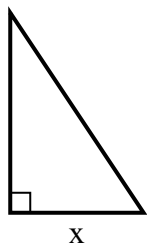
Ответы

1. _____
2. _____
3. _____
4. _____
5. _____
6. _____
7. _____
8. _____
9. _____
10. _____
11. _____
12. _____

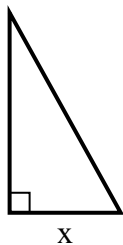


Найдите значение X.

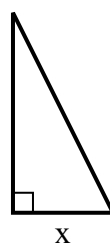
1) площадь = 27 u^2



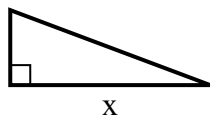
2) площадь = 22.5 u^2



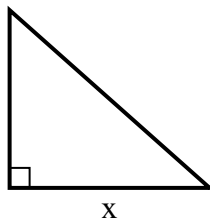
3) площадь = 9 u^2



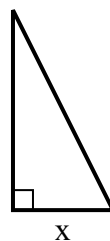
4) площадь = 12 u^2



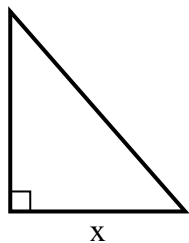
5) площадь = 36 u^2



6) площадь = 4 u^2



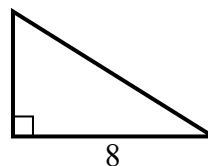
7) площадь = 28 u^2



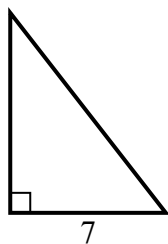
8) площадь = 6 u^2



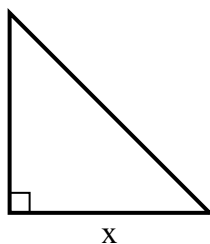
9) площадь = 20 u^2



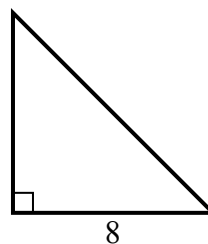
10) площадь = 31.5 u^2



11) площадь = 2 u^2



12) площадь = 32 u^2

**Ответы**1. 62. 53. 34. 85. 96. 27. 78. 29. 510. 911. 212. 8