




{bvari} и его друзья пытались выяснить, кто сможет отловить больше ошибок за день. Они записали свою информацию на пиктограмме ниже.

Bug Catching Contest



= 3 Жуки


- 1) Кто поймал именно 15 жука(ов)?
- 2) Кто поймал наибольшее количество жуков?
- 3) Кто выловил наименьшее количество жуков?
- 4) Кто обнаружил больше жуков, ? или ??
- 5) Сколько жуков обнаружил ??

Ответы

1. _____
2. _____
3. _____
4. _____
5. _____
6. _____
7. _____
8. _____
9. _____
10. _____

Несколько учеников помогали украшать школьные залы, рисуя картинки, чтобы повесить трубку. Пиктограмма ниже показывает количество рисунков, нарисованных каждым учеником.

картинки нарисованы



= 5 картинки нарисованы

- 6) Кто нарисовал именно 5 картинок?
- 7) Кто нарисовал больше всего картинок?
- 8) Сколько картинок нарисовал ??
- 9) Кто нарисовал меньше всего картинок?
- 10) ? или ? нарисовали больше картинок?



{bvari} и его друзья пытались выяснить, кто сможет отловить больше ошибок за день. Они записали свою информацию на пиктограмме ниже.

Bug Catching Contest

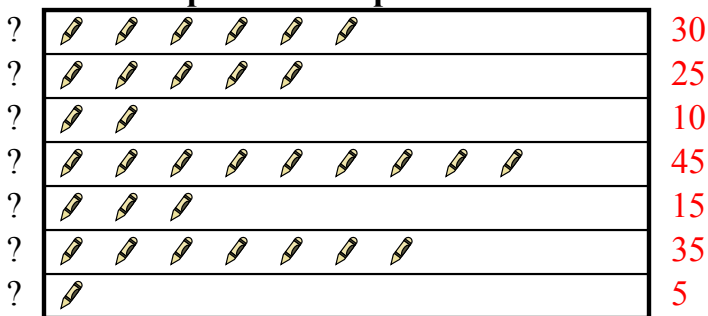


= 3 Жуки

- 1) Кто поймал именно 15 жука(ов)?
- 2) Кто поймал наибольшее количество жуков?
- 3) Кто выловил наименьшее количество жуков?
- 4) Кто обнаружил больше жуков, ? или ??
- 5) Сколько жуков обнаружил ??

Несколько учеников помогали украшать школьные залы, рисуя картинки, чтобы повесить трубку. Пиктограмма ниже показывает количество рисунков, нарисованных каждым учеником.

картинки нарисованы



= 5 картинки нарисованы

- 6) Кто нарисовал именно 5 картинок?
- 7) Кто нарисовал больше всего картинок?
- 8) Сколько картинок нарисовал ??
- 9) Кто нарисовал меньше всего картинок?
- 10) ? или ? нарисовали больше картинок?

ОТВЕТЫ

1. _____ ?
2. _____ ?
3. _____ ?
4. _____ ?
5. _____ 15
6. _____ ?
7. _____ ?
8. _____ 5
9. _____ ?
10. _____ ?