










































Ответы

Кинотеатр решил отследить количество маленьких упаковок попкорна, которые они продают каждый день. Они поместили собранную информацию в таблицы.

Проданные маленькие упаковки

Воскресенье	        
Среда	     
Четверг	   
Вторник	       
Суббота	    
Понедельник	
Пятница	     






































 = 8 проданные упаковки

- 1) Сколько проданных упаковок имела Четверг?
- 2) В какой день продано наибольшее количество поп-корна?
- 3) Сколько проданных упаковок имела 64?
- 4) В какой день продано наименьшее количество поп-корна?
- 5) В какой день продано больше поп-корна, Воскресенье или Среда?

1. _____
2. _____
3. _____
4. _____
5. _____
6. _____
7. _____
8. _____
9. _____
10. _____

Несколько учеников помогали украшать школьные залы, рисуя картинки, чтобы повесить трубку. Пиктограмма ниже показывает количество рисунков, нарисованных каждым учеником.

картинки нарисованы

?	        
?	   
?	    
?	     
?	 
?	       
?	  








































 = 9 картинки нарисованы


- 6) Кто нарисовал именно 27 картинок?
- 7) ? или ? нарисовали больше картинок?
- 8) Сколько картинок нарисовал ??
- 9) Кто нарисовал меньше всего картинок?
- 10) Кто нарисовал больше всего картинок?



Кинотеатр решил отследить количество маленьких упаковок попкорна, которые они продают каждый день. Они поместили собранную информацию в таблицы.

Проданные маленькие упаковки







































Воскресенье	        	72
Среда	     	56
Четверг	   	32
Вторник	       	64
Суббота	    	40
Понедельник		8
Пятница	     	48

 = 8 проданные упаковки

- 1) Сколько проданных упаковок имела Четверг?
- 2) В какой день продано наибольшее количество поп-корна?
- 3) Сколько проданных упаковок имела 64?
- 4) В какой день продано наименьшее количество поп-корна?
- 5) В какой день продано больше поп-корна, Воскресенье или Среда?

Несколько учеников помогали украшать школьные залы, рисуя картинки, чтобы повесить трубку. Пиктограмма ниже показывает количество рисунков, нарисованных каждым учеником.

картинки нарисованы

?	        	90
?	   	36
?	    	45
?	      	63
?	 	18
?	       	81
?	  	27

 = 9 картинки нарисованы

- 6) Кто нарисовал именно 27 картинок?
- 7) ? или ? нарисовали больше картинок?
- 8) Сколько картинок нарисовал ??
- 9) Кто нарисовал меньше всего картинок?
- 10) Кто нарисовал больше всего картинок?

ОТВЕТЫ

1. 32
2. Воскресенье
3. Вторник
4. Понедельник
5. Воскресенье
6. ?
7. ?
8. 27
9. ?
10. ?