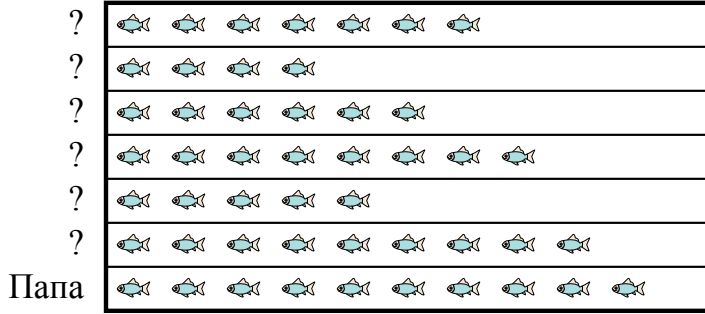




**Ответы**

Отец {bvarr} взял {bvarr} и 5 друзей на рыбалку. Они записали количество пойманной рыбы с помощью пиктограммы ниже.

**Результаты рыбалки**




= 2 Пойманная рыба

- 1) Кто поймал больше рыбы, ? или ??
- 2) Сколько рыбы поймал ??
- 3) Кто поймал именно 18 рыб?
- 4) Кто поймал меньше всего рыбы?
- 5) Кто поймал больше всего рыбы?

1. \_\_\_\_\_
2. \_\_\_\_\_
3. \_\_\_\_\_
4. \_\_\_\_\_
5. \_\_\_\_\_
6. \_\_\_\_\_
7. \_\_\_\_\_
8. \_\_\_\_\_
9. \_\_\_\_\_
10. \_\_\_\_\_

Метеоролог записывал количество дней, когда температура была выше 90 °. Он записал информацию на пиктограмме ниже.

**Дни выше 90 ° (f)**



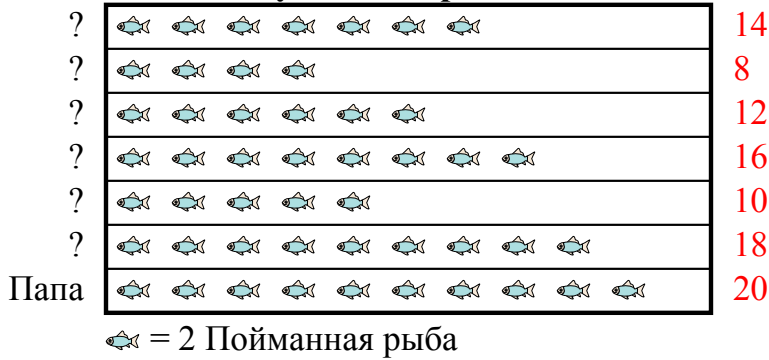
= 3 Дни

- 6) В каком году было больше дней выше 90 °, 1996 или 1995?
- 7) В каком году было ровно 15 дней выше 90 °?
- 8) В каком году было больше всего дней с температурой выше 90 °?
- 9) Сколько дней температура превышала 90 ° в 1997?
- 10) В каком году было меньше всего дней с температурой выше 90 °?



Отец {bvarr} взял {bvarr} и 5 друзей на рыбалку. Они записали количество пойманной рыбы с помощью пиктограммы ниже.

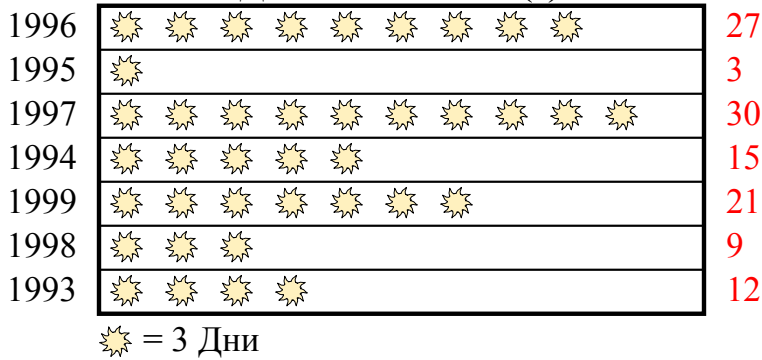
**Результаты рыбалки**



- 1) Кто поймал больше рыбы, ? или ??
- 2) Сколько рыбы поймал ??
- 3) Кто поймал именно 18 рыб?
- 4) Кто поймал меньше всего рыбы?
- 5) Кто поймал больше всего рыбы?

Метеоролог записывал количество дней, когда температура была выше 90 °. Он записал информацию на пиктограмме ниже.

**Дни выше 90 ° (f)**



- 6) В каком году было больше дней выше 90 °, 1996 или 1995?
- 7) В каком году было ровно 15 дней выше 90 °?
- 8) В каком году было больше всего дней с температурой выше 90 °?
- 9) Сколько дней температура превышала 90 ° в 1997?
- 10) В каком году было меньше всего дней с температурой выше 90 °?

**ОТВЕТЫ**

1.           ?
2.           18
3.           ?
4.           ?
5.           Папа
6.           1996
7.           1994
8.           1997
9.           30
10.          1995