



Определите отношение угла, больше, меньше или равно 90.

об)



1)



2)

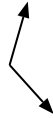


об. равно

3)



4)



5)



6)



7)



8)



9)



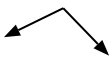
10)



11)



12)



13)



14)



15)



16)



17)



18)



19)



20)

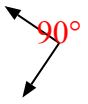


1. _____
2. _____
3. _____
4. _____
5. _____
6. _____
7. _____
8. _____
9. _____
10. _____
11. _____
12. _____
13. _____
14. _____
15. _____
16. _____
17. _____
18. _____
19. _____
20. _____



Определите отношение угла, больше, меньше или равно 90.

об)



1)



2)



об. равно

3)



4)



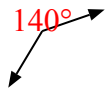
5)



1. больше

2. меньше

6)



7)



8)



3. меньше

4. больше

5. больше

6. больше

7. равно

9)



10)



11)

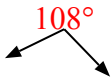


8. меньше

9. меньше

10. меньше

12)



13)



14)



11. равно

12. больше

13. меньше

15)



16)



17)



14. меньше

15. равно

16. больше

18)



19)



20)



17. больше

18. равно

19. равно

20. равно