

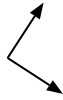


Определите отношение угла, больше, меньше или равно 90.

об)



1)



2)



**Ответы**

об. равно

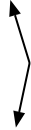
1. \_\_\_\_\_

2. \_\_\_\_\_

3)



4)



5)



3. \_\_\_\_\_

4. \_\_\_\_\_

6)



7)



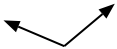
8)



5. \_\_\_\_\_

6. \_\_\_\_\_

9)



10)



11)



7. \_\_\_\_\_

8. \_\_\_\_\_

9. \_\_\_\_\_

10. \_\_\_\_\_

12)



13)



14)



11. \_\_\_\_\_

12. \_\_\_\_\_

13. \_\_\_\_\_

15)



16)



17)



14. \_\_\_\_\_

15. \_\_\_\_\_

16. \_\_\_\_\_

18)



19)



20)



17. \_\_\_\_\_

18. \_\_\_\_\_

19. \_\_\_\_\_

20. \_\_\_\_\_



Определите отношение угла, больше, меньше или равно 90.

об)



1)



2)



об. равно

3)



4)



5)



1. равно

2. меньше

6)



7)



8)



3. меньше

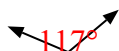
4. больше

5. больше

6. меньше

7. меньше

9)



10)



11)



8. меньше

9. больше

10. равно

12)



13)



14)



11. больше

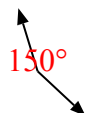
12. меньше

13. равно

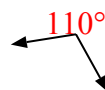
15)



16)



17)



14. равно

15. равно

16. больше

18)



19)



20)



17. больше

18. меньше

19. равно

20. меньше