



Определите отношение угла, больше, меньше или равно 90.

ОТВЕТЫ

об)



1)



2)



об. **меньше**

3)



4)



5)



1. _____

2. _____

3. _____

4. _____

5. _____

6)



7)



8)



6. _____

7. _____

9)



10)



11)

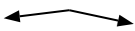


8. _____

9. _____

10. _____

12)



13)



14)



11. _____

12. _____

13. _____

15)



16)



17)

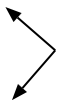


14. _____

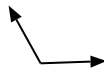
15. _____

16. _____

18)



19)



20)



17. _____

18. _____

19. _____

20. _____

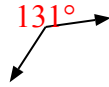


Определите отношение угла, больше, меньше или равно 90.

об)



1)



2)

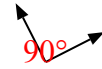


об. меньше


3)



4)



5)



1. больше

2. больше

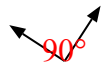
3. меньше

4. равно

6)



7)



8)

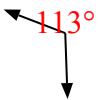


5. больше

6. равно

7. равно

9)



10)



11)



8. равно

9. больше

10. меньше

11. равно

12)



13)



14)



12. больше

13. больше

14. меньше

15)



16)



17)



15. меньше

16. равно

17. меньше

18)



19)



20)



18. равно

19. больше

20. равно