



Используйте шаблоны сетки, чтобы ответить на каждый вопрос. Каждая SVGREPLACE = 1 квадратная единица.

ОТВЕТЫ

1) _____

1

2

3

4



A. Если описанная выше модель продолжится, какой будет площадь VAR сетки?

B. Если описанная выше модель продолжится, какой будет площадь VAR сетки?

1. _____

2. _____

3. _____

4. _____

2) _____

1

2

3

4



A. Если описанная выше модель продолжится, какой будет площадь VAR сетки?

B. Если описанная выше модель продолжится, какой будет площадь VAR сетки?

5. _____

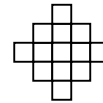
3) _____

1

2

3

4



A. Если описанная выше модель продолжится, какой будет площадь VAR сетки?

B. Если описанная выше модель продолжится, какой будет площадь VAR сетки?

4) _____

1

2

3

4



A. Если описанная выше модель продолжится, какой будет площадь VAR сетки?

B. Если описанная выше модель продолжится, какой будет площадь VAR сетки?



5) _____

1

2

3

4



A. Если описанная выше модель продолжится, какой будет площадь VAR сетки?

B. Если описанная выше модель продолжится, какой будет площадь VAR сетки?

