





Используйте схемы ниже, чтобы создать прямоугольник с показанной площадью / периметром. Каждая SVGREPLACE = 1 единица (u). Ответьте длиной и высотой. Ответы будут различаться.


1) Периметр блоков 6.




2) Периметр блоков 34.




3) Периметр блоков 14.




4) Периметр блоков 24.




5) Площадь 12 квадратных единиц.




6) Площадь 32 квадратных единиц.




7) Площадь 40 квадратных единиц.




8) Площадь 27 квадратных единиц.




9) Площадь 5 квадратных единиц.




10) Периметр блоков 16.



11) Периметр блоков 10.



12) Периметр блоков 30.




ОТВЕТЫ

1. _____ = $6u$
2. _____ = $34u$
3. _____ = $14u$
4. _____ = $24u$
5. _____ = $12u^2$
6. _____ = $32u^2$
7. _____ = $40u^2$
8. _____ = $27u^2$
9. _____ = $5u^2$
10. _____ = $16u$
11. _____ = $10u$
12. _____ = $30u$




Используйте схемы ниже, чтобы создать прямоугольник с показанной площадью / периметром. Каждая SVGREPLACE = 1 единица (u). Ответьте длиной и высотой. Ответы будут различаться.


1) Периметр блоков 6.




2) Периметр блоков 34.




3) Периметр блоков 14.




4) Периметр блоков 24.




5) Площадь 12 квадратных единиц.




6) Площадь 32 квадратных единиц.




7) Площадь 40 квадратных единиц.




8) Площадь 27 квадратных единиц.




9) Площадь 5 квадратных единиц.




10) Периметр блоков 16.



11) Периметр блоков 10.



12) Периметр блоков 30.



ОТВЕТЫ

1. _____ = $6u$
2. _____ = $34u$
3. _____ = $14u$
4. _____ = $24u$
5. _____ = $12u^2$
6. _____ = $32u^2$
7. _____ = $40u^2$
8. _____ = $27u^2$
9. _____ = $5u^2$
10. _____ = $16u$
11. _____ = $10u$
12. _____ = $30u$