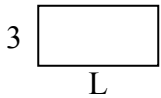


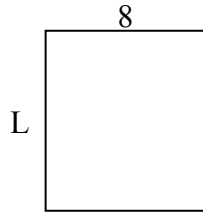


Определите значение 'L'

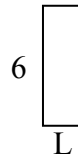
1) Площадь =  $18u^2$



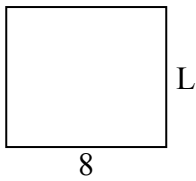
2) Площадь =  $72u^2$



3) Площадь =  $12u^2$



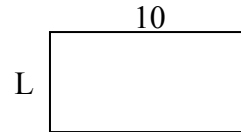
4) Площадь =  $56u^2$



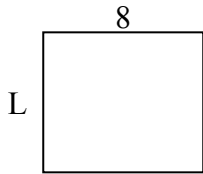
5) Площадь =  $6u^2$



6) Площадь =  $50u^2$



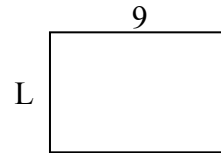
7) Площадь =  $56u^2$



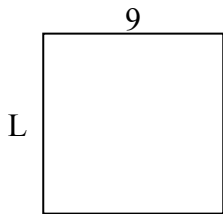
8) Площадь =  $27u^2$



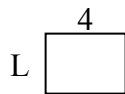
9) Площадь =  $54u^2$



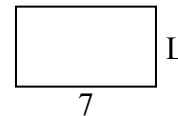
10) Площадь =  $81u^2$



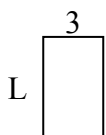
11) Площадь =  $12u^2$




12) Площадь =  $28u^2$



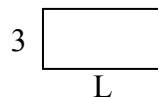
13) Площадь =  $15u^2$



14) Площадь =  $20u^2$



15) Площадь =  $18u^2$



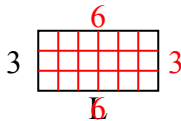
**ОТВЕТЫ**

1. \_\_\_\_\_
2. \_\_\_\_\_
3. \_\_\_\_\_
4. \_\_\_\_\_
5. \_\_\_\_\_
6. \_\_\_\_\_
7. \_\_\_\_\_
8. \_\_\_\_\_
9. \_\_\_\_\_
10. \_\_\_\_\_
11. \_\_\_\_\_
12. \_\_\_\_\_
13. \_\_\_\_\_
14. \_\_\_\_\_
15. \_\_\_\_\_

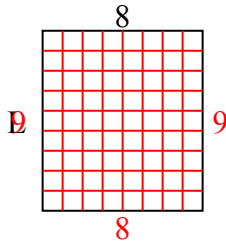


Определите значение 'L'

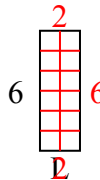
1) Площадь =  $18u^2$



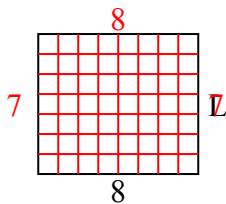
2) Площадь =  $72u^2$



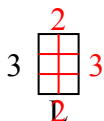
3) Площадь =  $12u^2$



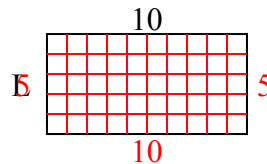
4) Площадь =  $56u^2$



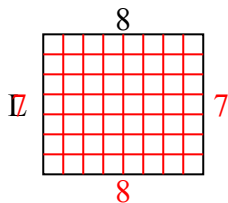
5) Площадь =  $6u^2$



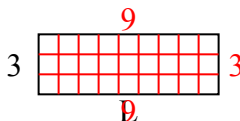
6) Площадь =  $50u^2$



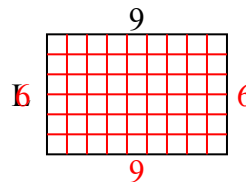
7) Площадь =  $56u^2$



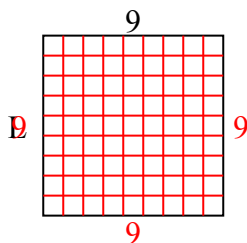
8) Площадь =  $27u^2$



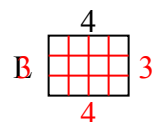
9) Площадь =  $54u^2$



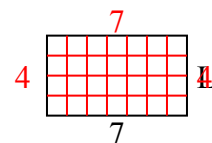
10) Площадь =  $81u^2$



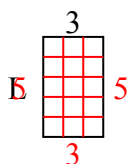
11) Площадь =  $12u^2$



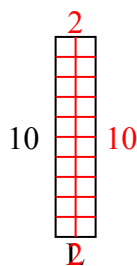
12) Площадь =  $28u^2$



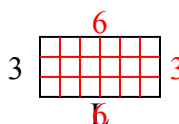
13) Площадь =  $15u^2$



14) Площадь =  $20u^2$



15) Площадь =  $18u^2$



**ОТВЕТЫ**

1. 6

2. 9

3. 2

4. 7

5. 2

6. 5

7. 7

8. 9

9. 6

10. 9

11. 3

12. 4

13. 5

14. 2

15. 6