



Решите каждую задачу.

- 1) Прямоугольник ниже имеет размеры  $3 \times 8$ . Создайте прямоугольник с той же площадью, но с другим периметром.



- 2) Прямоугольник ниже имеет размеры  $1 \times 10$ . Создайте прямоугольник с той же площадью, но с другим периметром.



- 3) Прямоугольник ниже имеет размеры  $2 \times 2$ . Создайте прямоугольник с той же площадью, но с другим периметром.



- 4) Прямоугольник ниже имеет размеры  $4 \times 10$ . Создайте прямоугольник с той же площадью, но с другим периметром.



- 5) Прямоугольник ниже имеет размеры  $3 \times 3$ . Создайте прямоугольник с той же площадью, но с другим периметром.



Ответы

1. \_\_\_\_\_

2. \_\_\_\_\_

3. \_\_\_\_\_


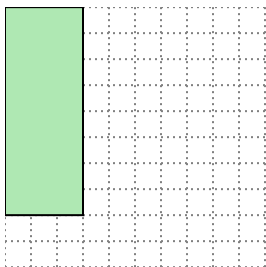
4. \_\_\_\_\_

5. \_\_\_\_\_

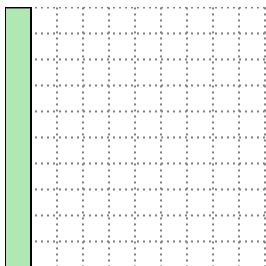


Решите каждую задачу.


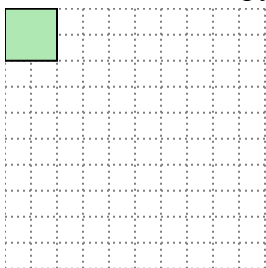
- 1) Прямоугольник ниже имеет размеры  $3 \times 8$ . Создайте прямоугольник с той же площадью, но с другим периметром.

 $4 \times 6$ 



- 2) Прямоугольник ниже имеет размеры  $1 \times 10$ . Создайте прямоугольник с той же площадью, но с другим периметром.

 $2 \times 5$ 

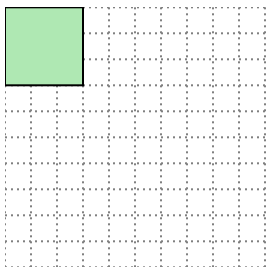
- 3) Прямоугольник ниже имеет размеры  $2 \times 2$ . Создайте прямоугольник с той же площадью, но с другим периметром.

 $1 \times 4$ 

- 4) Прямоугольник ниже имеет размеры  $4 \times 10$ . Создайте прямоугольник с той же площадью, но с другим периметром.

 $5 \times 8$ 

- 5) Прямоугольник ниже имеет размеры  $3 \times 3$ . Создайте прямоугольник с той же площадью, но с другим периметром.

 $1 \times 9$ Ответы1. 4x62. 2x53. 1x44. 5x85. 1x9