



Определите под какой буквой объем представлен наиболее верно.

ОТВЕТЫ

Xícara

Una taza se refiere a la cantidad de leche que se obtiene de la cafetería.



Pinta

Uma pinta é aproximadamente a quantidade que você recebe em um copo grande.
1 pinta = 2 xícaras



Quarto

Um quarto é mais ou menos a quantidade que você consegue em um recipiente grande de leite.
1 cuarto = 2 pintas



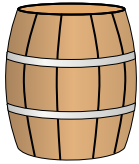
Galón

Un galón es la cantidad que viene en un recipiente de plástico grande.
1 galón = 4 cuartos



1. _____
2. _____
3. _____
4. _____
5. _____
6. _____
7. _____
8. _____
9. _____

1)



Вода в бочке
A. 50 галлоны
B. 20 чаши
C. 3 дюймов
D. 10 пинты

2)



газировка в банке
A. 4 чаши
B. 1 галлоны
C. 4 пинты
D. 1.5 чаши

3)



Мука в пачке печенья
A. 5 галлоны
B. 2 кварталы
C. 1.5 чаши
D. 2 галлоны

4)



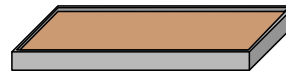
Песок в ведре
A. 7 жидкие унции
B. 1 чаши
C. 1 галлоны
D. 32 галлоны

5)




Измерительная чашка
A. 1 чаши
B. 1 галлоны
C. 1 кварталы
D. 1 пинты

6)



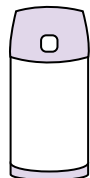
Мука на сковороде с пирожными
A. 3 галлоны
B. 2 чаши
C. 8 галлоны
D. 16 кварталы

7)



Отшлифуйте тачку
A. 8 кварталы
B. 45 галлоны
C. 1000 граммов(ма)
D. 4 чаши

8)



Жидкость в термосе
A. 1 чаши
B. 1 галлоны
C. 2 фунтов(та)
D. 4 кварталы

9)



Вода для комнатного растения
A. 3 галлоны
B. 6 кварталы
C. 4 фунтов(та)
D. 2 чаши



Определите под какой буквой объем представлен наиболее верно.

ОТВЕТЫ

Xícara

Una taza se refiere a la cantidad de leche que se obtiene de la cafetería.



Pinta

Uma pinta é aproximadamente a quantidade que você recebe em um copo grande.
1 pinta = 2 xícaras



Quarto

Um quarto é mais ou menos a quantidade que você consegue em um recipiente grande de leite.
1 cuarto = 2 pintas



Galón

Un galón es la cantidad que viene en un recipiente de plástico grande.
1 galón = 4 cuartos



1. A

2. D

3. C

4. C

5. A


6. B

7. B

8. A

9. D


1)



Вода в бочке

- A. 50 галлоны
- B. 20 чаши
- C. 3 дюймов
- D. 10 пинты

2)



газировка в банке

- A. 4 чаши
- B. 1 галлоны
- C. 4 пинты
- D. 1.5 чаши

3)



Мука в пачке печенья

- A. 5 галлоны
- B. 2 кварталы
- C. 1.5 чаши
- D. 2 галлоны

4)



Песок в ведре

- A. 7 жидкие унции
- B. 1 чаши
- C. 1 галлоны
- D. 32 галлоны

5)



Измерительная чашка

- A. 1 чаши
- B. 1 галлоны
- C. 1 кварталы
- D. 1 пинты


6)



Мука на сковороде с пирожными

- A. 3 галлоны
- B. 2 чаши
- C. 8 галлоны
- D. 16 кварталы

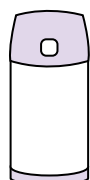
7)



Отшлифуйте тачку

- A. 8 кварталы
- B. 45 галлоны
- C. 1000 граммов(ма)
- D. 4 чаши

8)



Жидкость в термосе

- A. 1 чаши
- B. 1 галлоны
- C. 2 фунтов(та)
- D. 4 кварталы

9)



Вода для комнатного растения

- A. 3 галлоны
- B. 6 кварталы
- C. 4 фунтов(та)
- D. 2 чаши