



Определите под какой буквой объем представлен наиболее верно.

ОТВЕТЫ

Xícara

Una taza se refiere a la cantidad de leche que se obtiene de la cafetería.



Pinta

Uma pinta é aproximadamente a quantidade que você recebe em um copo grande.
1 pinta = 2 xícaras



Quarto

Um quarto é mais ou menos a quantidade que você consegue em um recipiente grande de leite.
1 cuarto = 2 pintas



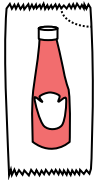
Galón

Un galón es la cantidad que viene en un recipiente de plástico grande.
1 galón = 4 cuartos



1. _____
2. _____
3. _____
4. _____
5. _____
6. _____
7. _____
8. _____
9. _____


1)



Кетчуп в пачке

- A. 1.5 пинты
- B. 2 кварта
- C. 0.5 галлоны
- D. меньше, чем 1 чаши

2)



Ледяной сундук

- A. 2 кварта
- B. 16 чаши
- C. 100 кварта
- D. 5 галлоны

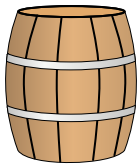
3)



Песок в ведре

- A. 1 чаши
- B. 1 галлоны
- C. 32 галлоны
- D. 7 жидкие унции

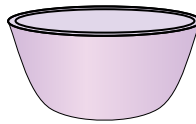
4)



Вода в бочке

- A. 20 чаши
- B. 3 дюймов
- C. 50 галлоны
- D. 10 пинты

5)



Чаша для хлопьев

- A. 4 пинты
- B. 0.5 галлоны
- C. 1 пинты
- D. 2 галлоны

6)



2 литра газировки

- A. 5 галлоны
- B. 0.5 галлоны
- C. 2 чаши
- D. 1 пинты

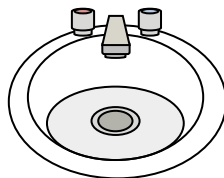
7)



Чернила в ручке

- A. 2 пинты
- B. 1 галлоны
- C. меньше, чем 1 чаши
- D. 1 кварта

8)



Вода в раковине в ванной

- A. 2 чаши
- B. 2 галлоны
- C. 2 пинты
- D. 2 жидкие унции

9)



Жидкость в ложке

- A. 1 кварта
- B. 1 чаши
- C. 1 пинты
- D. Less than a cup



Определите под какой буквой объем представлен наиболее верно.

ОТВЕТЫ

Xícara

Una taza se refiere a la cantidad de leche que se obtiene de la cafetería.



Pinta

Uma pinta é aproximadamente a quantidade que você recebe em um copo grande.
1 pinta = 2 xícaras



Quarto

Um quarto é mais ou menos a quantidade que você consegue em um recipiente grande de leite.
1 cuarto = 2 pintas



Galón

Un galón es la cantidad que viene en un recipiente de plástico grande.
1 galón = 4 cuartos



1. **D**

2. **C**

3. **B**

4. **C**

5. **C**

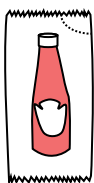
6. **B**

7. **C**

8. **B**

9. **D**


1)



Кетчуп в пачке

- A. 1.5 пинты
- B. 2 кварты
- C. 0.5 галлоны
- D. меньше, чем 1 чаши

2)



Ледяной сундук

- A. 2 кварты
- B. 16 чаши
- C. 100 кварты
- D. 5 галлоны


3)



Песок в ведре

- A. 1 чаши
- B. 1 галлоны
- C. 32 галлоны
- D. 7 жидкие унции

4)



Вода в бочке

- A. 20 чаши
- B. 3 дюймов
- C. 50 галлоны
- D. 10 пинты

5)



Чаша для хлопьев

- A. 4 пинты
- B. 0.5 галлоны
- C. 1 пинты
- D. 2 галлоны

6)



2 литра газировки

- A. 5 галлоны
- B. 0.5 галлоны
- C. 2 чаши
- D. 1 пинты

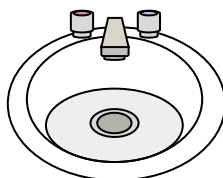
7)



Чернила в ручке

- A. 2 пинты
- B. 1 галлоны
- C. меньше, чем 1 чаши
- D. 1 кварты

8)



Вода в раковине в ванной

- A. 2 чаши
- B. 2 галлоны
- C. 2 пинты
- D. 2 жидкие унции

9)



Жидкость в ложке

- A. 1 кварты
- B. 1 чаши
- C. 1 пинты
- D. Less than a cup



Определите под какой буквой объем представлен наиболее верно.

ОТВЕТЫ

Xícara

Una taza se refiere a la cantidad de leche que se obtiene de la cafetería.



Pinta

Uma pinta é aproximadamente a quantidade que você recebe em um copo grande.
1 pinta = 2 xícaras



Quarto

Um quarto é mais ou menos a quantidade que você consegue em um recipiente grande de leite.
1 cuarto = 2 pintas



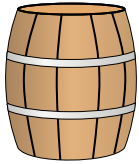
Galón

Un galón es la cantidad que viene en un recipiente de plástico grande.
1 galón = 4 cuartos



1. _____
2. _____
3. _____
4. _____
5. _____
6. _____
7. _____
8. _____
9. _____

1)



Вода в бочке
A. 50 галлоны
B. 20 чаши
C. 3 дюймов
D. 10 пинты

2)



газировка в банке
A. 4 чаши
B. 1 галлоны
C. 4 пинты
D. 1.5 чаши

3)



Мука в пачке печенья
A. 5 галлоны
B. 2 кварталы
C. 1.5 чаши
D. 2 галлоны

4)



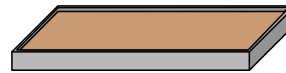
Песок в ведре
A. 7 жидкие унции
B. 1 чаши
C. 1 галлоны
D. 32 галлоны

5)




Измерительная чашка
A. 1 чаши
B. 1 галлоны
C. 1 кварталы
D. 1 пинты

6)



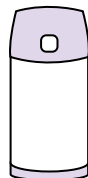
Мука на сковороде с пирожными
A. 3 галлоны
B. 2 чаши
C. 8 галлоны
D. 16 кварталы

7)



Отшлифуйте тачку
A. 8 кварталы
B. 45 галлоны
C. 1000 граммов(ма)
D. 4 чаши

8)



Жидкость в термосе
A. 1 чаши
B. 1 галлоны
C. 2 фунтов(та)
D. 4 кварталы

9)



Вода для комнатного растения
A. 3 галлоны
B. 6 кварталы
C. 4 фунтов(та)
D. 2 чаши



Определите под какой буквой объем представлен наиболее верно.

ОТВЕТЫ

Xícara

Una taza se refiere a la cantidad de leche que se obtiene de la cafetería.



Pinta

Uma pinta é aproximadamente a quantidade que você recebe em um copo grande.
1 pinta = 2 xícaras



Quarto

Um quarto é mais ou menos a quantidade que você consegue em um recipiente grande de leite.
1 cuarto = 2 pintas



Galón

Un galón es la cantidad que viene en un recipiente de plástico grande.
1 galón = 4 cuartos



1. A

2. D

3. C

4. C

5. A


6. B

7. B

8. A

9. D


1)



Вода в бочке

- A. 50 галлоны
- B. 20 чаши
- C. 3 дюймов
- D. 10 пинты

2)



газировка в банке

- A. 4 чаши
- B. 1 галлоны
- C. 4 пинты
- D. 1.5 чаши

3)



Мука в пачке печенья

- A. 5 галлоны
- B. 2 кварталы
- C. 1.5 чаши
- D. 2 галлоны

4)



Песок в ведре

- A. 7 жидкие унции
- B. 1 чаши
- C. 1 галлоны
- D. 32 галлоны

5)



Измерительная чашка

- A. 1 чаши
- B. 1 галлоны
- C. 1 кварталы
- D. 1 пинты


6)



Мука на сковороде с пирожными

- A. 3 галлоны
- B. 2 чаши
- C. 8 галлоны
- D. 16 кварталы

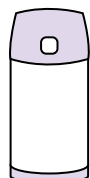
7)



Отшлифуйте тачку

- A. 8 кварталы
- B. 45 галлоны
- C. 1000 граммов(ма)
- D. 4 чаши

8)



Жидкость в термосе

- A. 1 чаши
- B. 1 галлоны
- C. 2 фунтов(та)
- D. 4 кварталы

9)



Вода для комнатного растения

- A. 3 галлоны
- B. 6 кварталы
- C. 4 фунтов(та)
- D. 2 чаши



Определите под какой буквой объем представлен наиболее верно.

ОТВЕТЫ

Xícara

Una taza se refiere a la cantidad de leche que se obtiene de la cafetería.



Pinta

Uma pinta é aproximadamente a quantidade que você recebe em um copo grande.
1 pinta = 2 xícaras



Quarto

Um quarto é mais ou menos a quantidade que você consegue em um recipiente grande de leite.
1 cuarto = 2 pintas



Galón

Un galón es la cantidad que viene en un recipiente de plástico grande.
1 galón = 4 cuartos



1. _____
2. _____
3. _____
4. _____
5. _____
6. _____
7. _____
8. _____
9. _____

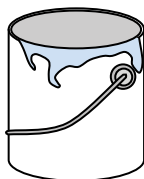
1)



Зубная паста в тюбике

- A. 0.5 чаши
- B. 0.5 галлоны
- C. 5 кварты
- D. 5 граммов(ма)

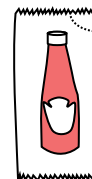
2)



Краска в банке

- A. 0.5 пинты
- B. 3 жидкие унции
- C. 1 галлоны
- D. 1 чаши

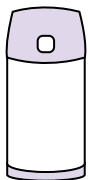
3)



Кетчуп в пачке

- A. 2 кварты
- B. меньше, чем 1 чаши
- C. 1.5 пинты
- D. 0.5 галлоны

4)



Жидкость в термосе

- A. 1 галлоны
- B. 1 чаши
- C. 2 фунтов(та)
- D. 4 кварты

5)



Шампунь во флаконе

- A. 2 пинты
- B. 0.5 галлоны
- C. 100 чаши
- D. 1 чаши

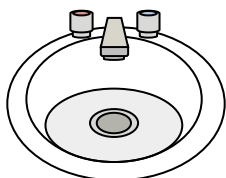
6)



Клей в бутылке

- A. 0.5 чаши
- B. 2 кварты
- C. 1 пинты
- D. 3 галлоны

7)



Вода в раковине в ванной

- A. 2 галлоны
- B. 2 жидкие унции
- C. 2 пинты
- D. 2 чаши


8)



Жидкость в чайной чашке

- A. 1 чаши
- B. 1 галлоны
- C. 1 кварты
- D. 1 пинты

9)



Отшлифуйте тачку

- A. 45 галлоны
- B. 1000 граммов(ма)
- C. 4 чаши
- D. 8 кварты



Определите под какой буквой объем представлен наиболее верно.

ОТВЕТЫ

Xícara

Una taza se refiere a la cantidad de leche que se obtiene de la cafetería.



Pinta

Uma pinta é aproximadamente a quantidade que você recebe em um copo grande.
1 pinta = 2 xícaras



Quarto

Um quarto é mais ou menos a quantidade que você consegue em um recipiente grande de leite.
1 cuarto = 2 pintas



Galón

Un galón es la cantidad que viene en un recipiente de plástico grande.
1 galón = 4 cuartos



1. A

2. C

3. B

4. B

5. A

6. A

7. A

8. A

9. A

1)



Зубная паста в тюбике

- A. 0.5 чаши
- B. 0.5 галлоны
- C. 5 кварты
- D. 5 граммов(ма)

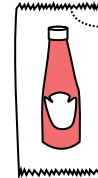
2)



Краска в банке

- A. 0.5 пинты
- B. 3 жидкие унции
- C. 1 галлоны
- D. 1 чаши

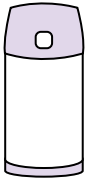
3)



Кетчуп в пачке

- A. 2 кварты
- B. меньше, чем 1 чаши
- C. 1.5 пинты
- D. 0.5 галлоны

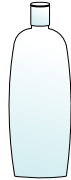
4)



Жидкость в термосе

- A. 1 галлоны
- B. 1 чаши
- C. 2 фунтов(та)
- D. 4 кварты

5)



Шампунь во флаконе

- A. 2 пинты
- B. 0.5 галлоны
- C. 100 чаши
- D. 1 чаши

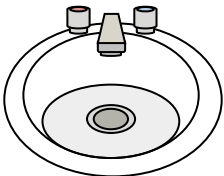
6)



Клей в бутылке

- A. 0.5 чаши
- B. 2 кварты
- C. 1 пинты
- D. 3 галлоны

7)



Вода в раковине в ванной

- A. 2 галлоны
- B. 2 жидкие унции
- C. 2 пинты
- D. 2 чаши


8)



Жидкость в чайной чашке

- A. 1 чаши
- B. 1 галлоны
- C. 1 кварты
- D. 1 пинты

9)



Отшлифуйте тачку

- A. 45 галлоны
- B. 1000 граммов(ма)
- C. 4 чаши
- D. 8 кварты



Определите под какой буквой объем представлен наиболее верно.

ОТВЕТЫ

Xícara

Una taza se refiere a la cantidad de leche que se obtiene de la cafetería.



Pinta

Uma pinta é aproximadamente a quantidade que você recebe em um copo grande.
1 pinta = 2 xícaras



Quarto

Um quarto é mais ou menos a quantidade que você consegue em um recipiente grande de leite.
1 cuarto = 2 pintas



Galón

Un galón es la cantidad que viene en un recipiente de plástico grande.
1 galón = 4 cuartos



1. _____
2. _____
3. _____
4. _____
5. _____
6. _____
7. _____
8. _____
9. _____


1)



Вода для комнатного растения

- A. 3 галлоны
- B. 2 чаши
- C. 6 кварта
- D. 4 фунтов(та)

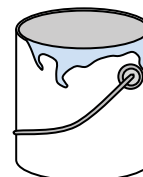
2)



Вода в бочке

- A. 20 чаши
- B. 50 галлоны
- C. 3 дюймов
- D. 10 пинты

3)



Краска в банке

- A. 3 жидкие унции
- B. 1 чаши
- C. 1 галлоны
- D. 0.5 пинты

4)



Чернила в ручке

- A. 1 кварта
- B. меньше, чем 1 чаши
- C. 1 галлоны
- D. 2 пинты

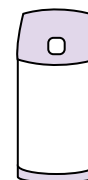
5)



Чаша для хлопьев

- A. 2 галлоны
- B. 1 пинты
- C. 4 пинты
- D. 0.5 галлоны

6)



Жидкость в термосе

- A. 2 фунтов(та)
- B. 4 кварта
- C. 1 галлоны
- D. 1 чаши

7)



Жидкость в чайной чашке

- A. 1 пинты
- B. 1 кварта
- C. 1 чаши
- D. 1 галлоны


8)



Мука в пачке печенья

- A. 2 кварта
- B. 1.5 чаши
- C. 2 галлоны
- D. 5 галлоны

9)



Жидкость в кувшине

- A. 1 пинты
- B. 2 кварта
- C. 8 галлоны
- D. 2 чаши



Определите под какой буквой объем представлен наиболее верно.

ОТВЕТЫ

Xícara

Una taza se refiere a la cantidad de leche que se obtiene de la cafetería.



Pinta

Uma pinta é aproximadamente a quantidade que você recebe em um copo grande.
1 pinta = 2 xícaras



Quarto

Um quarto é mais ou menos a quantidade que você consegue em um recipiente grande de leite.
1 cuarto = 2 pintas



Galón

Un galón es la cantidad que viene en un recipiente de plástico grande.
1 galón = 4 cuartos



1. B

2. B

3. C

4. B

5. B

6. D

7. C

8. B

9. B


1)



Вода для комнатного растения

- A. 3 галлоны
- B. 2 чаши
- C. 6 кварта
- D. 4 фунтов(та)

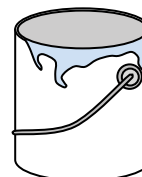
2)



Вода в бочке

- A. 20 чаши
- B. 50 галлоны
- C. 3 дюймов
- D. 10 пинты

3)



Краска в банке

- A. 3 жидкие унции
- B. 1 чаши
- C. 1 галлоны
- D. 0.5 пинты

4)



Чернила в ручке

- A. 1 кварта
- B. меньше, чем 1 чаши
- C. 1 галлоны
- D. 2 пинты


5)



Чаша для хлопьев

- A. 2 галлоны
- B. 1 пинты
- C. 4 пинты
- D. 0.5 галлоны

6)



Жидкость в термосе

- A. 2 фунтов(та)
- B. 4 кварта
- C. 1 галлоны
- D. 1 чаши

7)



Жидкость в чайной чашке

- A. 1 пинты
- B. 1 кварта
- C. 1 чаши
- D. 1 галлоны


8)



Мука в пачке печенья

- A. 2 кварта
- B. 1.5 чаши
- C. 2 галлоны
- D. 5 галлоны

9)



Жидкость в кувшине

- A. 1 пинты
- B. 2 кварта
- C. 8 галлоны
- D. 2 чаши



Определите под какой буквой объем представлен наиболее верно.

ОТВЕТЫ

Xícara

Una taza se refiere a la cantidad de leche que se obtiene de la cafetería.



Pinta

Uma pinta é aproximadamente a quantidade que você recebe em um copo grande.
1 pinta = 2 xícaras



Quarto

Um quarto é mais ou menos a quantidade que você consegue em um recipiente grande de leite.
1 cuarto = 2 pintas




Galón

Un galón es la cantidad que viene en un recipiente de plástico grande.
1 galón = 4 cuartos



1. _____
2. _____
3. _____
4. _____
5. _____
6. _____
7. _____
8. _____
9. _____

1)



Бензобак в машине

- A. 16 чаши
- B. 4 пинты
- C. 3 кварты
- D. 15 галлоны

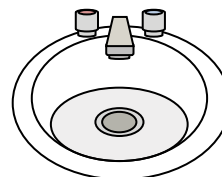
2)



Зубная паста в тюбике

- A. 0.5 галлоны
- B. 5 граммов(ма)
- C. 5 кварты
- D. 0.5 чаши

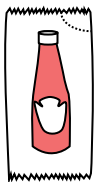
3)



Вода в раковине в ванной

- A. 2 пинты
- B. 2 жидкие унции
- C. 2 галлоны
- D. 2 чаши

4)



Кетчуп в пачке

- A. 2 кварты
- B. 0.5 галлоны
- C. меньше, чем 1 чаши
- D. 1.5 пинты


5)



Клей в бутылке

- A. 1 пинты
- B. 3 галлоны
- C. 0.5 чаши
- D. 2 кварты

6)



Отшлифуйте тачку

- A. 45 галлоны
- B. 1000 граммов(ма)
- C. 8 кварты
- D. 4 чаши

7)



Песок в ведре

- A. 7 жидкие унции
- B. 1 галлоны
- C. 32 галлоны
- D. 1 чаши

8)



Жидкость в ложке

- A. Less than a cup
- B. 1 чаши
- C. 1 пинты
- D. 1 кварты

9)



газировка в банке

- A. 1 галлоны
- B. 1.5 чаши
- C. 4 чаши
- D. 4 пинты



Определите под какой буквой объем представлен наиболее верно.

ОТВЕТЫ

Xícara

Una taza se refiere a la cantidad de leche que se obtiene de la cafetería.



Pinta

Uma pinta é aproximadamente a quantidade que você recebe em um copo grande.
1 pinta = 2 xícaras



Quarto

Um quarto é mais ou menos a quantidade que você consegue em um recipiente grande de leite.
1 cuarto = 2 pintas



Galón

Un galón es la cantidad que viene en un recipiente de plástico grande.
1 galón = 4 cuartos



1. D

2. D

3. C

4. C

5. C


6. A

7. B

8. A

9. B

1)



Бензобак в машине

- A. 16 чаш
- B. 4 пинты
- C. 3 кварты
- D. 15 галлоны

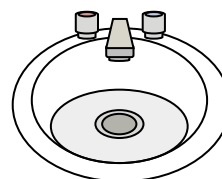
2)



Зубная паста в тюбике

- A. 0.5 галлоны
- B. 5 граммов(ма)
- C. 5 кварты
- D. 0.5 чаш

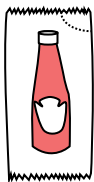
3)



Вода в раковине в ванной

- A. 2 пинты
- B. 2 жидкие унции
- C. 2 галлоны
- D. 2 чаш

4)



Кетчуп в пакче

- A. 2 кварты
- B. 0.5 галлоны
- C. меньше, чем 1 чаш
- D. 1.5 пинты


5)



Клей в бутылке

- A. 1 пинты
- B. 3 галлоны
- C. 0.5 чаш
- D. 2 кварты

6)



Отшлифуйте тачку

- A. 45 галлоны
- B. 1000 граммов(ма)
- C. 8 кварты
- D. 4 чаш

7)



Песок в ведре

- A. 7 жидкие унции
- B. 1 галлоны
- C. 32 галлоны
- D. 1 чаш

8)



Жидкость в ложке

- A. Less than a cup
- B. 1 чаш
- C. 1 пинты
- D. 1 кварты

9)



газировка в банке

- A. 1 галлоны
- B. 1.5 чаш
- C. 4 чаш
- D. 4 пинты



Определите под какой буквой объем представлен наиболее верно.

ОТВЕТЫ

Xicara

Una taza se refiere a la cantidad de leche que se obtiene de la cafetería.



Pinta

Uma pinta é aproximadamente a quantidade que você recebe em um copo grande.
1 pinta = 2 xícaras



Quarto

Um quarto é mais ou menos a quantidade que você consegue em um recipiente grande de leite.
1 cuarto = 2 pintas



Galón

Un galón es la cantidad que viene en un recipiente de plástico grande.
1 galón = 4 cuartos



1. _____
2. _____
3. _____
4. _____
5. _____
6. _____
7. _____
8. _____
9. _____


1)



Клей в бутылке

- A. 1 пинты
- B. 3 галлоны
- C. 2 кварты
- D. 0.5 чаши


2)



Отшлифуйте тачку

- A. 8 кварты
- B. 45 галлоны
- C. 4 чаши
- D. 1000 граммов(ма)

3)



Ледяной сундук

- A. 16 чаши
- B. 2 кварты
- C. 100 кварты
- D. 5 галлоны


4)



Краска в банке

- A. 3 жидкие унции
- B. 1 чаши
- C. 0.5 пинты
- D. 1 галлоны

5)



Пипетка держит

- A. 3 галлоны
- B. 1 пинты
- C. меньше, чем 1 чаши
- D. 1 чаши

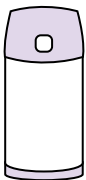
6)



Зубная паста в тюбике

- A. 0.5 чаши
- B. 5 граммов(ма)
- C. 5 кварты
- D. 0.5 галлоны

7)



Жидкость в термосе

- A. 1 галлоны
- B. 1 чаши
- C. 4 кварты
- D. 2 фунтов(та)

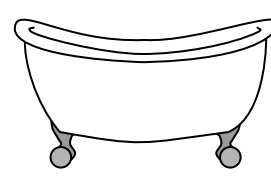
8)



Песок в ведре

- A. 32 галлоны
- B. 1 чаши
- C. 1 галлоны
- D. 7 жидкие унции

9)



Ванна

- A. 20 пинты
- B. 45 галлоны
- C. 40 чаши
- D. 8 кварты



Определите под какой буквой объем представлен наиболее верно.

ОТВЕТЫ

Xicara

Una taza se refiere a la cantidad de leche que se obtiene de la cafetería.



Pinta

Uma pinta é aproximadamente a quantidade que você recebe em um copo grande.
1 pinta = 2 xícaras



Quarto

Um quarto é mais ou menos a quantidade que você consegue em um recipiente grande de leite.
1 cuarto = 2 pintas



Galón

Un galón es la cantidad que viene en un recipiente de plástico grande.
1 galón = 4 cuartos




1)



Клей в бутылке

- A. 1 пинты
- B. 3 галлоны
- C. 2 кварты
- D. 0.5 чаши


2)



Отшлифуйте тачку

- A. 8 кварты
- B. 45 галлоны
- C. 4 чаши
- D. 1000 граммов(ма)

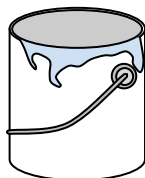
3)



Ледяной сундук

- A. 16 чаши
- B. 2 кварты
- C. 100 кварты
- D. 5 галлоны

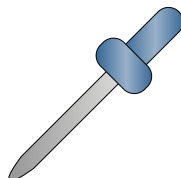
4)



Краска в банке

- A. 3 жидкие унции
- B. 1 чаши
- C. 0.5 пинты
- D. 1 галлоны

5)



Пипетка держит

- A. 3 галлоны
- B. 1 пинты
- C. меньше, чем 1 чаши
- D. 1 чаши

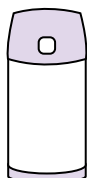
6)



Зубная паста в тюбике

- A. 0.5 чаши
- B. 5 граммов(ма)
- C. 5 кварты
- D. 0.5 галлоны

7)



Жидкость в термосе

- A. 1 галлоны
- B. 1 чаши
- C. 4 кварты
- D. 2 фунтов(та)

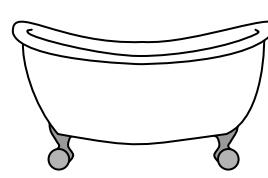
8)



Песок в ведре

- A. 32 галлоны
- B. 1 чаши
- C. 1 галлоны
- D. 7 жидкие унции

9)



Ванна

- A. 20 пинты
- B. 45 галлоны
- C. 40 чаши
- D. 8 кварты

- 1. D
- 2. B
- 3. C
- 4. D
- 5. C
- 6. A
- 7. B
- 8. C
- 9. B



Определите под какой буквой объем представлен наиболее верно.

ОТВЕТЫ

Xícara

Una taza se refiere a la cantidad de leche que se obtiene de la cafetería.



Pinta

Uma pinta é aproximadamente a quantidade que você recebe em um copo grande.
1 pinta = 2 xícaras



Quarto

Um quarto é mais ou menos a quantidade que você consegue em um recipiente grande de leite.
1 cuarto = 2 pintas



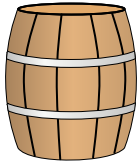
Galón

Un galón es la cantidad que viene en un recipiente de plástico grande.
1 galón = 4 cuartos




1. _____
2. _____
3. _____
4. _____
5. _____
6. _____
7. _____
8. _____
9. _____

1)




Вода в бочке
A. 20 чаши
B. 10 пинты
C. 3 дюймов
D. 50 галлоны

2)



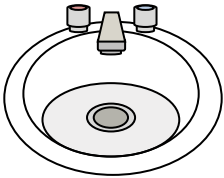
Бензобак в машине
A. 3 кварты
B. 4 пинты
C. 15 галлоны
D. 16 чаши

3)



Отшлифуйте тачку
A. 8 кварты
B. 45 галлоны
C. 1000 граммов(ма)
D. 4 чаши

4)



Вода в раковине в ванной
A. 2 жидкие унции
B. 2 галлоны
C. 2 чаши
D. 2 пинты

5)




Жидкость в термосе
A. 1 чаши
B. 1 галлоны
C. 2 фунтов(та)
D. 4 кварты

6)



Жидкость в ложке
A. 1 чаши
B. Less than a cup
C. 1 пинты
D. 1 кварты

7)



Жидкость в кувшине
A. 1 пинты
B. 2 кварты
C. 2 чаши
D. 8 галлоны

8)



Чернила в ручке
A. 1 галлоны
B. 2 пинты
C. меньше, чем 1 чаши
D. 1 кварты

9)



газировка в банке
A. 4 чаши
B. 1.5 чаши
C. 4 пинты
D. 1 галлоны



Определите под какой буквой объем представлен наиболее верно.

ОТВЕТЫ

Xícara

Una taza se refiere a la cantidad de leche que se obtiene de la cafetería.



Pinta

Uma pinta é aproximadamente a quantidade que você recebe em um copo grande.
1 pinta = 2 xícaras



Quarto

Um quarto é mais ou menos a quantidade que você consegue em um recipiente grande de leite.
1 cuarto = 2 pintas




Galón

Un galón es la cantidad que viene en un recipiente de plástico grande.
1 galón = 4 cuartos




1)




Вода в бочке
A. 20 чаши
B. 10 пинты
C. 3 дюймов
D. 50 галлоны

2)



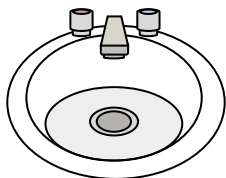
Бензобак в машине
A. 3 кварты
B. 4 пинты
C. 15 галлоны
D. 16 чаши

3)



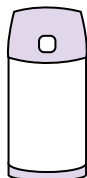
Отшлифуйте тачку
A. 8 кварты
B. 45 галлоны
C. 1000 граммов(ма)
D. 4 чаши

4)



Вода в раковине в ванной
A. 2 жидкие унции
B. 2 галлоны
C. 2 чаши
D. 2 пинты

5)




Жидкость в термосе
A. 1 чаши
B. 1 галлоны
C. 2 фунтов(та)
D. 4 кварты

6)



Жидкость в ложке
A. 1 чаши
B. Less than a cup
C. 1 пинты
D. 1 кварты

7)



Жидкость в кувшине
A. 1 пинты
B. 2 кварты
C. 2 чаши
D. 8 галлоны

8)



Чернила в ручке
A. 1 галлоны
B. 2 пинты
C. меньше, чем 1 чаши
D. 1 кварты

9)



газировка в банке
A. 4 чаши
B. 1.5 чаши
C. 4 пинты
D. 1 галлоны

1. **D**
2. **C**
3. **B**
4. **B**
5. **A**
6. **B**
7. **B**
8. **C**
9. **B**



Определите под какой буквой объем представлен наиболее верно.

ОТВЕТЫ

Xícara

Una taza se refiere a la cantidad de leche que se obtiene de la cafetería.



Pinta

Uma pinta é aproximadamente a quantidade que você recebe em um copo grande.
1 pinta = 2 xícaras



Quarto

Um quarto é mais ou menos a quantidade que você consegue em um recipiente grande de leite.
1 cuarto = 2 pintas




Galón


Un galón es la cantidad que viene en un recipiente de plástico grande.
1 galón = 4 cuartos



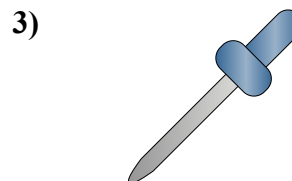
1. _____
2. _____
3. _____
4. _____
5. _____
6. _____
7. _____
8. _____
9. _____



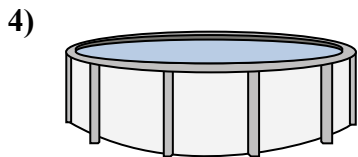
Ванна
A. 40 чаши
B. 20 пинты
C. 45 галлоны
D. 8 кварта



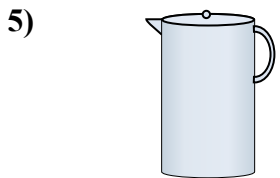
Песок в ведре
A. 32 галлоны
B. 1 галлоны
C. 1 чаши
D. 7 жидкие унции



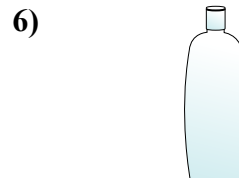
Пипетка держит
A. 3 галлоны
B. 1 чаши
C. меньше, чем 1 чаши
D. 1 пинты




Вода в бассейне
A. 5000 футов
B. 25 чаши
C. 20 галлоны
D. 3000 галлоны



Жидкость в кувшине
A. 1 пинты
B. 8 галлоны
C. 2 чаши
D. 2 кварта



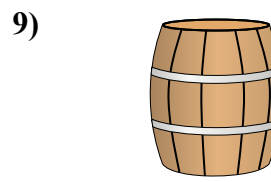
Шампунь во флаконе
A. 0.5 галлоны
B. 100 чаши
C. 1 чаши
D. 2 пинты



Кетчуп в пачке
A. 0.5 галлоны
B. 1.5 пинты
C. меньше, чем 1 чаши
D. 2 кварта



Вода для комнатного растения
A. 6 кварта
B. 4 фунтов(та)
C. 2 чаши
D. 3 галлоны



Вода в бочке
A. 3 дюймов
B. 10 пинты
C. 20 чаши
D. 50 галлоны



Определите под какой буквой объем представлен наиболее верно.

ОТВЕТЫ

Xícara

Una taza se refiere a la cantidad de leche que se obtiene de la cafetería.



Pinta

Uma pinta é aproximadamente a quantidade que você recebe em um copo grande.
1 pinta = 2 xícaras



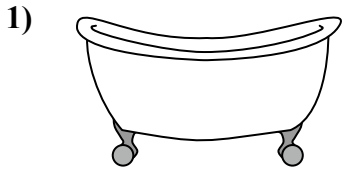
Quarto

Um quarto é mais ou menos a quantidade que você consegue em um recipiente grande de leite.
1 cuarto = 2 pintas



Galón

Un galón es la cantidad que viene en un recipiente de plástico grande.
1 galón = 4 cuartos




Ванна

- A. 40 чаши
- B. 20 пинты
- C. 45 галлоны
- D. 8 кварта



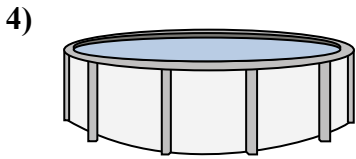
Песок в ведре

- A. 32 галлоны
- B. 1 галлоны
- C. 1 чаши
- D. 7 жидкие унции



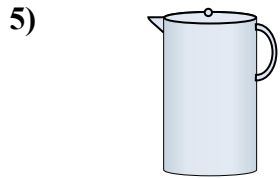
Пипетка держит

- A. 3 галлоны
- B. 1 чаши
- C. меньше, чем 1 чаши
- D. 1 пинты



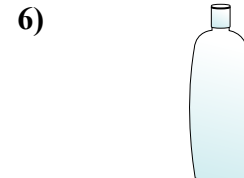
Вода в бассейне

- A. 5000 футов
- B. 25 чаши
- C. 20 галлоны
- D. 3000 галлоны



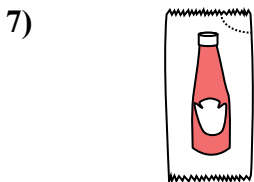
Жидкость в кувшине

- A. 1 пинты
- B. 8 галлоны
- C. 2 чаши
- D. 2 кварта



Шампунь во флаконе

- A. 0.5 галлоны
- B. 100 чаши
- C. 1 чаши
- D. 2 пинты



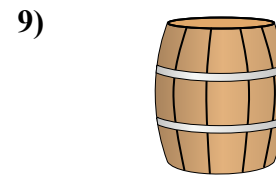
Кетчуп в пачке

- A. 0.5 галлоны
- B. 1.5 пинты
- C. меньше, чем 1 чаши
- D. 2 кварта



Вода для комнатного растения

- A. 6 кварта
- B. 4 фунтов(та)
- C. 2 чаши
- D. 3 галлоны



Вода в бочке

- A. 3 дюймов
- B. 10 пинты
- C. 20 чаши
- D. 50 галлоны

- 1. C
- 2. B
- 3. C
- 4. D
- 5. D
- 6. D
- 7. C
- 8. C
- 9. D



Определите под какой буквой объем представлен наиболее верно.

ОТВЕТЫ

Xícara

Una taza se refiere a la cantidad de leche que se obtiene de la cafetería.



Pinta

Uma pinta é aproximadamente a quantidade que você recebe em um copo grande.
1 pinta = 2 xícaras



Quarto

Um quarto é mais ou menos a quantidade que você consegue em um recipiente grande de leite.
1 cuarto = 2 pintas



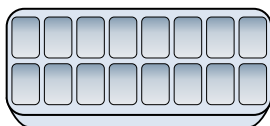
Galón

Un galón es la cantidad que viene en un recipiente de plástico grande.
1 galón = 4 cuartos



1. _____
2. _____
3. _____
4. _____
5. _____
6. _____
7. _____
8. _____
9. _____

1)



Вода в лотке для льда

- A. 10 галлоны
- B. 1 пинты
- C. 4 пинты
- D. 1 галлоны

2)



газировка в банке

- A. 1.5 чаши
- B. 4 чаши
- C. 4 пинты
- D. 1 галлоны


3)



Измерительная чашка

- A. 1 кварта
- B. 1 пинты
- C. 1 галлоны
- D. 1 чаши


4)



Отшлифуйте тачку

- A. 4 чаши
- B. 1000 граммов(ма)
- C. 45 галлоны
- D. 8 кварта


5)



Бензобак в машине

- A. 16 чаши
- B. 4 пинты
- C. 15 галлоны
- D. 3 кварта

6)



Пипетка держит

- A. меньше, чем 1 чаши
- B. 1 чаши
- C. 3 галлоны
- D. 1 пинты

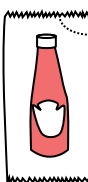
7)



2 литра газировки

- A. 2 чаши
- B. 1 пинты
- C. 0.5 галлоны
- D. 5 галлоны

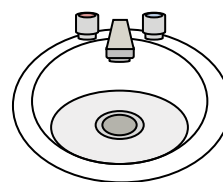
8)



Кетчуп в пачке

- A. 0.5 галлоны
- B. меньше, чем 1 чаши
- C. 1.5 пинты
- D. 2 кварта

9)



Вода в раковине в ванной

- A. 2 чаши
- B. 2 галлоны
- C. 2 пинты
- D. 2 жидкие унции



Определите под какой буквой объем представлен наиболее верно.

ОТВЕТЫ

Xícara

Una taza se refiere a la cantidad de leche que se obtiene de la cafetería.



Pinta

Uma pinta é aproximadamente a quantidade que você recebe em um copo grande.
1 pinta = 2 xícaras



Quarto

Um quarto é mais ou menos a quantidade que você consegue em um recipiente grande de leite.
1 cuarto = 2 pintas

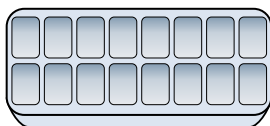


Galón

Un galón es la cantidad que viene en un recipiente de plástico grande.
1 galón = 4 cuartos



1)



Вода в лотке для льда

- A. 10 галлоны
- B. 1 пинты
- C. 4 пинты
- D. 1 галлоны

2)



газировка в банке

- A. 1.5 чаши
- B. 4 чаши
- C. 4 пинты
- D. 1 галлоны


3)



Измерительная чашка

- A. 1 кварты
- B. 1 пинты
- C. 1 галлоны
- D. 1 чаши


4)



Отшлифуйте тачку

- A. 4 чаши
- B. 1000 граммов(ма)
- C. 45 галлоны
- D. 8 кварты


5)



Бензобак в машине

- A. 16 чаши
- B. 4 пинты
- C. 15 галлоны
- D. 3 кварты

6)



Пипетка держит

- A. меньше, чем 1 чаши
- B. 1 чаши
- C. 3 галлоны
- D. 1 пинты

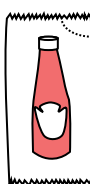
7)



2 литра газировки

- A. 2 чаши
- B. 1 пинты
- C. 0.5 галлоны
- D. 5 галлоны

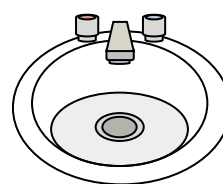
8)



Кетчуп в пачке

- A. 0.5 галлоны
- B. меньше, чем 1 чаши
- C. 1.5 пинты
- D. 2 кварты

9)



Вода в раковине в ванной

- A. 2 чаши
- B. 2 галлоны
- C. 2 пинты
- D. 2 жидкие унции

1. B

2. A

3. D

4. C

5. C

6. A

7. C

8. B

9. B



Определите под какой буквой объем представлен наиболее верно.

ОТВЕТЫ

Xícara

Una taza se refiere a la cantidad de leche que se obtiene de la cafetería.



Pinta

Uma pinta é aproximadamente a quantidade que você recebe em um copo grande.
1 pinta = 2 xícaras



Quarto

Um quarto é mais ou menos a quantidade que você consegue em um recipiente grande de leite.
1 cuarto = 2 pintas




Galón

Un galón es la cantidad que viene en un recipiente de plástico grande.
1 galón = 4 cuartos



1. _____
2. _____
3. _____
4. _____
5. _____
6. _____
7. _____
8. _____
9. _____


1)



Ванна

- A. 40 чаши
- B. 8 кварталы
- C. 20 пинты
- D. 45 галлоны


2)



Пипетка держит

- A. 1 пинты
- B. 3 галлоны
- C. меньше, чем 1 чаши
- D. 1 чаши

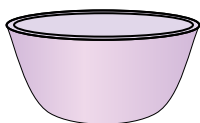
3)



Жидкость в кувшине

- A. 2 чаши
- B. 1 пинты
- C. 2 кварталы
- D. 8 галлоны

4)



Чаша для хлопьев

- A. 0.5 галлоны
- B. 4 пинты
- C. 2 галлоны
- D. 1 пинты

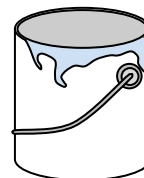
5)



Жидкость в ложке

- A. Less than a cup
- B. 1 чаши
- C. 1 пинты
- D. 1 кварталы

6)



Краска в банке

- A. 3 жидкие унции
- B. 1 галлоны
- C. 1 чаши
- D. 0.5 пинты


7)



2 литра газировки

- A. 0.5 галлоны
- B. 5 галлоны
- C. 1 пинты
- D. 2 чаши


8)



газировка в банке

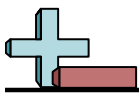
- A. 4 чаши
- B. 1.5 чаши
- C. 4 пинты
- D. 1 галлоны

9)



Ледяной сундук

- A. 100 кварталы
- B. 16 чаши
- C. 5 галлоны
- D. 2 кварталы



Определите под какой буквой объем представлен наиболее верно.

ОТВЕТЫ

Xicara

Una taza se refiere a la cantidad de leche que se obtiene de la cafetería.



Pinta

Uma pinta é aproximadamente a quantidade que você recebe em um copo grande.
1 pinta = 2 xícaras



Quarto

Um quarto é mais ou menos a quantidade que você consegue em um recipiente grande de leite.
1 cuarto = 2 pintas



Galón

Un galón es la cantidad que viene en un recipiente de plástico grande.
1 galón = 4 cuartos



1. **D**

2. **C**

3. **C**

4. **D**

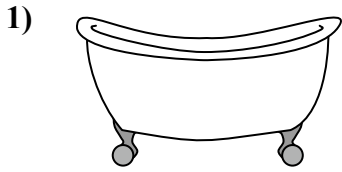
5. **A**

6. **B**

7. **A**


8. **B**

9. **A**



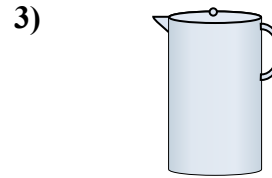
Ванна

- A. 40 чаши
- B. 8 кварталы
- C. 20 пинты
- D. 45 галлоны




Пипетка держит

- A. 1 пинты
- B. 3 галлоны
- C. меньше, чем 1 чаши
- D. 1 чаши



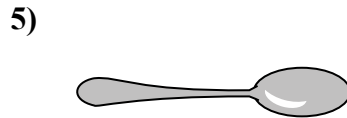
Жидкость в кувшине

- A. 2 чаши
- B. 1 пинты
- C. 2 кварталы
- D. 8 галлоны



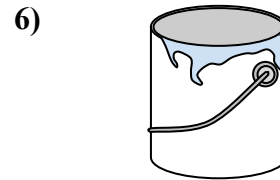
Чаша для хлопьев

- A. 0.5 галлоны
- B. 4 пинты
- C. 2 галлоны
- D. 1 пинты



Жидкость в ложке

- A. Less than a cup
- B. 1 чаши
- C. 1 пинты
- D. 1 кварталы



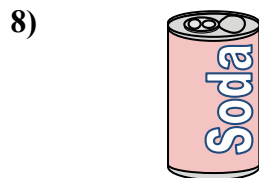
Краска в банке

- A. 3 жидкие унции
- B. 1 галлоны
- C. 1 чаши
- D. 0.5 пинты



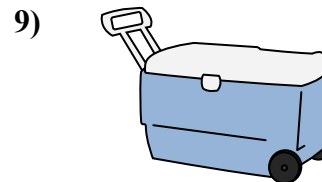
2 литра газировки

- A. 0.5 галлоны
- B. 5 галлоны
- C. 1 пинты
- D. 2 чаши



газировка в банке

- A. 4 чаши
- B. 1.5 чаши
- C. 4 пинты
- D. 1 галлоны



Ледяной сундук

- A. 100 кварталы
- B. 16 чаши
- C. 5 галлоны
- D. 2 кварталы