




Определите под какой буквой объем представлен наиболее верно.

**Milliliter**

Un mililitro equivale a unas 20 gotas de agua. Muchas botellas grandes de refrescos tienen 1 o 2 litros.


**Liter**

1 Liter = 1,000 Milliliters

**ОТВЕТЫ**

1. \_\_\_\_\_
2. \_\_\_\_\_
3. \_\_\_\_\_
4. \_\_\_\_\_
5. \_\_\_\_\_
6. \_\_\_\_\_
7. \_\_\_\_\_
8. \_\_\_\_\_
9. \_\_\_\_\_

1)



Измерительная чашка

- A. 237 литров(ра)
- B. 1 литров(ра)
- C. 237 миллилитров(ра)
- D. 50 миллилитров(ра)


2)



Вода для комнатного растения

- A. 3 литров(ра)
- B. 80 литров(ра)
- C. 500 миллилитров(ра)
- D. 2 миллилитров(ра)

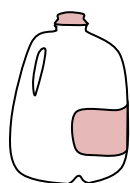
3)



Бензобак в машине

- A. 3 литров(ра)
- B. 60 литров(ра)
- C. 15 миллилитров(ра)
- D. 70 миллилитров(ра)

4)



Галлон молока

- A. 750 миллилитров(ра)
- B. 3.75 литров(ра)
- C. 1 литров(ра)
- D. 50 миллилитров(ра)

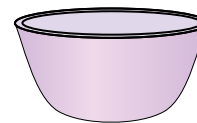
5)



Мука в пачке печенья

- A. 350 миллилитров(ра)
- B. 1 milliliter
- C. 2 литров(ра)
- D. 10 миллилитров(ра)


6)



Чаша для хлопьев

- A. 475 миллилитров(ра)
- B. 1 milliliter
- C. 50 миллилитров(ра)
- D. 2 литров(ра)


7)



Ледяной сундук

- A. 100 литров(ра)
- B. 200 миллилитров(ра)
- C. 100 миллилитров(ра)
- D. 20 миллилитров(ра)

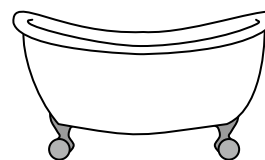
8)



газировка в банке

- A. 350 миллилитров(ра)
- B. 350 литров(ра)
- C. 2 миллилитров(ра)
- D. 2 литров(ра)

9)



Ванна


- A. 170 литров(ра)
- B. 3 литров(ра)
- C. 500 миллилитров(ра)
- D. 5 миллилитров(ра)



Определите под какой буквой объем представлен наиболее верно.

**Milliliter**


Un mililitro equivale a unas 20 gotas de agua. Muchas botellas grandes de refrescos tienen 1 o 2 litros.

**Liter**

1 Liter = 1,000 Milliliters

**ОТВЕТЫ**1. **C**2. **C**3. **B**4. **B**5. **A**6. **A**7. **A**8. **A**9. **A**

1)



Измерительная чашка

- A. 237 литров(ра)
- B. 1 литров(ра)
- C. 237 миллилитров(ра)
- D. 50 миллилитров(ра)


2)



Вода для комнатного растения

- A. 3 литров(ра)
- B. 80 литров(ра)
- C. 500 миллилитров(ра)
- D. 2 миллилитров(ра)

3)



Бензобак в машине

- A. 3 литров(ра)
- B. 60 литров(ра)
- C. 15 миллилитров(ра)
- D. 70 миллилитров(ра)

4)



Галлон молока

- A. 750 миллилитров(ра)
- B. 3.75 литров(ра)
- C. 1 литров(ра)
- D. 50 миллилитров(ра)

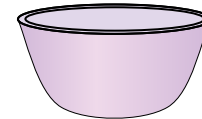
5)



Мука в пачке печенья

- A. 350 миллилитров(ра)
- B. 1 milliliter
- C. 2 литров(ра)
- D. 10 миллилитров(ра)


6)



Чаша для хлопьев

- A. 475 миллилитров(ра)
- B. 1 milliliter
- C. 50 миллилитров(ра)
- D. 2 литров(ра)


7)



Ледяной сундук

- A. 100 литров(ра)
- B. 200 миллилитров(ра)
- C. 100 миллилитров(ра)
- D. 20 миллилитров(ра)

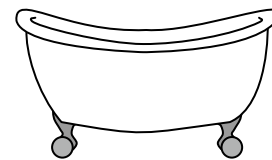
8)



газировка в банке

- A. 350 миллилитров(ра)
- B. 350 литров(ра)
- C. 2 миллилитров(ра)
- D. 2 литров(ра)

9)



Ванна

- A. 170 литров(ра)
- B. 3 литров(ра)
- C. 500 миллилитров(ра)
- D. 5 миллилитров(ра)