



Определите под какой буквой объем представлен наиболее верно.

Milliliter

Un mililitro equivale a unas 20 gotas de agua. Muchas botellas grandes de refrescos tienen 1 o 2 litros.

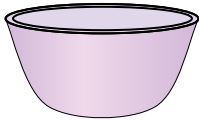
**Liter**

1 Liter = 1,000 Milliliters

**ОТВЕТЫ**

1. _____
2. _____
3. _____
4. _____
5. _____
6. _____
7. _____
8. _____
9. _____


1)



Чаша для хлопьев

- A. 50 миллилитров(ра)
- B. 475 миллилитров(ра)
- C. 1 milliliter
- D. 2 литров(ра)

2)



Пипетка держит

- A. 500 миллилитров(ра)
- B. 1000 миллилитров(ра)
- C. 2 миллилитров(ра)
- D. 2 литров(ра)

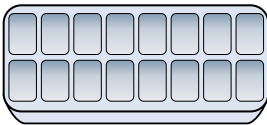
3)



Кафетерий Молоко

- A. 1 литров(ра)
- B. 237 миллилитров(ра)
- C. 237 литров(ра)
- D. 2 литров(ра)


4)



Вода в лотке для льда

- A. 2 миллилитров(ра)
- B. 0.5 литров(ра)
- C. 50 миллилитров(ра)
- D. 2 литров(ра)


5)



газировка в банке

- A. 350 миллилитров(ра)
- B. 2 миллилитров(ра)
- C. 2 литров(ра)
- D. 350 литров(ра)

6)



Бензобак в машине

- A. 15 миллилитров(ра)
- B. 60 литров(ра)
- C. 70 миллилитров(ра)
- D. 3 литров(ра)

7)



Мука на сковороде с пирожными

- A. 3 литров(ра)
- B. 0.5 литров(ра)
- C. 16 литров(ра)
- D. 10 миллилитров(ра)

8)



Вода для комнатного растения

- A. 2 миллилитров(ра)
- B. 3 литров(ра)
- C. 500 миллилитров(ра)
- D. 80 литров(ра)

9)



Шампунь во флаконе


- A. 20 литров(ра)
- B. 1.5 литров(ра)
- C. 20 миллилитров(ра)
- D. 1 milliliter



Определите под какой буквой объем представлен наиболее верно.

Milliliter

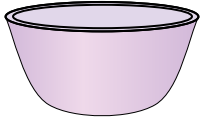
Un mililitro equivale a unas 20 gotas de agua. Muchas botellas grandes de refrescos tienen 1 o 2 litros.

**Liter**

1 Liter = 1,000 Milliliters

**ОТВЕТЫ**


1)



Чаша для хлопьев

- A. 50 миллилитров(ра)
- B. 475 миллилитров(ра)
- C. 1 milliliter
- D. 2 литров(ра)

2)



Пипетка держит

- A. 500 миллилитров(ра)
- B. 1000 миллилитров(ра)
- C. 2 миллилитров(ра)
- D. 2 литров(ра)

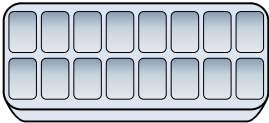
3)



Кафетерий Молоко

- A. 1 литров(ра)
- B. 237 миллилитров(ра)
- C. 237 литров(ра)
- D. 2 литров(ра)


4)



Вода в лотке для льда

- A. 2 миллилитров(ра)
- B. 0.5 литров(ра)
- C. 50 миллилитров(ра)
- D. 2 литров(ра)


5)



газировка в банке

- A. 350 миллилитров(ра)
- B. 2 миллилитров(ра)
- C. 2 литров(ра)
- D. 350 литров(ра)

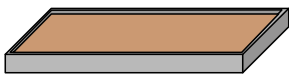
6)



Бензобак в машине

- A. 15 миллилитров(ра)
- B. 60 литров(ра)
- C. 70 миллилитров(ра)
- D. 3 литров(ра)

7)



Мука на сковороде с пирожными

- A. 3 литров(ра)
- B. 0.5 литров(ра)
- C. 16 литров(ра)
- D. 10 миллилитров(ра)

8)



Вода для комнатного растения

- A. 2 миллилитров(ра)
- B. 3 литров(ра)
- C. 500 миллилитров(ра)
- D. 80 литров(ра)

9)



Шампунь во флаконе

- A. 20 литров(ра)
- B. 1.5 литров(ра)
- C. 20 миллилитров(ра)
- D. 1 milliliter

1. **B**
2. **C**
3. **B**
4. **B**
5. **A**
6. **B**
7. **B**
8. **C**
9. **B**