




Определите под какой буквой объем представлен наиболее верно.

Milliliter

Un mililitro equivale a unas 20 gotas de agua. Muchas botellas grandes de refrescos tienen 1 o 2 litros.


**Liter**

1 Liter = 1,000 Milliliters

**ОТВЕТЫ**

1. _____
2. _____
3. _____
4. _____
5. _____
6. _____
7. _____
8. _____
9. _____

1)



Жидкость в кувшине

- A. 5 литров(ра)
- B. 20 миллилитров(ра)
- C. 1 литров(ра)
- D. 500 миллилитров(ра)

2)



Мука на сковороде с пирожными

- A. 3 литров(ра)
- B. 0.5 литров(ра)
- C. 10 миллилитров(ра)
- D. 16 литров(ра)


3)



Жидкость в чайной чашке

- A. 2 миллилитров(ра)
- B. 2 литров(ра)
- C. 250 миллилитров(ра)
- D. 5 литров(ра)


4)



Пипетка держит

- A. 1000 миллилитров(ра)
- B. 2 литров(ра)
- C. 500 миллилитров(ра)
- D. 2 миллилитров(ра)

5)



Отшлифуйте тачку

- A. 50 миллилитров(ра)
- B. 500 миллилитров(ра)
- C. 3 литров(ра)
- D. 170 литров(ра)

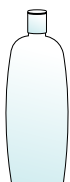
6)



Измерительная чашка

- A. 1 литров(ра)
- B. 237 литров(ра)
- C. 50 миллилитров(ра)
- D. 237 миллилитров(ра)

7)



Шампунь во флаконе

- A. 1 milliliter
- B. 20 миллилитров(ра)
- C. 1.5 литров(ра)
- D. 20 литров(ра)

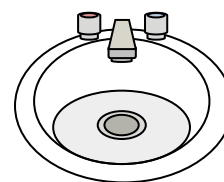
8)



Бензобак в машине

- A. 60 литров(ра)
- B. 15 миллилитров(ра)
- C. 70 миллилитров(ра)
- D. 3 литров(ра)

9)



Вода в раковине в ванной


- A. 10 миллилитров(ра)
- B. 2 литров(ра)
- C. 500 миллилитров(ра)
- D. 7.5 литров(ра)



Определите под какой буквой объем представлен наиболее верно.

Milliliter


Un mililitro equivale a unas 20 gotas de agua. Muchas botellas grandes de refrescos tienen 1 o 2 litros.

**Liter**

1 Liter = 1,000 Milliliters

**ОТВЕТЫ**1. **A**2. **B**3. **C**4. **D**5. **D**6. **D**7. **C**8. **A**9. **D**

1)



Жидкость в кувшине

- A. 5 литров(ра)
- B. 20 миллилитров(ра)
- C. 1 литров(ра)
- D. 500 миллилитров(ра)

2)



Мука на сковороде с пирожными

- A. 3 литров(ра)
- B. 0.5 литров(ра)
- C. 10 миллилитров(ра)
- D. 16 литров(ра)

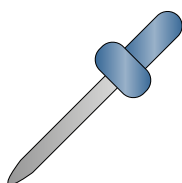
3)



Жидкость в чайной чашке

- A. 2 миллилитров(ра)
- B. 2 литров(ра)
- C. 250 миллилитров(ра)
- D. 5 литров(ра)


4)



Пипетка держит

- A. 1000 миллилитров(ра)
- B. 2 литров(ра)
- C. 500 миллилитров(ра)
- D. 2 миллилитров(ра)

5)



Отшлифуйте тачку

- A. 50 миллилитров(ра)
- B. 500 миллилитров(ра)
- C. 3 литров(ра)
- D. 170 литров(ра)

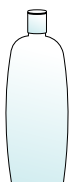
6)



Измерительная чашка

- A. 1 литров(ра)
- B. 237 литров(ра)
- C. 50 миллилитров(ра)
- D. 237 миллилитров(ра)


7)



Шампунь во флаконе

- A. 1 milliliter
- B. 20 миллилитров(ра)
- C. 1.5 литров(ра)
- D. 20 литров(ра)

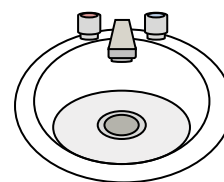
8)



Бензобак в машине

- A. 60 литров(ра)
- B. 15 миллилитров(ра)
- C. 70 миллилитров(ра)
- D. 3 литров(ра)

9)



Вода в раковине в ванной

- A. 10 миллилитров(ра)
- B. 2 литров(ра)
- C. 500 миллилитров(ра)
- D. 7.5 литров(ра)