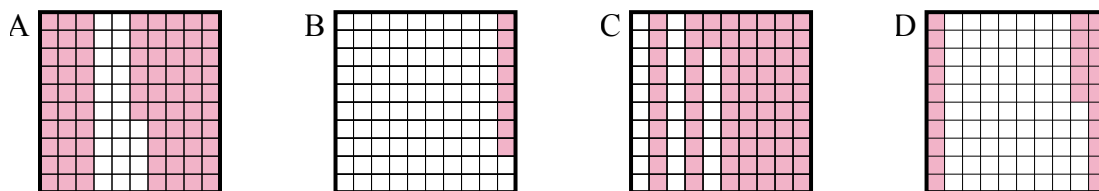




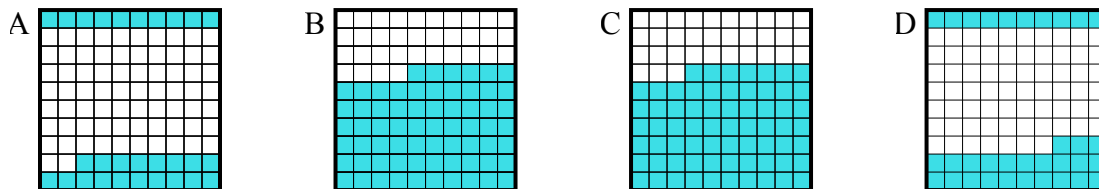
Определите, под какой буквой находится правильный ответ.

**Ответы**

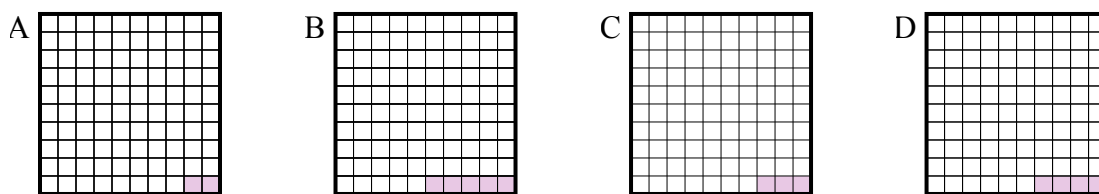
- 1) Что нужно прибавить в решетке  $10 \times 10$ , которая представляет десятичную дробь, чтобы после прибавления  $0,75$ , ответ получился  $1,00$ ?



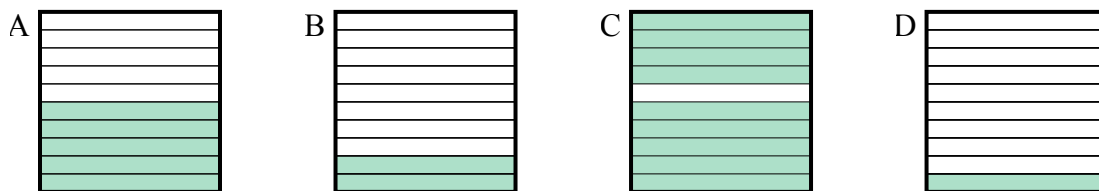
- 2) Что нужно прибавить в решетке  $10 \times 10$ , которая представляет десятичную дробь, чтобы после прибавления  $0,67$ , ответ получился  $1,00$ ?



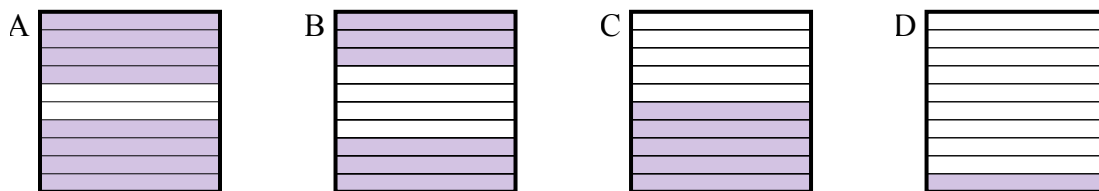
- 3) Что нужно прибавить в решетке  $10 \times 10$ , которая представляет десятичную дробь, чтобы после прибавления  $0,97$ , ответ получился  $1,00$ ?



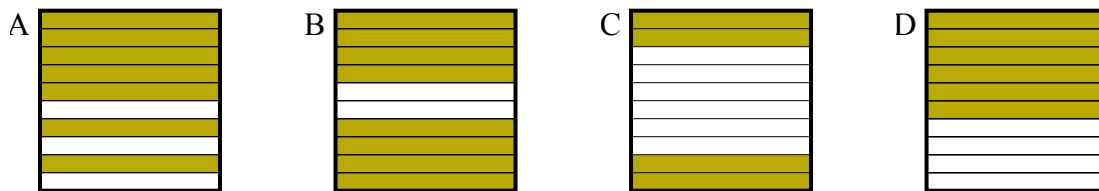
- 4) Что нужно прибавить в решетке  $10 \times 1$ , которая представляет десятичную дробь, чтобы после прибавления  $0,1$ , ответ получился  $1,00$ ?



- 5) Что нужно прибавить в решетке  $10 \times 1$ , которая представляет десятичную дробь, чтобы после прибавления  $0,2$ , ответ получился  $1,00$ ?



- 6) Что нужно прибавить в решетке  $10 \times 1$ , которая представляет десятичную дробь, чтобы после прибавления  $0,6$ , ответ получился  $1,00$ ?

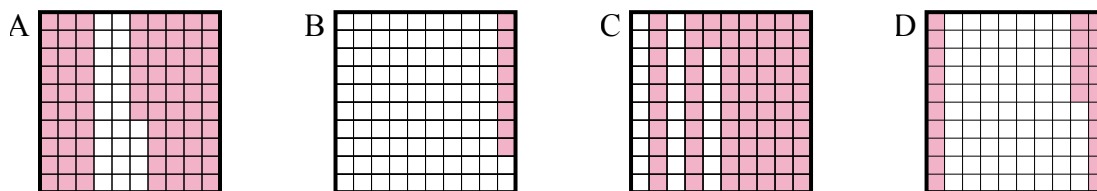


1. \_\_\_\_\_
2. \_\_\_\_\_
3. \_\_\_\_\_
4. \_\_\_\_\_
5. \_\_\_\_\_
6. \_\_\_\_\_

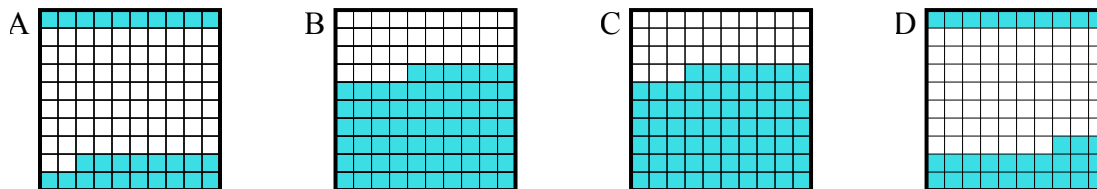


Определите, под какой буквой находится правильный ответ.

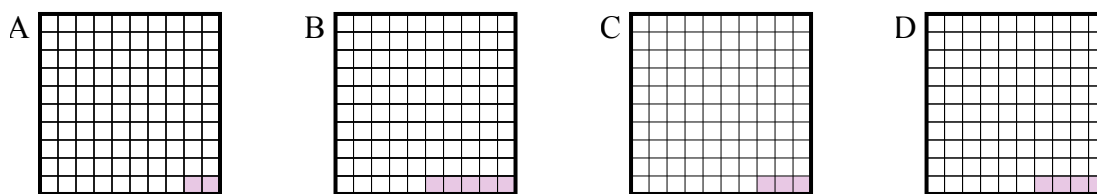
- 1) Что нужно прибавить в решетке  $10 \times 10$ , которая представляет десятичную дробь, чтобы после прибавления  $0,75$ , ответ получился  $1,00$ ?



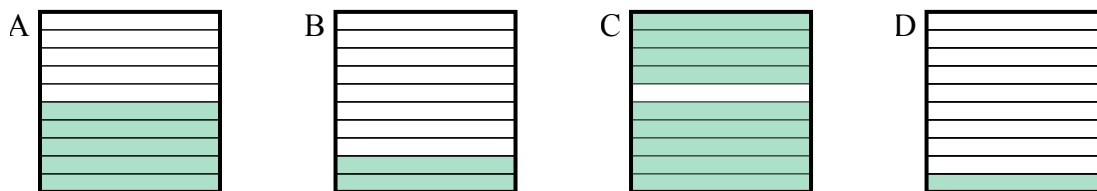
- 2) Что нужно прибавить в решетке  $10 \times 10$ , которая представляет десятичную дробь, чтобы после прибавления  $0,67$ , ответ получился  $1,00$ ?



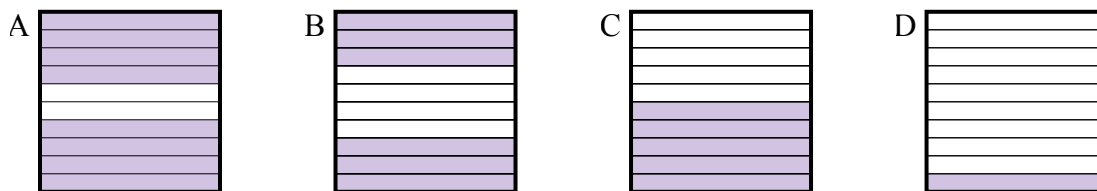
- 3) Что нужно прибавить в решетке  $10 \times 10$ , которая представляет десятичную дробь, чтобы после прибавления  $0,97$ , ответ получился  $1,00$ ?



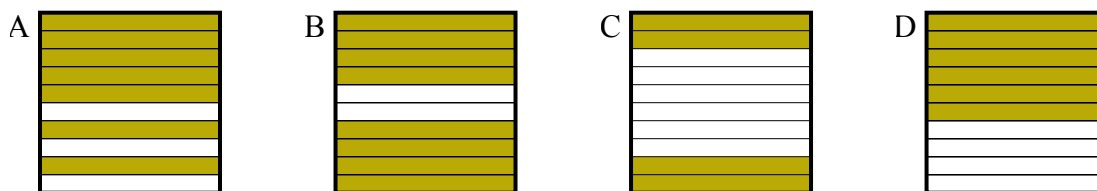
- 4) Что нужно прибавить в решетке  $10 \times 1$ , которая представляет десятичную дробь, чтобы после прибавления  $0,1$ , ответ получился  $1,00$ ?



- 5) Что нужно прибавить в решетке  $10 \times 1$ , которая представляет десятичную дробь, чтобы после прибавления  $0,2$ , ответ получился  $1,00$ ?



- 6) Что нужно прибавить в решетке  $10 \times 1$ , которая представляет десятичную дробь, чтобы после прибавления  $0,6$ , ответ получился  $1,00$ ?

Ответы1.     D    2.     D    3.     C    4.     C    5.     A    6.     C