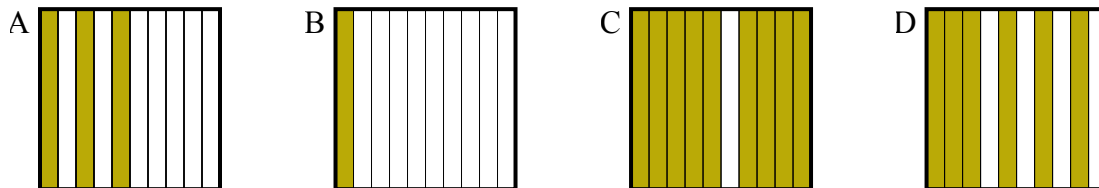




Определите, под какой буквой находится правильный ответ.

**Ответы**

- 1) Что нужно прибавить в решетке  $10 \times 1$ , которая представляет десятичную дробь, чтобы после прибавления 0,9, ответ получился 1,00?

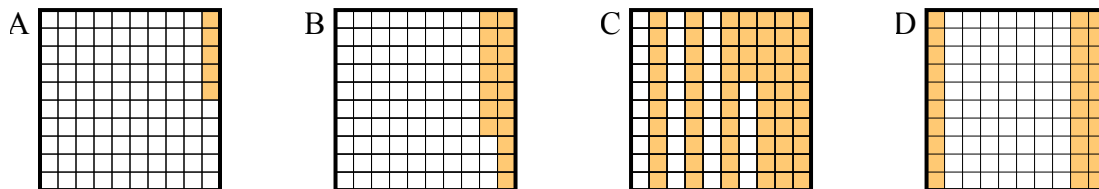


1. \_\_\_\_\_

2. \_\_\_\_\_

3. \_\_\_\_\_

- 2) Что нужно прибавить в решетке  $10 \times 10$ , которая представляет десятичную дробь, чтобы после прибавления 0,7, ответ получился 1,00?

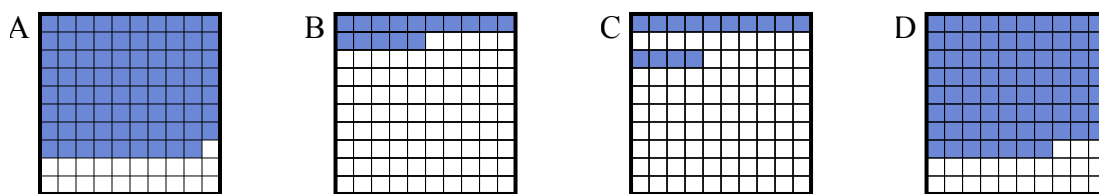


4. \_\_\_\_\_

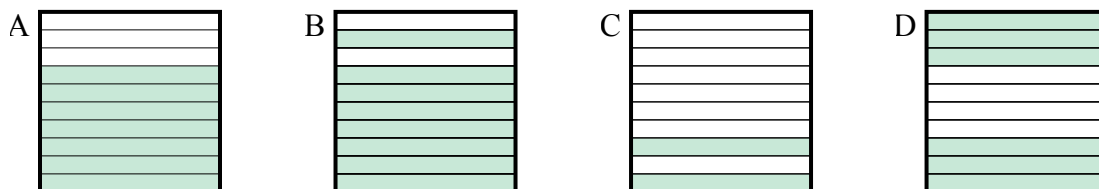
5. \_\_\_\_\_

6. \_\_\_\_\_

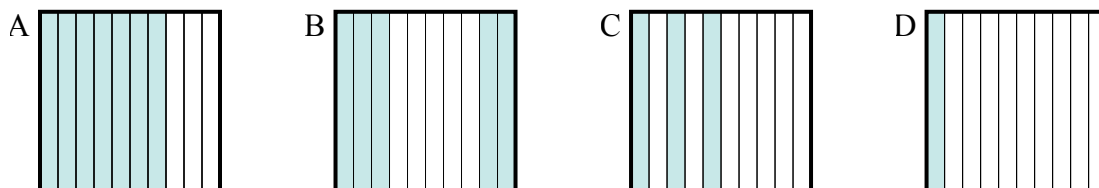
- 3) Что нужно прибавить в решетке  $10 \times 10$ , которая представляет десятичную дробь, чтобы после прибавления 0,21, ответ получился 1,00?



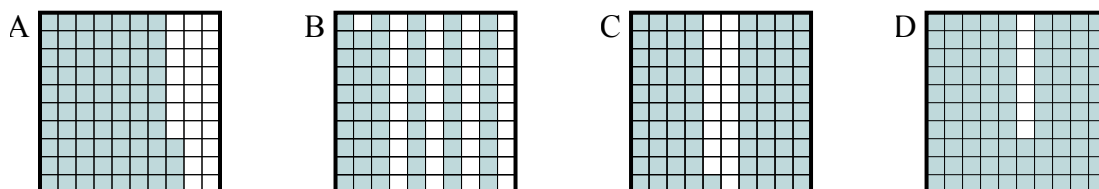
- 4) Что нужно прибавить в решетке  $10 \times 1$ , которая представляет десятичную дробь, чтобы после прибавления 0,3, ответ получился 1,00?



- 5) Что нужно прибавить в решетке  $10 \times 1$ , которая представляет десятичную дробь, чтобы после прибавления 0,5, ответ получился 1,00?



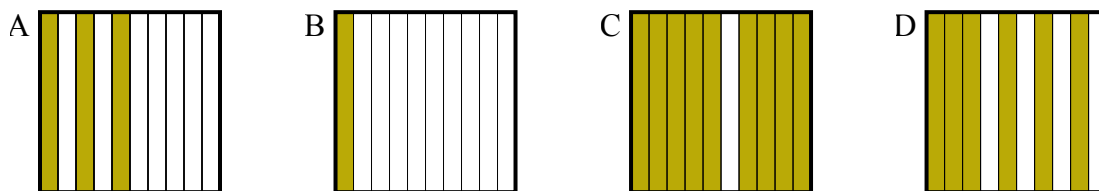
- 6) Что нужно прибавить в решетке  $10 \times 10$ , которая представляет десятичную дробь, чтобы после прибавления 0,07, ответ получился 1,00?



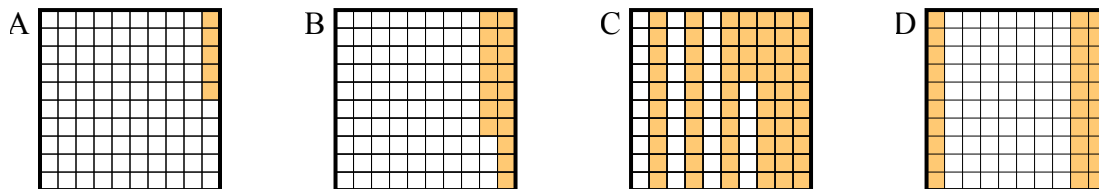


Определите, под какой буквой находится правильный ответ.

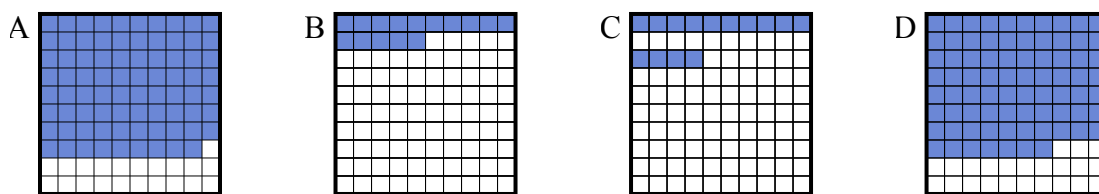
- 1) Что нужно прибавить в решетке  $10 \times 1$ , которая представляет десятичную дробь, чтобы после прибавления  $0,9$ , ответ получился  $1,00$ ?



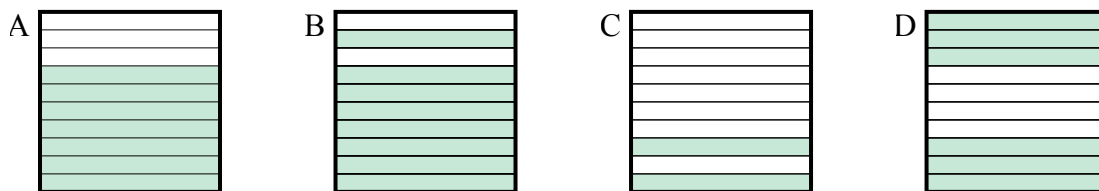
- 2) Что нужно прибавить в решетке  $10 \times 10$ , которая представляет десятичную дробь, чтобы после прибавления  $0,7$ , ответ получился  $1,00$ ?



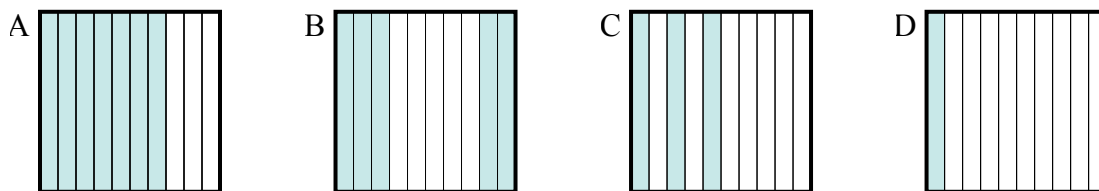
- 3) Что нужно прибавить в решетке  $10 \times 10$ , которая представляет десятичную дробь, чтобы после прибавления  $0,21$ , ответ получился  $1,00$ ?



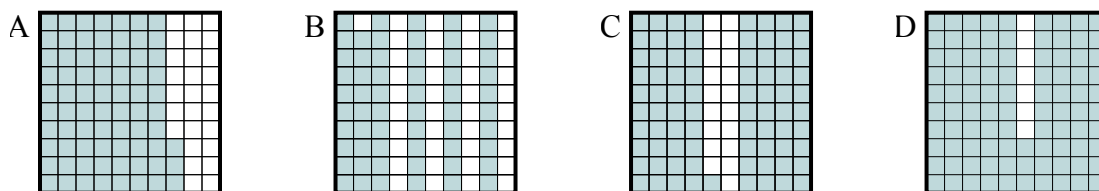
- 4) Что нужно прибавить в решетке  $10 \times 1$ , которая представляет десятичную дробь, чтобы после прибавления  $0,3$ , ответ получился  $1,00$ ?



- 5) Что нужно прибавить в решетке  $10 \times 1$ , которая представляет десятичную дробь, чтобы после прибавления  $0,5$ , ответ получился  $1,00$ ?



- 6) Что нужно прибавить в решетке  $10 \times 10$ , которая представляет десятичную дробь, чтобы после прибавления  $0,07$ , ответ получился  $1,00$ ?

**Ответы**1.       **B**      2.       **D**      3.       **A**      4.       **A**      5.       **B**      6.       **D**