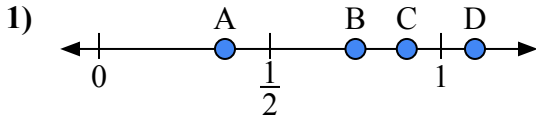
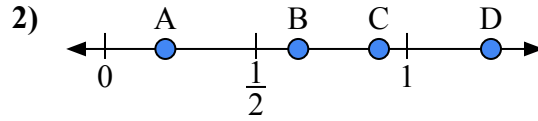




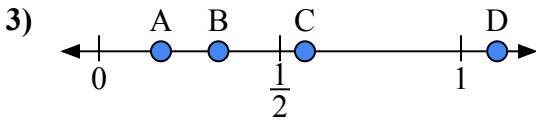
Используйте числовую прямую для ответа на вопрос.

ОТВЕТЫ

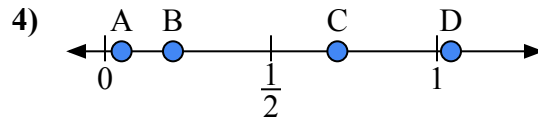
- a) Какая буква наилучшим образом отражает значение 0,90?
b) Какая буква наилучшим образом отражает значение 0,75?



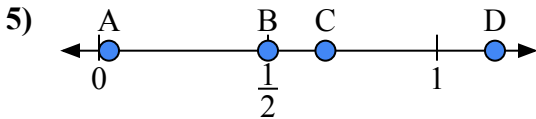
- a) Какая буква наилучшим образом отражает значение 0,2?
b) Какая буква наилучшим образом отражает значение 0,64?



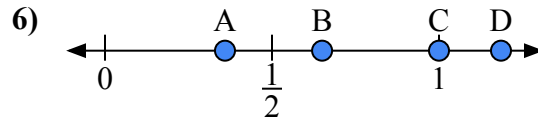
- a) Какая буква наилучшим образом отражает значение 1,10?
b) Какая буква наилучшим образом отражает значение 0,33?



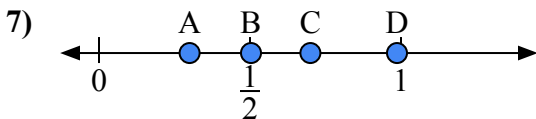
- a) Какая буква наилучшим образом отражает значение 0,70?
b) Какая буква наилучшим образом отражает значение 0,05?



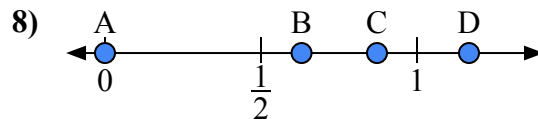
- a) Какая буква наилучшим образом отражает значение 0,50?
b) Какая буква наилучшим образом отражает значение 0,67?



- a) Какая буква наилучшим образом отражает значение 1,00?
b) Какая буква наилучшим образом отражает значение 0,65?



- a) Какая буква наилучшим образом отражает значение 0,3?
b) Какая буква наилучшим образом отражает значение 0,70?

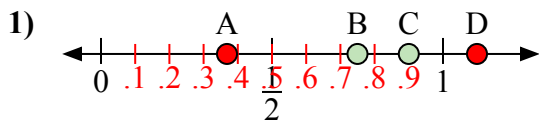


- a) Какая буква наилучшим образом отражает значение 0,00?
b) Какая буква наилучшим образом отражает значение 0,63?

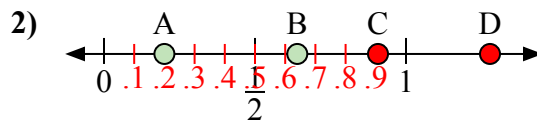
1. _____
2. _____
3. _____
4. _____
5. _____
6. _____
7. _____
8. _____



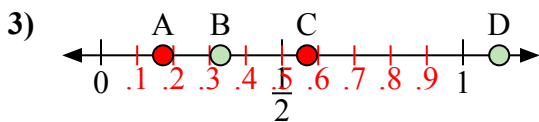
Используйте числовую прямую для ответа на вопрос.

ОТВЕТЫ

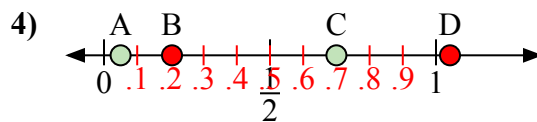
- a) Какая буква наилучшим образом отражает значение 0,90?
b) Какая буква наилучшим образом отражает значение 0,75?



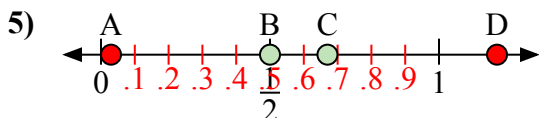
- a) Какая буква наилучшим образом отражает значение 0,2?
b) Какая буква наилучшим образом отражает значение 0,64?



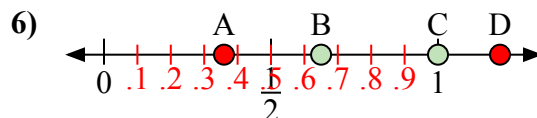
- a) Какая буква наилучшим образом отражает значение 1,10?
b) Какая буква наилучшим образом отражает значение 0,33?



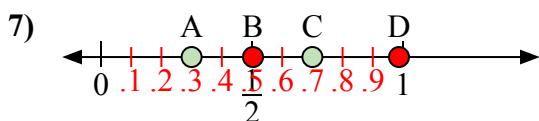
- a) Какая буква наилучшим образом отражает значение 0,70?
b) Какая буква наилучшим образом отражает значение 0,05?



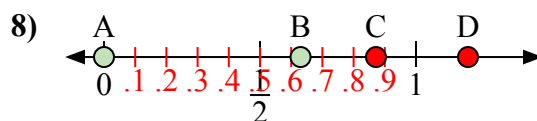
- a) Какая буква наилучшим образом отражает значение 0,50?
b) Какая буква наилучшим образом отражает значение 0,67?



- a) Какая буква наилучшим образом отражает значение 1,00?
b) Какая буква наилучшим образом отражает значение 0,65?



- a) Какая буква наилучшим образом отражает значение 0,3?
b) Какая буква наилучшим образом отражает значение 0,70?



- a) Какая буква наилучшим образом отражает значение 0,00?
b) Какая буква наилучшим образом отражает значение 0,63?

1. C B
2. A B
3. D B
4. C A
5. B C
6. C B
7. A C
8. A B