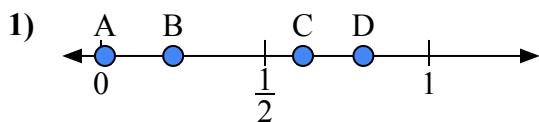
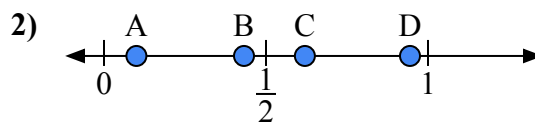




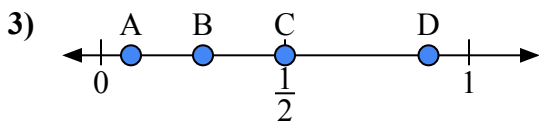
Используйте числовую прямую для ответа на вопрос.

ОТВЕТЫ

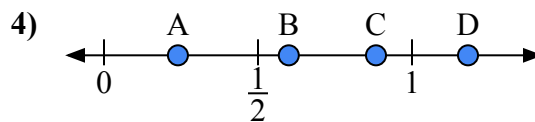
- a) Какая буква наилучшим образом отражает значение 0,80?
b) Какая буква наилучшим образом отражает значение 0,22?



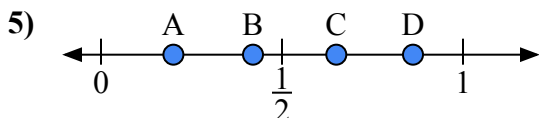
- a) Какая буква наилучшим образом отражает значение 0,1?
b) Какая буква наилучшим образом отражает значение 0,62?



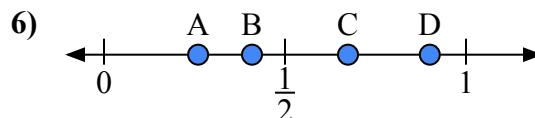
- a) Какая буква наилучшим образом отражает значение 0,5?
b) Какая буква наилучшим образом отражает значение 0,89?



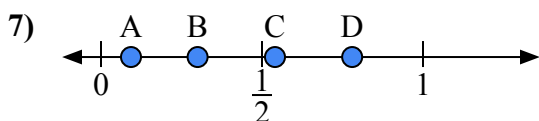
- a) Какая буква наилучшим образом отражает значение 0,6?
b) Какая буква наилучшим образом отражает значение 0,24?



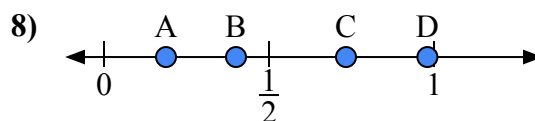
- a) Какая буква наилучшим образом отражает значение 0,20?
b) Какая буква наилучшим образом отражает значение 0,65?



- a) Какая буква наилучшим образом отражает значение 0,90?
b) Какая буква наилучшим образом отражает значение 0,26?



- a) Какая буква наилучшим образом отражает значение 0,3?
b) Какая буква наилучшим образом отражает значение 0,78?

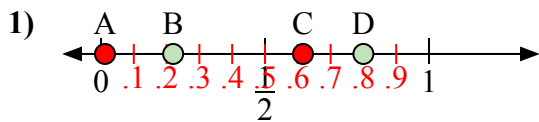


- a) Какая буква наилучшим образом отражает значение 0,40?
b) Какая буква наилучшим образом отражает значение 0,98?

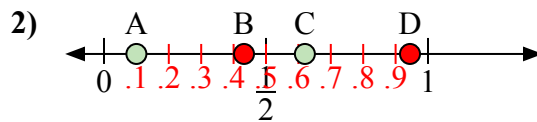
1. _____
2. _____
3. _____
4. _____
5. _____
6. _____
7. _____
8. _____



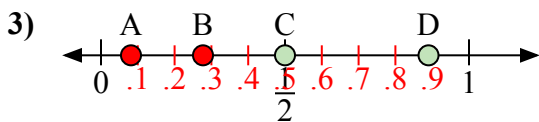
Используйте числовую прямую для ответа на вопрос.

ОТВЕТЫ

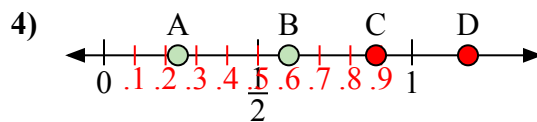
- a) Какая буква наилучшим образом отражает значение 0,80?
b) Какая буква наилучшим образом отражает значение 0,22?



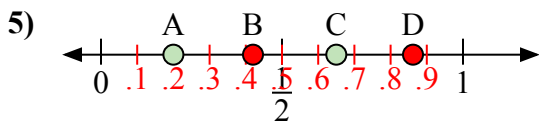
- a) Какая буква наилучшим образом отражает значение 0,1?
b) Какая буква наилучшим образом отражает значение 0,62?



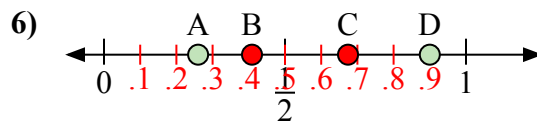
- a) Какая буква наилучшим образом отражает значение 0,5?
b) Какая буква наилучшим образом отражает значение 0,89?



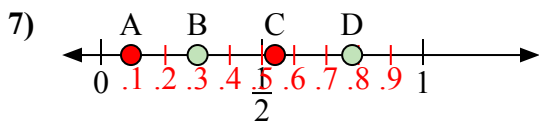
- a) Какая буква наилучшим образом отражает значение 0,6?
b) Какая буква наилучшим образом отражает значение 0,24?



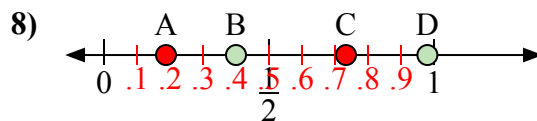
- a) Какая буква наилучшим образом отражает значение 0,20?
b) Какая буква наилучшим образом отражает значение 0,65?



- a) Какая буква наилучшим образом отражает значение 0,90?
b) Какая буква наилучшим образом отражает значение 0,26?



- a) Какая буква наилучшим образом отражает значение 0,3?
b) Какая буква наилучшим образом отражает значение 0,78?



- a) Какая буква наилучшим образом отражает значение 0,40?
b) Какая буква наилучшим образом отражает значение 0,98?

1. D B2. A C3. C D4. B A5. A C6. D A7. B D8. B D